

Запиши го видот на пресликување (трансформација)!

1)



2)



3)



4)



5)



6)



7)

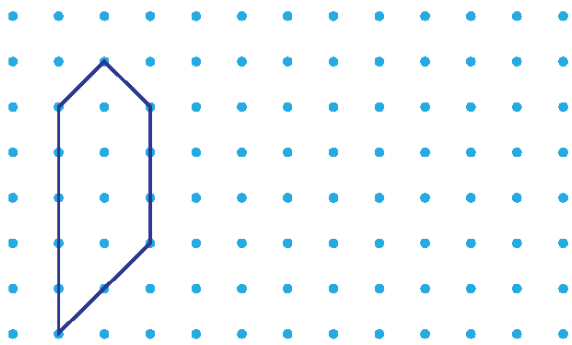


8)

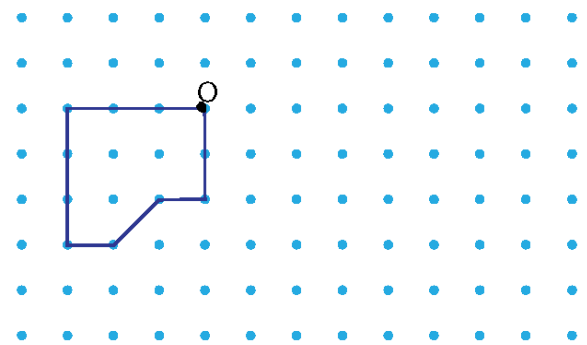


Секоја фигура пресликај ја со дадената трансформација!

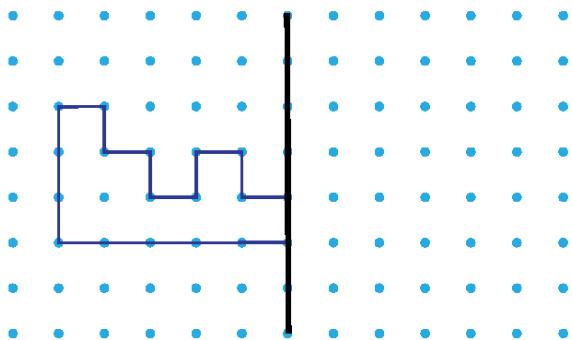
1) транслација 5 единици лево



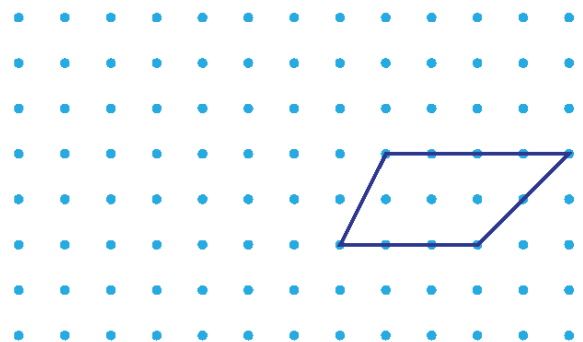
2) ротација со центар во дадена точка, за 90 степени спротивно од насоката на часовникот



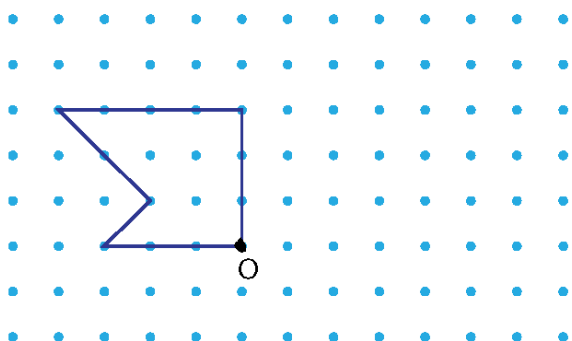
3) симетрија



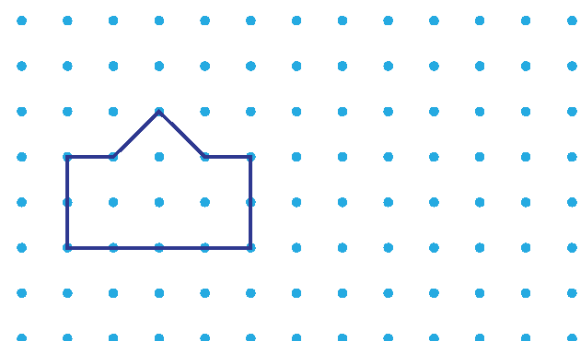
4) Транслација 3 единици горе, 2 лево



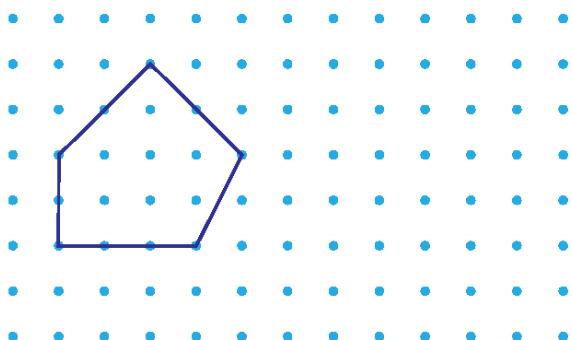
5) ротација со центар во дадена точка, за 90 степени во насока на часовникот



6) транслација 2 единици горе, 3 десно



7) транслација



8) осна симетрија

