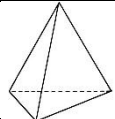
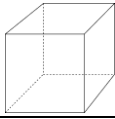
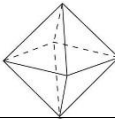
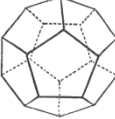
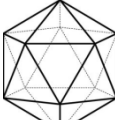


задача 1: За секоја од 3Д формите запиши го бројот на темиња, рабови и сидови.

3Д форма	име	темиња	сидови	рабови
				
				
				
				
				

задача 2: За секоја 3Д форма од активноста 2 провери ја врската помеѓу сидовите, рабовите и темињата на секој од полиедрите.