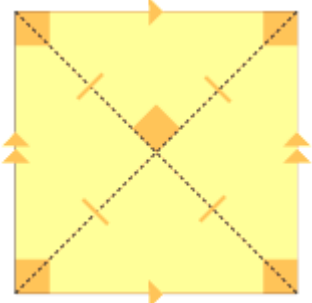
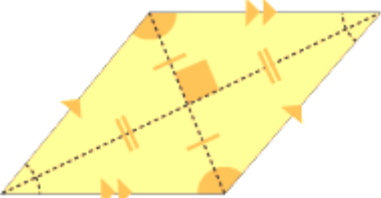
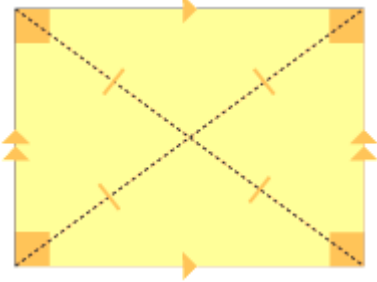
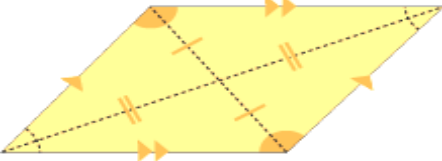
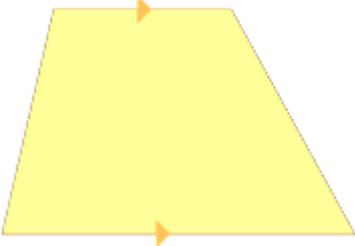
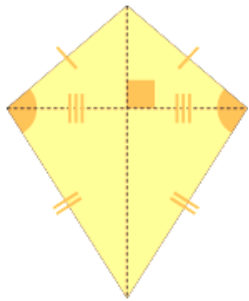


четриаголник	Својства (пополни)
	<p>четриаголникот е:</p> <p>аглите се:</p> <p>страните се:</p> <p>спротивните страни се:</p> <p>колку пара паралелни страни се паралелни?</p> <p>дијагоналите по должина се :</p> <p>Аголот на пресек на дијагоналите е:</p>
	<p>четриаголникот е:</p> <p>аглите се:</p> <p>страните се:</p> <p>спротивните страни се:</p> <p>колку пара паралелни страни се паралелни?</p> <p>дијагоналите по должина се :</p> <p>Аголот на пресек на дијагоналите е:</p>
	<p>четриаголникот е:</p> <p>аглите се:</p> <p>страните се:</p> <p>спротивните страни се:</p> <p>колку пара паралелни страни се паралелни?</p> <p>дијагоналите по должина се :</p> <p>дали дијагоналите се заемно нормални?</p>
	<p>четриаголникот е:</p> <p>аглите се:</p> <p>страните се:</p> <p>спротивните страни се:</p> <p>колку пара паралелни страни се паралелни?</p> <p>дијагоналите по должина се :</p> <p>дали дијагоналите се заемно нормални?</p>
	<p>четриаголникот е:</p> <p>аглите се:</p> <p>страните се:</p> <p>колку пара паралелни страни се паралелни?</p> <p>дијагоналите по должина се :</p> <p>дали дијагоналите се заемно нормални?</p>



четириаголникот е:

аглите се:

страните се:

кои страни се еднакви:

дијагоналите по должина се :

дали дијагоналите се заемно нормални?

