

1. Нацртај

а) рамностран триаголник б) рамнокрак триаголник в) разностран триаголник

2. Нацртај

а) рамнокрак правоаголен триаголник б) рамнокрак тапоаголен триаголник




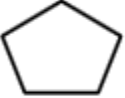
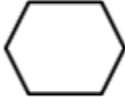




3. Нацртај

а) квадрат б) правоаголник в) ромб г) ромбоид

3. Нацртај

а) трапез б) делтоид

Прилог 36

	2Д форма	име	број на страни	број на агли
1				
2				
3				
4				
5				
6				
7				
8				
9				
10	