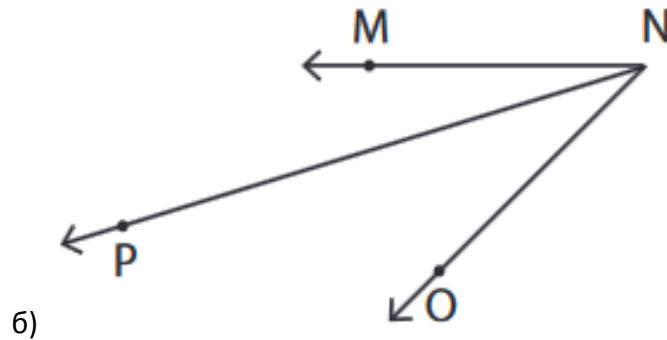
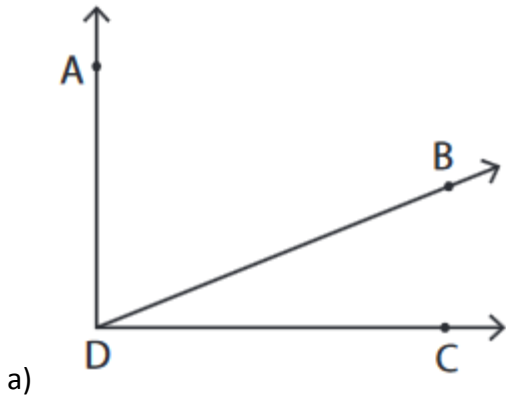
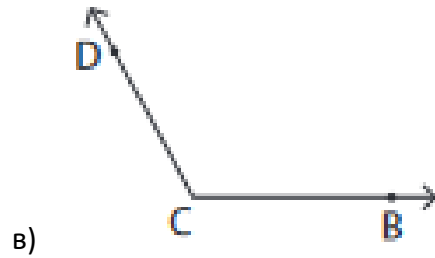
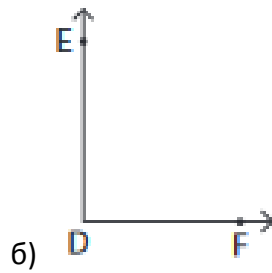
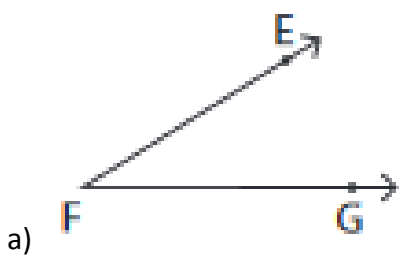


1. Запиши ги сите агли



2. Запиши од кој вид е аголот и запиши го темето и полуправите



3. Нацртај

- а) рамен агол б) полн агол

4. Нацртај агол со дадена големина

- а) $\angle ABC = 40^\circ$ б) $\angle MNP = 54^\circ$ в) $\angle QRS = 125^\circ$ в) $\angle KLI = 225^\circ$