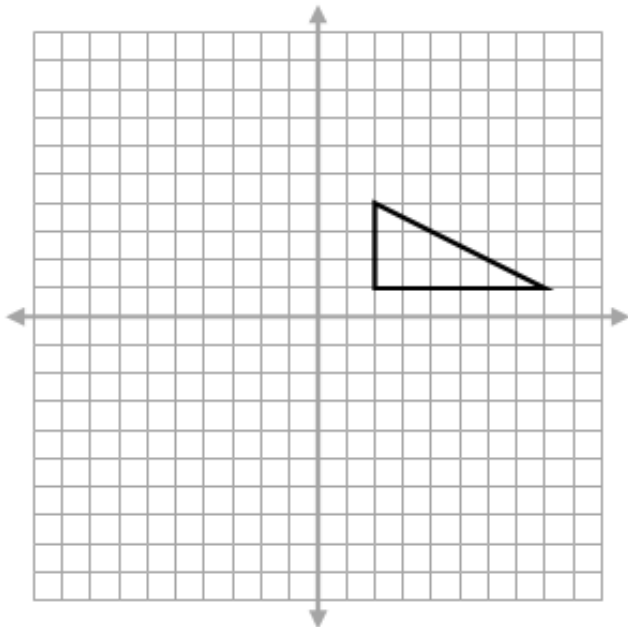
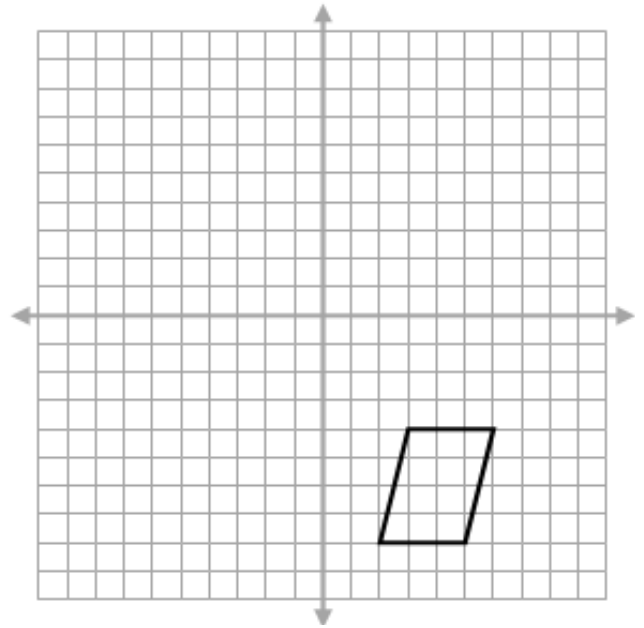


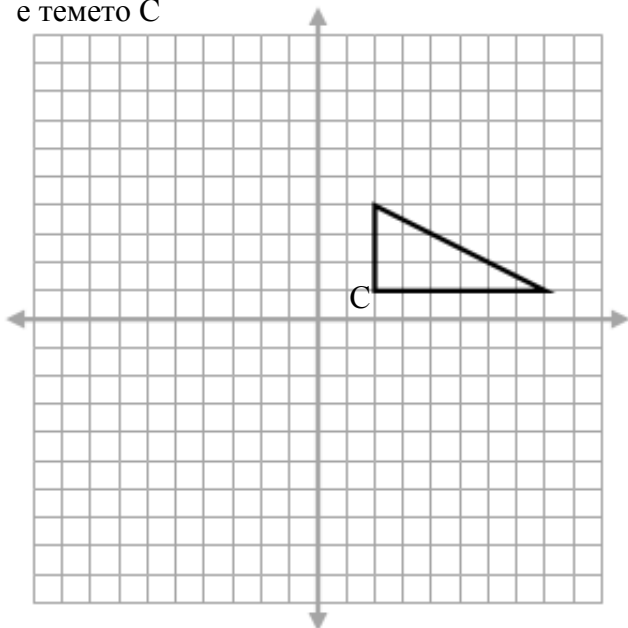
1. Пресликај ја фигурата со осна симетрија преку x оската



2. Пресликај ја фигурата со осна симетрија преку y оската



3. Пресликај ја фигурата со ротација за 90 степени, во насока на часовникот, ако центарот на ротација е темето C



4. Помести ја фигурата со translација за 4 места во десно и три места надолу. Така добиената фигура пресликај ја со осна симетрија преку y оската! Запиши ги координатите на последната добиена фигура!

