

Наставен план: Наставен план за 5 одделение - деветгодишно
- македонски

1. Англиски јазик - Задолжителен предмет

Прашање

Кој од следниве зборови означува 1 час?

Кој од следниве зборови означува здравствена тегоба?

Кој од следниве зборови означува празнична декорација?

Кога ме боли стомак велам:

Кога е осум часот и петнаесет минути, велиме:

Кој од наведените математички знаци е знак за множење?

Кој од наведените зборови означува утро?

Обележје на музејот е:

Кој од наведените зборови е обележје на селото?

Кој од наведените зборови е обележје на празник?

1. Англиски јазик - Задолжителен предмет

Прашање

Кој од наведените зборови е сообраќаен поим?

Кој од наведените зборови е обележје на градот?

Доврши ја следната реченица: *Ben is winning the race, he is _____ place.*

Доврши ја следната реченица: *The big cities usually have problem with _____.*

Доврши ја реченицата: *I am sending her a _____ on February 14th.*

Доврши ја реченицата: *I love sunbathing in _____.*

Доврши ја реченицата: *I can't hear you, I have _____.*

Кој од следниве зборови е бројна именка?

Кој од следниве зборови НЕ е прилог за место?

Кој од следниве зборови е прилог за време?

1. Англиски јазик - Задолжителен предмет

Прашање

Кој од следниве зборови е описна придавка?

Кој од следниве зборови е бројна именка?

Кој од следниве зборови е главен број?

Пронајди го зборот што означува прилог за време.

Која реченица ќе ја употребиш за да кажеш дека сакаш да читаш книги?

Со кој израз би го започнал прашањето: *Колку брашно да ставам во тортата?*

Која реченица ќе ја употребиш за да кажеш дека ќе пишуваш домашна задача оваа вечер?

Која од следниве именки е во множина?

1. Англиски јазик - Задолжителен предмет

Прашање

Одговори на прашањето: *Каде се наоѓа поштата?*

Пронајди го зборот што означува реден број.

Која реченица ќе ја употребиш за да кажеш дека ќе бидеш адвокат?

Со кој израз би го започнал прашањто: *Колку книги има на масата?*

На прашањето: *Кога ќе одиш на одмор?* Следи одговорот:

Како ќе прашаш: *Што ќе правиш овој викенд?*

Како ќе дадеш наредба:

Како ќе кажеш дека утре ќе одиш на кино?

Како ќе кажеш дека учењето е забавно?

На прашањето: *"Каде е книгата?"* Ке одговориш со:

1. Англиски јазик - Задолжителен предмет

Прашање

На прашањето: *What are you doing tomorrow?* ќе одговориш со:

Како ќе прашаш некого дали сака шолја чај?

На прашањето *Where is his house?* ќе одговориш со:

Кога сакаме да побараме информација за правец велиме:

Кога сакаме да се извиниме велиме:

Кое прашање ќе го поставиме ако сакаме да побараме нечиј телефонски број?

Кога сакаме да се заблагодариме велиме:

Кое прашање искажува нудење?

Кога учтиво позајмуваме нешто велиме:

1. Англиски јазик - Задолжителен предмет

Прашање

Како ќе прашаме некого колку е часот?

Кога сакаме да го опишеме градот во кој живееме велиме:

Како ќе прашаш дали твоето другарче се чувствува добро?

Кога сакаме да поканиме некого на роденден, велиме:

Со кој израз од наведените можеш да прашаш: *Каде е твојата книга?*

Како би го понудил твоето другарче со сендвич?

Со кој израз од наведените можеш да прашаш: *Кој е твојот омилен пејач* ?

Како би прашал каде е музејот?

1. Англиски јазик - Задолжителен предмет

Прашање

Како ќе посакаме некому пријатен одмор?

Со кој израз од наведените можеш да прашаш: *Зошто си толку тажен?*

Како ќе посакаме некому пријатен викенд?

Како учтиво би замолил да позајмиш палто?

Како ќе кажеш дека твоето омилено место е Маврово?

Како ќе го прашаш другарчето како доаѓа на училиште?

Како ќе дадеш информација за местоположбата на хотелот?

1. Англиски јазик - Задолжителен предмет

Прашање

Со кој израз можеш да прашаш како се прави торта?

Со кој изсказ можеш да прашаш каде ќе одиш викендов?

Како учтиво би им понудил кафе и колачи на гостите?

Со кој од дадените искази ќе кажеш дека не се чувствуваш добро?

Кој од исказите означува домашна навика?

Како ќе одговориш на прашањето *How about going to the cinema tonight?*

Како ќе одговориш на прашањето: *How many hours a day do you watch TV?*

Како ќе одговориш на прашањето: *What would you like to drink?*

Како ќе одговориш на прашањето: *Where do you do your homework?*

Како ќе одговориш на прашањето: *What is your favorite sport?*

Како ќе одговориш на прашањето: *When is your birthday?*

1. Англиски јазик - Задолжителен предмет

Прашање

Како ќе одговориш на прашањето: *How do you go to school?*

Дополни ја реченицата: "My brother _____ to school every morning."

Како би кажал дека е 7 часот и 30 минути?

Како ќе одговориш на прашањето: *Who are you waiting for?*

Дополни го прашањето: *What _____ do this weekend?*

Како би одговорил на прашањето: *What are you going to do on your summer holiday?*

1. Англиски јазик - Задолжителен предмет

Прашање

These days, children eat a lot of unhealthy food. When they are at school, and they want a snack, they buy a hamburger, or chips, or French fries. And they always are drinking Coke. That kind of food is unhealthy for children. It makes them gain weight, feel tired and not ready for physical activities. It would be nice if children are eating more fresh vegetables and fruits, or even food prepared at home. I think that it is much useful for my body and mind to eat a sandwich made from home with salad and cheese than to buy a hamburger. I think that it would be better to drink a bottle of water than to buy a Coke. I like being fit and healthy. I like eating fresh vegetables and fruits, and you know what they say: An apple a day, keeps the doctor away!

Што купуваат децата кога сакаат ужина додека се на училиште?

These days, children eat a lot of unhealthy food. When they are at school, and they want a snack, they buy a hamburger, or chips, or French fries. And they always are drinking Coke. That kind of food is unhealthy for children. It makes them gain weight, feel tired and not ready for physical activities. It would be nice if children are eating more fresh vegetables and fruits, or even food prepared at home. I think that it is much useful for my body and mind to eat a sandwich made from home with salad and cheese than to buy a hamburger. I think that it would be better to drink a bottle of water than to buy a Coke. I like being fit and healthy. I like eating fresh vegetables and fruits, and you know what they say: An apple a day, keeps the doctor away!

Каква е храната што ја купуваат децата додека се на училиште?

1. Англиски јазик - Задолжителен предмет

Прашање

These days, children eat a lot of unhealthy food. When they are at school, and they want a snack, they buy a hamburger, or chips, or French fries. And they always are drinking Coke. That kind of food is unhealthy for children. It makes them gain weight, feel tired and not ready for physical activities. It would be nice if children are eating more fresh vegetables and fruits, or even food prepared at home. I think that it is much useful for my body and mind to eat a sandwich made from home with salad and cheese than to buy a hamburger. I think that it would be better to drink a bottle of water than to buy a Coke. I like being fit and healthy. I like eating fresh vegetables and fruits, and you know what they say: An apple a day, keeps the doctor away!

Што му се допаѓа на авторот на текстот?

Sarah isn't feeling well. She got up this morning and she starts coughing. Then she got back to bed. Her mother gives her soup , hoping she feels better . Sarah still isn't feeling well. Then she starts feeling headache. Her mother is checking her body temperature and it turns out Sarah has high temperature. Sarah's mother insists she sees a doctor. Sarah thinks it would be nice if she is able to go to school because it is Saint Valentine's. Sarah's friends from school are bringing her many Valentine's Cards after school.

Кој не се чувствува добро?

1. Англиски јазик - Задолжителен предмет

Прашање

Christmas is my favorite holiday. My grandmother makes ham, salad and cupcakes on Christmas. I also get presents on Christmas! Last year I got a new set of paint brushes. This year I hope to get new pencils and a drawing pad. I always have fun on Christmas.

Halloween is another good holiday. My grandmother makes candy corn and apple pie on Halloween. People wear mask-costumes during Halloween. This year I am going to wear a Batman costume.

Easter is a good holiday too. My grandmother colors eggs, and I don't have to go to school. She makes a lamb with sauce, and green salad with eggs. But I don't get any presents for Easter. If I got presents for Easter, it would be my favorite holiday too.

Што носат луѓето за Денот на вештерките?

1. Англиски јазик - Задолжителен предмет

Прашање

Christmas is my favorite holiday. My grandmother makes ham, salad and cupcakes on Christmas. I also get presents on Christmas! Last year I got a new set of paint brushes. This year I hope to get new pencils and a drawing pad. I always have fun on Christmas.

Halloween is another good holiday. My grandmother makes candy corn and apple pie on Halloween. People wear mask-costumes during Halloween. This year I am going to wear a Batman costume.

Easter is a good holiday too. My grandmother colors eggs, and I don't have to go to school. She makes a lamb with sauce, and green salad with eggs. But I don't get any presents for Easter. If I got presents for Easter, it would be my favorite holiday too.

Што се надева авторот дека ќе добие за овој Божиќ?

1. Англиски јазик - Задолжителен предмет

Прашање

Christmas is my favorite holiday. My grandmother makes ham, salad and cupcakes on Christmas. I also get presents on Christmas! Last year I got a new set of paint brushes. This year I hope to get new pencils and a drawing pad. I always have fun on Christmas.

Halloween is another good holiday. My grandmother makes candy corn and apple pie on Halloween. People wear mask-costumes during Halloween. This year I am going to wear a Batman costume.

Easter is a good holiday too. My grandmother colors eggs, and I don't have to go to school. She makes a lamb with sauce, and green salad with eggs. But I don't get any presents for Easter. If I got presents for Easter, it would be my favorite holiday too.

Што прави бабата за Велигден?

1. Англиски јазик - Задолжителен предмет

Прашање

Christmas is my favorite holiday. My grandmother makes ham, salad and cupcakes on Christmas. I also get presents on Christmas! Last year I got a new set of paint brushes. This year I hope to get new pencils and a drawing pad. I always have fun on Christmas.

Halloween is another good holiday. My grandmother makes candy corn and apple pie on Halloween. People wear mask-costumes during Halloween. This year I am going to wear a Batman costume.

Easter is a good holiday too. My grandmother colors eggs, and I don't have to go to school. She makes a lamb with sauce, and green salad with eggs. But I don't get any presents for Easter. If I got presents for Easter, it would be my favorite holiday too.

За кој празник авторот не оди на училиште?

1. Англиски јазик - Задолжителен предмет

Прашање

Ohrid is a large town. It has more than forty thousand people living there. It is a city by the lake Ohrid. Most people live in the city, but there is small number of people who live in the villages near the city. Ohrid is a beautiful city. The lake gives the city its own beauty. There a 365 churches in Ohrid. One for each day of the year. Every summer the city is full with tourists that come to visit. They usually go to the Samoil's fortress, one of Ohrid's cultural monuments. The fortress is on the hill. There is a lot of walking to get there. I go to Ohrid every winter with my parents. I have a cousin there and she has a birthday in January, so we are visiting her for her birthday. Ohrid is quiet in winter. There aren't any tourists.

Каде се наоѓа градот Охрид?

1. Англиски јазик - Задолжителен предмет

Прашање

Ohrid is a large town. It has more than forty thousand people living there. It is a city by the lake Ohrid. Most people live in the city, but there is small number of people who live in the villages near the city. Ohrid is a beautiful city. The lake gives the city its own beauty. There a 365 churches in Ohrid. One for each day of the year. Every summer the city is full with tourists that come to visit. They usually go to the Samoil's fortress, one of Ohrid's cultural monuments. The fortress is on the hill. There is a lot of walking to get there. I go to Ohrid every winter with my parents. I have a cousin there and she has a birthday in January, so we are visiting her for her birthday. Ohrid is quiet in winter. There aren't any tourists.

Каде живее мал број на луѓе?

1. Англиски јазик - Задолжителен предмет

Прашање

Ohrid is a large town. It has more than forty thousand people living there. It is a city by the lake Ohrid. Most people live in the city, but there is small number of people who live in the villages near the city. Ohrid is a beautiful city. The lake gives the city its own beauty. There a 365 churches in Ohrid. One for each day of the year. Every summer the city is full with tourists that come to visit. They usually go to the Samoil's fortress, one of Ohrid's cultural monuments. The fortress is on the hill. There is a lot of walking to get there. I go to Ohrid every winter with my parents. I have a cousin there and she has a birthday in January, so we are visiting her for her birthday. Ohrid is quiet in winter. There aren't any tourists.

Кој доаѓа да го посетува градот секое лето?

Ohrid is a large town. It has more than forty thousand people living there. It is a city by the lake Ohrid. Most people live in the city, but there is small number of people who live in the villages near the city. Ohrid is a beautiful city. The lake gives the city its own beauty. There a 365 churches in Ohrid. One for each day of the year. Every summer the city is full with tourists that come to visit. They usually go to the Samoil's fortress, one of Ohrid's cultural monuments. The fortress is on the hill. There is a lot of walking to get there. I go to Ohrid every winter with my parents. I have a cousin there and she has a birthday in January, so we are visiting her for her birthday. Ohrid is quiet in winter. There aren't any tourists.

Кој културен споменик најчесто го посетуваат туристите во Охрид?

1. Англиски јазик - Задолжителен предмет

Прашање

Ohrid is a large town. It has more than forty thousand people living there. It is a city by the lake Ohrid. Most people live in the city, but there is small number of people who live in the villages near the city. Ohrid is a beautiful city. The lake gives the city its own beauty. There a 365 churches in Ohrid. One for each day of the year. Every summer the city is full with tourists that come to visit. They usually go to the Samoil's fortress, one of Ohrid's cultural monuments. The fortress is on the hill. There is a lot of walking to get there. I go to Ohrid every winter with my parents. I have a cousin there and she has a birthday in January, so we are visiting her for her birthday. Ohrid is quiet in winter. There aren't any tourists.

Каде се наоѓа Самоиловата тврдина во Охрид?

Ohrid is a large town. It has more than forty thousand people living there. It is a city by the lake Ohrid. Most people live in the city, but there is small number of people who live in the villages near the city. Ohrid is a beautiful city. The lake gives the city its own beauty. There a 365 churches in Ohrid. One for each day of the year. Every summer the city is full with tourists that come to visit. They usually go to the Samoil's fortress, one of Ohrid's cultural monuments. The fortress is on the hill. There is a lot of walking to get there. I go to Ohrid every winter with my parents. I have a cousin there and she has a birthday in January, so we are visiting her for her birthday. Ohrid is quiet in winter. There aren't any tourists.

Каков е Охрид во зима?

1. Англиски јазик - Задолжителен предмет

Прашање

These days, children eat a lot of unhealthy food. When they are at school, and they want a snack, they buy a hamburger, or chips, or French fries. And they always are drinking Coke. That kind of food is unhealthy for children. It makes them gain weight, feel tired and not ready for physical activities. It would be nice if children are eating more fresh vegetables and fruits, or even food prepared at home. I think that it is much useful for my body and mind to eat a sandwich made from home with salad and cheese than to buy a hamburger. I think that it would be better to drink a bottle of water than to buy a Coke. I like being fit and healthy. I like eating fresh vegetables and fruits, and you know what they say: An apple a day, keeps the doctor away!

Што им прави нездравата храна на децата?

These days, children eat a lot of unhealthy food. When they are at school, and they want a snack, they buy a hamburger, or chips, or French fries. And they always are drinking Coke. That kind of food is unhealthy for children. It makes them gain weight, feel tired and not ready for physical activities. It would be nice if children are eating more fresh vegetables and fruits, or even food prepared at home. I think that it is much useful for my body and mind to eat a sandwich made from home with salad and cheese than to buy a hamburger. I think that it would be better to drink a bottle of water than to buy a Coke. I like being fit and healthy. I like eating fresh vegetables and fruits, and you know what they say: An apple a day, keeps the doctor away!

Што би било подобро да јадат децата наместо нездравата храна?

1. Англиски јазик - Задолжителен предмет

Прашање

These days, children eat a lot of unhealthy food. When they are at school, and they want a snack, they buy a hamburger, or chips, or French fries. And they always are drinking Coke. That kind of food is unhealthy for children. It makes them gain weight, feel tired and not ready for physical activities. It would be nice if children are eating more fresh vegetables and fruits, or even food prepared at home. I think that it is much useful for my body and mind to eat a sandwich made from home with salad and cheese than to buy a hamburger. I think that it would be better to drink a bottle of water than to buy a Coke. I like being fit and healthy. I like eating fresh vegetables and fruits, and you know what they say: An apple a day, keeps the doctor away!

Што е подобро да се пие наместо кока-кола?

These days, children eat a lot of unhealthy food. When they are at school, and they want a snack, they buy a hamburger, or chips, or French fries. And they always are drinking Coke. That kind of food is unhealthy for children. It makes them gain weight, feel tired and not ready for physical activities. It would be nice if children are eating more fresh vegetables and fruits, or even food prepared at home. I think that it is much useful for my body and mind to eat a sandwich made from home with salad and cheese than to buy a hamburger. I think that it would be better to drink a bottle of water than to buy a Coke. I like being fit and healthy. I like eating fresh vegetables and fruits, and you know what they say: An apple a day, keeps the doctor away!

За што не се подготвени децата ако јадат нездрава храна?

1. Англиски јазик - Задолжителен предмет

Прашање

These days, children eat a lot of unhealthy food. When they are at school, and they want a snack, they buy a hamburger, or chips, or French fries. And they always are drinking Coke. That kind of food is unhealthy for children. It makes them gain weight, feel tired and not ready for physical activities. It would be nice if children are eating more fresh vegetables and fruits, or even food prepared at home. I think that it is much useful for my body and mind to eat a sandwich made from home with salad and cheese than to buy a hamburger. I think that it would be better to drink a bottle of water than to buy a Coke. I like being fit and healthy. I like eating fresh vegetables and fruits, and you know what they say: An apple a day, keeps the doctor away!

Каков сендвич повеќе сака да јаде авторот на текстот?

Ohrid is a large town. It has more than forty thousand people living there. It is a city by the lake Ohrid. Most people live in the city, but there is small number of people who live in the villages near the city. Ohrid is a beautiful city. The lake gives the city its own beauty. There a 365 churches in Ohrid. One for each day of the year. Every summer the city is full with tourists that come to visit. They usually go to the Samoil's fortress, one of Ohrid's cultural monuments. The fortress is on the hill. There is a lot of walking to get there. I go to Ohrid every winter with my parents. I have a cousin there and she has a birthday in January, so we are visiting her for her birthday. Ohrid is quiet in winter. There aren't any tourists.

Што треба да направат туристите за да стигнат до Самоиловата тврдина?

1. Англиски јазик - Задолжителен предмет

Прашање

Ohrid is a large town. It has more than forty thousand people living there. It is a city by the lake Ohrid. Most people live in the city, but there is small number of people who live in the villages near the city. Ohrid is a beautiful city. The lake gives the city its own beauty. There are 365 churches in Ohrid. One for each day of the year. Every summer the city is full with tourists that come to visit. They usually go to the Samoil's fortress, one of Ohrid's cultural monuments. The fortress is on the hill. There is a lot of walking to get there. I go to Ohrid every winter with my parents. I have a cousin there and she has a birthday in January, so we are visiting her for her birthday. Ohrid is quiet in winter. There aren't any tourists.

Што прави семејството на авторот секоја зима?

Ohrid is a large town. It has more than forty thousand people living there. It is a city by the lake Ohrid. Most people live in the city, but there is small number of people who live in the villages near the city. Ohrid is a beautiful city. The lake gives the city its own beauty. There a 365 churches in Ohrid. One for each day of the year. Every summer the city is full with tourists that come to visit. They usually go to the Samoil's fortress, one of Ohrid's cultural monuments. The fortress is on the hill. There is a lot of walking to get there. I go to Ohrid every winter with my parents. I have a cousin there and she has a birthday in January, so we are visiting her for her birthday. Ohrid is quiet in winter. There aren't any tourists.

Зашто авторот на текстот оди во Охрид во зима?

1. Англиски јазик - Задолжителен предмет

Прашање

John is 18. His parents celebrate his birthday with buying him presents. This year, because he is 18, he got a new car from his parents. But John is not a good driver. He is not careful and does not respect the traffic signs. He needs to drive with his father in the car. His father always tells him to be more careful when driving the car.

По кој повод родителите на Џон му купиле автомобил?

John is 18. His parents celebrate his birthday with buying him presents. This year, because he is 18, he got a new car from his parents. But John is not a good driver. He is not careful and does not respect the traffic signs. He needs to drive with his father in the car. His father always tells him to be more careful when driving the car.

Каков возач е Џон?

1. Англиски јазик - Задолжителен предмет

Прашање

John is 18. His parents celebrate his birthday with buying him presents. This year, because he is 18, he got a new car from his parents. But John is not a good driver. He is not careful and does not respect the traffic signs. He needs to drive with his father in the car. His father always tells him to be more careful when driving the car.

Што му порачал таткото на Џон во врска со возењето?

На прашањето: *What are you doing at the moment?* ќе одговориш со:

Кој од следниве зборови означува математички знак?

Кој од наведените зборови означува загадување?

Кој од наведените зборови означува единица за време?

Кој од наведените искази се поврзува со празнично расположение?

Доврши ја реченицата: *I can't speak, I have a _____.*

1. Англиски јазик - Задолжителен предмет

Прашање

Дополни ја реченицата: *My dad keeps his _____ in the bank.*

Доврши ја реченицата: *I love skiing in the _____.*

Дополни ја реченицата: *My friends and I are going to the _____ to watch the movie.*

Кој од следниве зборови е небројна именка?

Кој од следниве зборови означува прилог за место?

Со кој израз би го поставил прашањето: *Колку сендвичи да земам за пикникот?*

Која реченица од наведените ќе ја употребиш за да кажеш дека имаш планови вечер?

На прашањето: *Каде е супермаркетот?* следи одговорот:

1. Англиски јазик - Задолжителен предмет

Прашање

На прашањето: *What are you doing the next weekend?* ќе одговориш со:

Како би одговорил на прашањето: *What is your sister studying for?*

Кога сакаме да искажеме задоволство затоа што сме виделе некого, велиме:

Кога сакаме да побараме информација за време, прашуваме:

Кога сакаме да прашаме некого како се чувствува, велиме:

Со кој од наведените прашања ќе прашаш кој е твојот омилен предмет на училиште?

Со кој од наведените прашања ќе го прашаш своето другарче кој го натажил?

Како ќе прашаш за местоположбата на плажата?

Како ќе кажеш дека во твојот град најчесто многу врне во есен?

1. Англиски јазик - Задолжителен предмет

Прашање

Дополни ја реченицата со соодветниот израз: *Sarah doesn't know*_____.

Доврши ја реченицата: *The Lakers are a great basketball team, _____?*

Како би одговорил на прашањето: *What are you?*

My friend Petar lives in Skopje. He lives in the city center area. He is very skinny and pale. His mother says he is always having a cold. My mother says that he is always sick because the city is polluted. That is why Petar is visiting us in the village every weekend. He is very nice and polite to all of us. He loves running and playing in the field with me. We both are the same age, and we both love basketball and at the same time we both dislike math at school. Petar loves when it's time for breakfast. He loves the scrambled eggs and cheese my mom makes. He is very happy in the village, and I am happy to have him around. This weekend is special. Petar's parents are taking me to the city to see the animals in the Zoo. Petar is a great friend.

Како изгледа Петар?

1. Англиски јазик - Задолжителен предмет

Прашање

My friend Petar lives in Skopje. He lives in the city center area. He is very skinny and pale. His mother says he is always having a cold. My mother says that he is always sick because the city is polluted. That is why Petar is visiting us in the village every weekend. He is very nice and polite to all of us. He loves running and playing in the field with me. We both are the same age, and we both love basketball and at the same time we both dislike math at school. Petar loves when it's time for breakfast. He loves the scrambled eggs and cheese my mom makes. He is very happy in the village, and I am happy to have him around. This weekend is special. Petar's parents are taking me to the city to see the animals in the Zoo. Petar is a great friend.

Што вели мајката на авторот за причината поради која Петар е постојано настинат?

My friend Petar lives in Skopje. He lives in the city center area. He is very skinny and pale. His mother says he is always having a cold. My mother says that he is always sick because the city is polluted. That is why Petar is visiting us in the village every weekend. He is very nice and polite to all of us. He loves running and playing in the field with me. We both are the same age, and we both love basketball and at the same time we both dislike math at school. Petar loves when it's time for breakfast. He loves the scrambled eggs and cheese my mom makes. He is very happy in the village, and I am happy to have him around. This weekend is special. Petar's parents are taking me to the city to see the animals in the Zoo. Petar is a great friend.

Кое е омиленото јадење на Петар кога ќе дојде во селото?

1. Англиски јазик - Задолжителен предмет

Прашање

Usually I wake up at 6 o'clock to exercise. My sister thinks I am crazy because she wakes up at 10 o'clock. I don't understand her. She is very smart, but very lazy. She spends her time in front of the computer, chatting with her friends all the time. I like playing basketball with my friends. I am healthy and strong, and I have energy to study more. My sister is always complaining how she doesn't have time to exercise. That is not true. She doesn't have time to exercise because she speaks on the phone every day for 3 hours. My parents decide to take her phone, and forbid her to spend time in front of the computer for more than 2 hours a day. She was angry at first, but then she joined me in the morning for the exercises. She is healthy, athletic and full with energy now. Not to mention that she looks better and more fit now than before.

Како го поминува времето сестрата на авторот?

Usually I wake up at 6 o'clock to exercise. My sister thinks I am crazy because she wakes up at 10 o'clock. I don't understand her. She is very smart, but very lazy. She spends her time in front of the computer, chatting with her friends all the time. I like playing basketball with my friends. I am healthy and strong, and I have energy to study more. My sister is always complaining how she doesn't have time to exercise. That is not true. She doesn't have time to exercise because she speaks on the phone every day for 3 hours. My parents decide to take her phone, and forbid her to spend time in front of the computer for more than 2 hours a day. She was angry at first, but then she joined me in the morning for the exercises. She is healthy, athletic and full with energy now. Not to mention that she looks better and more fit now than before.

Што решиле да направат родителите?

1. Англиски јазик - Задолжителен предмет

Прашање

Кога е шест и триесет минути, велиме:

Кој од следниве зборови е обележје на село?

My sister Elizabeth likes Easter very much. It`s her favorite holiday. My mother is very busy every Easter with the Easter eggs. I like red Easter eggs. My sister Elizabeth likes the green ones. My mother likes blue Easter eggs. We have a Bunny basket full of eggs in different colors. Какви велигденски јајца сака мајката на Елизабет?

Janko lives in Skopje. Skopje is a very big city. It is very noisy. The river Vardar flows in the middle of it. There are a lot of big buildings, museums, schools, cinemas and banks. There is one zoo with many kinds of animals. The zoo is near the river Vardar.

Која река тече низ Скопје?

Janko lives in Skopje. Skopje is a very big city. It is very noisy. The river Vardar flows in the middle of it. There are a lot of big buildings, museums, schools, cinemas and banks. There is one zoo with many kinds of animals. The zoo is near the river Vardar.

Што е блиску до реката Вардар?

1. Англиски јазик - Задолжителен предмет

Прашање

My sister Elizabeth likes Easter very much. It`s her favorite holiday. My mother is very busy every Easter with the Easter eggs. I like red Easter eggs. My sister Elizabeth likes the green ones. My mother likes blue Easter eggs. We have a Bunny basket full of eggs in different colors. Во која боја се јајцата во кошничката?

My sister Elizabeth likes Easter very much. It`s her favorite holiday. My mother is very busy every Easter with the Easter eggs. I like red Easter eggs. My sister Elizabeth likes the green ones. My mother likes blue Easter eggs. We have a Bunny basket full of eggs in different colors. Кој сака зелени велигденски јајца?

My sister Elizabeth likes Easter very much. It`s her favorite holiday. My mother is very busy every Easter with the Easter eggs. I like red Easter eggs. My sister Elizabeth likes the green ones. My mother likes blue Easter eggs. We have a Bunny basket full of eggs in different colors.
Што има во кошничката ?

My sister Elizabeth likes Easter very much. It`s her favorite holiday. My mother is very busy every Easter with the Easter eggs. I like red Easter eggs. My sister Elizabeth likes the green ones. My mother likes blue Easter eggs. We have a Bunny basket full of eggs in different colors. Кој е многу зафатен за Велигден ?

1. Англиски јазик - Задолжителен предмет

Прашање

Како би одговорил на следново прашање: *What are you doing this Friday?*

Пронајди го зборот што означува прилог за место.

Кој од следниве зборови е бројна именка?

Со кој израз би го започнал прашањето: Колку моливи имаш во твојата училишна торба?

Која реченица ќе ја употребиш за да кажеш дека сакаш да играш кошарка?

Како ќе го прашаш твоето другарче зошто е тажно?

Кога посакуваме пријатен викенд велиме:

1. Англиски јазик - Задолжителен предмет

Прашање

Кога сакаме да прашаме колку е часот велиме:

Како би кажале дека е 9 часот ?

Како би ја понудил твојата другарка со сендвич?

Со кој израз од наведените можеш да прашаш: *Кои се негови фармерки ?*

Како би го прашале другарчето кој е неговиот телефонски број?

Со кој израз од наведените можеш да прашаш: *Која е твојата омилена песна ?*

1. Англиски јазик - Задолжителен предмет

Прашање

Darko`s father is a very healthy man. He eats healthy food every day. His favorite food is vegetables. He likes carrots very much.

Колку често таткото на Дарко јаде здрава храна?

Darko`s father is a very healthy man. He eats healthy food every day. His favorite food is vegetables. He likes carrots very much. Кој јаде здрава храна?

My sister Elizabeth likes Easter very much. It`s her favorite holiday. My mother is very busy every Easter with the Easter eggs. I like red Easter eggs. My sister Elizabeth likes the green ones. My mother likes blue Easter eggs. We have a Bunny basket full of eggs in different colors. Со што е полна кошничката?

1. Англиски јазик - Задолжителен предмет

Прашање

My sister Elizabeth likes Easter very much. It`s her favorite holiday. My mother is very busy every Easter with the Easter eggs. I like red Easter eggs. My sister Elizabeth likes the green ones. My mother likes blue Easter eggs. We have a Bunny basket full of eggs in different colors. Кој е омилиот празник на Елизабет?

My sister Elizabeth likes Easter very much. It`s her favorite holiday. My mother is very busy every Easter with the Easter eggs. I like red Easter eggs. My sister Elizabeth likes the green ones. My mother likes blue Easter eggs. We have a Bunny basket full of eggs in different colors.
Кој сака црвени велигденски јајца?

Janko lives in Skopje. Skopje is a very big city. It is very noisy. The river Vardar flows in the middle of it. There are a lot of big buildings, museums, schools, cinemas and banks. There is one zoo with many kinds of animals. The zoo is near the river Vardar.
Што е: *noisy city*?

1. Англиски јазик - Задолжителен предмет

Прашање

My sister Elizabeth likes Easter very much. It`s her favorite holiday. My mother is very busy every Easter with the Easter eggs. I like red Easter eggs. My sister Elizabeth likes the green ones. My mother likes blue Easter eggs. We have a Bunny basket full of eggs in different colors.

Кој е многу зафатен секој Велигден?

Darko`s father is a very healthy man. He eats healthy food every day. His favorite food are vegetables. He likes carrots very much. Таткото на Дарко сака:

Кој од следниве зборови е обележје на град?

Кој од следниве зборови е математички знак?

Кој од следниве зборови означува сообраќаен знак?

Кога ме боли глава велам:

Кога е седум и петнаесет минути, велиме:

1. Англиски јазик - Задолжителен предмет

Прашање

Кој од наведените математички знаци е знак за еднакво?

Кој од наведените зборови е дел од денот?

Обележје на градот е:

Кога сакаме да испратиме писмо, одиме во.....

Изразот *десет и четириесет и пет*, одговара на:

Што би следело на следниов исказ: *For Christmas we usually buy*

Кој од следниве зборови е небројна именка?

Кој од следниве зборови е прилог за место?

Кој од следниве зборови е прилог за време?

Пронајди го зборот што означува прилог за време.

Која реченица ќе ја употребиш за да кажеш дека можеш да играш фудбал?

Со кој израз би го започнал прашањето: Колку млеко да турам во шолјата?

Која реченица ќе ја употребиш за да кажеш дека ќе играш игра оваа вечер?

1. Англиски јазик - Задолжителен предмет

Прашање

Која од следниве именки е небројна?

Доврши ја следната реченица: *There is a lot of money.....*

На прашањето: Каде седи твојата другарка Белинда?, следи одговорот:

Која реченица ќе ја употребиш за да кажеш дека ќе бидеш полицаец?

На прашањето: *What are you going to be?* ќе одговориш со:

Како би одговорил на следново прашање: *What are you doing this Sunday?*

На прашањето: *What are you doing next weekend?* ќе одговориш со:

Како би одговорил на следново прашање: *Would you like to go to the zoo?*

На прашањето: *What are you doing at the moment ?* ќе одговориш со:

Како би одговорил на следново прашање: *What are you doing this evening?*

Кога сакаме да побараме информација за правец велиме:

Кога сакаме да се извиниме кажуваме:

Кое прашање е распрашување за телефонски број?

1. Англиски јазик - Задолжителен предмет

Прашање

Кога сакаме да се заблагодариме кажуваме:

Кое прашање искажува нудење?

Со кој израз од наведените можеш да прашаш: *Која е твојата тетратка?*

Како би го понудил своето другарче со сок?

Со кој израз од наведените можеш да прашаш: *Која е твојата омилена книга?*

Како би прашал каде е банката?

Како ќе посакаме некому убав одмор?

Со кој израз од наведените можеш да прашаш: *Зошто си толку тажен?*

Како учтиво би замолил да позајмиш гума?

Како би кажал дека имаш часови по музичко секој вторник?

Како ќе го прашаш своето другарче зошто е толку среќно?

Како би искажале главоболка?

Како ќе опишеш град?

Како би одговорил на прашањето од каде си?

1. Англиски јазик - Задолжителен предмет

Прашање

Како би го прашал своето другарче кога оди на училиште?

My sister Monica likes Christmas very much. It`s her favorite holiday. My mother is very busy every Christmas with the Christmas cake. I like Christmas cake. My sister Monica likes the chocolates. My mother likes Christmas chocolates, too. We have a table with cakes, chocolates and meat. Кој многу го сака Божиќ?

Ana lives in Skopje. Skopje is a very big city. It is very noisy. The river Vardar flows in the middle of it. There are a lot of big buildings, museums, schools, cinemas and banks. There is one zoo with many kinds of animals. The zoo is near the river Vardar. Каде живее Ана?

Ana lives in Skopje. Skopje is a very big city. It is very noisy. The river Vardar flows in the middle of it. There are a lot of big buildings, museums, schools, cinemas and banks. There is one zoo with many kinds of animals. The zoo is near the river Vardar. Која река тече во средината на Скопје?

Jill lives in a big city. There is a lot of traffic on the streets. She takes a bus to school every day. There are two traffic lights on her way to the school. When the lights don`t work there is a traffic policeman on the crossroad. Каде живее Џил?

Jill lives in a big city. There is a lot of traffic on the streets. She takes a bus to school every day. There are two traffic lights on her way to the school. When the lights don`t work there is a traffic policeman on the crossroad. Колку семафори има на патот до училиштето?

My sister Monica likes Christmas very much. It`s her favorite holiday. My mother is very busy every Christmas with the Christmas cake. I like Christmas cake. My sister Monica likes the chocolates. My mother likes Christmas chocolates, too. We have a table with cakes, chocolates and meat. Кој сака чоколада?

1. Англиски јазик - Задолжителен предмет

Прашање

My sister Monica likes Christmas very much. It`s her favorite holiday. My mother is very busy every Christmas with the Christmas cake. I like Christmas cake. My sister Monica likes the chocolates. My mother likes Christmas chocolates, too. We have a table with cakes, chocolates and meat. Кој е омилиот празник на Моника?

My sister Monica likes Christmas very much. It`s her favorite holiday. My mother is very busy every Christmas with the Christmas cake. I like Christmas cake. My sister Monica likes the chocolates. My mother likes Christmas chocolates, too. We have a table with cakes, chocolates and meat. Со што е полна масата?

Ana lives in Skopje. Skopje is a very big city. It is very noisy. The river Vardar flows in the middle of it. There are a lot of big buildings, museums, schools, cinemas and banks. There is one zoo with many kinds of animals. The zoo is near the river Vardar. Што е: *noisy city*?

Ana lives in Skopje. Skopje is a very big city. It is very noisy. The river Vardar flows in the middle of it. There are a lot of big buildings, museums, schools, cinemas and banks. There is one zoo with many kinds of animals. The zoo is near the river Vardar. Колку зоолошки градини има во Скопје?

Ana lives in Skopje. Skopje is a very big city. It is very noisy. The river Vardar flows in the middle of it. There are a lot of big buildings, museums, schools, cinemas and banks. There is one zoo with many kinds of animals. The zoo is near the river Vardar. Колку видови животни има во зоолошката градина?

Ana lives in Skopje. Skopje is a very big city. It is very noisy. The river Vardar flows in the middle of it. There are a lot of big buildings, museums, schools, cinemas and banks. There is one zoo with many kinds of animals. The zoo is near the river Vardar. Каде е зоолошката градина?

1. Англиски јазик - Задолжителен предмет

Прашање

Jill lives in a big city. There is a lot of traffic on the streets. She takes a bus to school every day. There are two traffic lights on her way to the school. When the lights don't work there is a traffic policeman on the crossroad. Како оди Џил на училиште?

Jill lives in a big city. There is a lot of traffic on the streets. She takes a bus to school every day. There are two traffic lights on her way to the school. When the lights don't work there is a traffic policeman on the crossroad. Кога има сообраќаен полицаец на раскрсницата?

Adam's mother is a very healthy woman. She eats healthy food every day. Her favorite food are vegetables. She likes potatoes very much. Што значи: *healthy woman*?

Adam's mother is a very healthy woman. She eats healthy food every day. Her favorite food are vegetables. She likes potatoes very much. Мајката на Адам сака:

My sister Monica likes Christmas very much. It's her favorite holiday. My mother is very busy every Christmas with the Christmas cake. I like Christmas cake. My sister Monica likes the chocolates. My mother likes Christmas chocolates, too. We have a table with cakes, chocolates and meat. Кој е многу зафатен секој Божиќ?

Jackie is going to visit her doctor tomorrow. She has stomachache and high temperature. She is not going to school tomorrow. Што ќе прави Џеки утре?

1. Англиски јазик - Задолжителен предмет

Прашање

Adam`s mother is a very healthy woman. She eats healthy food every day. Her favorite food are vegetables. She likes potatoes very much. Кој јаде здрава храна?

Adam`s mother is a very healthy woman. She eats healthy food every day. Her favorite food are vegetables. She likes potatoes very much. Колку често мајката на Адам јаде здрава храна?

Cynthia is 19. Her parents celebrate her birthday with buying her presents. This year, because she is 19, she got a new motorbike from her parents. But Cynthia cannot ride a motorbike. She is not careful and does not respect the traffic signs. She needs help to learn how to ride her motorbike. Her father always tells her to be more careful when riding her motorbike. Што ѝ порачал таткото на Синтија во врска со возењето?

1. Англиски јазик - Задолжителен предмет

Прашање

Julia isn't feeling well. She got up this morning and she starts coughing. Then she got back to bed. Her mother gives her soup, hoping she feels better. Julia still isn't feeling well. Then she gets a stomachache. Her mother is checking her body temperature and it turns out Julie has high temperature. Julie's mother insists she sees a doctor. Julie thinks it would be nice if she is able to go to school because it is Saint Valentine's. Five friends from school are bringing her Valentine's Cards after school.

Што почнало да ѝ се случува на Џули кога се разбудила?

Julia isn't feeling well. She got up this morning and she starts coughing. Then she got back to bed. Her mother gives her soup, hoping she feels better. Julia still isn't feeling well. Then she gets a stomachache. Her mother is checking her body temperature and it turns out Julie has high temperature. Julie's mother insists she sees a doctor. Julie thinks it would be nice if she is able to go to school because it is Saint Valentine's. Five friends from school are bringing her Valentine's Cards after school. Што открила мајката на Џули откако ѝ ја измерила температурата?

Julia isn't feeling well. She got up this morning and she starts coughing. Then she got back to bed. Her mother gives her soup, hoping she feels better. Julia still isn't feeling well. Then she gets a stomachache. Her mother is checking her body temperature and it turns out Julie has high temperature. Julie's mother insists she sees a doctor. Julie thinks it would be nice if she is able to go to school because it is Saint Valentine's. Five friends from school are bringing her Valentine's Cards after school. Што ѝ дала мајката на Џули за да се чувствува Џули подобро?

Jill lives in a big city. There is a lot of traffic on the streets. She takes a bus to school every day. There are two traffic lights on her way to the school. When the lights don't work there is a traffic policeman on the crossroad. Si shkon Jill në shkollë?

1. Англиски јазик - Задолжителен предмет

Прашање

Дополни ја реченицата: "We must stop when the _____ is red."

Дополни ја реченицата: "Three plus five _____ eight."

Доврши ја реченицата: "I always have my breakfast in the _____."

Доврши ја реченицата: "The doctor recommends a syrup for my _____."

Дополни ја реченицата: "I have a high _____, my head hurts, so I cannot come to school."

Дополни ја реченицата: "My mom says we are to open our New Year's _____ on the First of January."

1. Англиски јазик - Задолжителен предмет

Прашање

Доврши ја реченицата: "My mom says I mustn't cross the street on the _____."

Дополни ја реченицата: "I have a _____ in London. I write to her every week."

Дополни ја реченицата: "My classroom can get very _____. We have to clean it every day."

Дополни ја реченицата: "My friends and I always play in the _____; we love playing outdoors."

1. Англиски јазик - Задолжителен предмет

Прашање

Дополни ја реченицата: "My friend George is a _____ champion."

Дополни ја реченицата: "I love the weather in winter. I love when it _____ the most."

Дополни ја реченицата: "Twenty _____ sixty equals eighty."

Дополни ја реченицата: "We celebrate New Year's Day on the _____ of January."

Дополни ја реченицата: "History is my favorite school _____."

1. Англиски јазик - Задолжителен предмет

Прашање

Дополни ја реченицата: "Eight _____ five equals three."

Дополни ја реченицата: "I _____ football this Saturday."

Дополни ја реченицата: "My father _____ the newspaper every morning."

Дополни ја реченицата: "I _____ at my graduation photo at this moment."

Дополни ја реченицата: "I _____ at the bank."

Дополни ја реченицата: "She _____ Spanish very well."

1. Англиски јазик - Задолжителен предмет

Прашање

Дополни ја реченицата: "What _____ on Tuesday evening?"

Дополни ја реченицата: "We need _____ glue to fix the window."

Дополни ја реченицата: " _____ money does it cost?"

Дополни ја реченицата: " _____ peaches do you want?"

Доврши ја реченицата: "She is good at _____."

1. Англиски јазик - Задолжителен предмет

Прашање

Доврши ја реченицата : "You should quit _____."

Дополни ја реченицата: "Where _____ next Saturday?"

Дополни ја реченицата: "The car is _____ and expensive."

Дополни ја реченицата: "Listen! Michael _____ the piano now."

Дополни ја реченицата: "She _____ to India this summer."

Како учтиво ќе прашаш дали смееш да влезеш?

Како учтиво ќе прашаш дали смееш да ја позајмиш книгата?

1. Англиски јазик - Задолжителен предмет

Прашање

Како ќе кажеш дека секогаш си легнуваш во 10 часот навечер?

Како ќе кажеш дека секогаш пешачиш до училиште?

Како ќе кажеш дека планираш со твоите другарчиња да одиш на кино оваа сабота?

Како ќе кажеш дека во твојот град има киносала и театар?

Како ќе го прашаш другарчето од каде е?

Како ќе кажеш дека одиш на училиште наутро?

Како учтиво ќе побараш шеќер за во чајот?

Како ќе прашаш колку тетратки ти требаат?

1. Англиски јазик - Задолжителен предмет

Прашање

Како ќе кажеш дека ќе бидеш наставник?

Како ќе му понудиш сендвич на другарчето?

Како ќе кажеш дека често врне во есен?

Како ќе го прашаш другарчето која му е омилена играчка?

Како ќе го прашаш другарчето каде е наставничката?

1. Англиски јазик - Задолжителен предмет

Прашање

Tracy

is looking at a flag. The flag is red, white, and blue. It has fifty white stars. The white stars are placed on a blue square. The flag has six white lines. It also has seven red lines. Tracy loves her flag. It is the flag of her country.

Во што гледа Трејси?

Tracy

is looking at a flag. The flag is red, white, and blue. It has fifty white stars. The white stars are placed on a blue square. The flag has six white lines. It also has seven red lines. Tracy loves her flag. It is the flag of her country.

Кои бои ги има знамето?

1. Англиски јазик - Задолжителен предмет

Прашање

Tracy

is looking at a flag. The flag is red, white, and blue. It has fifty white stars. The white stars are placed on a blue square. The flag has six white lines. It also has seven red lines. Tracy loves her flag. It is the flag of her country.

Колку ѕвезди има на знамето?

Tracy

is looking at a flag. The flag is red, white, and blue. It has fifty white stars. The white stars are placed on a blue square. The flag has six white lines. It also has seven red lines. Tracy loves her flag. It is the flag of her country.

Каква боја се ѕвездите на знамето?

1. Англиски јазик - Задолжителен предмет

Прашање

Tracy

is looking at the flag. The flag is red, white, and blue. It has fifty white stars. The white stars are placed on a blue square. The flag has six white lines. It also has seven red lines. Tracy loves her flag. It is the flag of her country.

Колку бели и колку црвени линии има знамето?

Tracy

is looking at a flag. The flag is red, white, and blue. It has fifty white stars. The white stars are placed on a blue square. The flag has six white lines. It also has seven red lines. Tracy loves her flag. It is the flag of her country.

Зошто Трејси го сака знамето?

Richard doesn't eat too much. He is not fat. He usually eats a bowl of cereal for breakfast. He likes to eat a fish sandwich for lunch. He mostly eats rice and vegetables for dinner. He is not going to become fat because he eats healthily.

Колку јаде Ричард?

1. Англиски јазик - Задолжителен предмет

Прашање

Richard doesn't eat too much. He is not fat. He usually eats a bowl of cereal for breakfast. He likes to eat a fish sandwich for lunch. He mostly eats rice and vegetables for dinner. He is not going to become fat because he eats healthily.

Што јаде Ричард за појадок?

Richard doesn't eat too much. He is not fat. He usually eats a bowl of cereal for breakfast. He likes to eat a fish sandwich for lunch. He mostly eats rice and vegetables for dinner. He is not going to become fat because he eats healthily.

Што јаде Ричард за ручек?

1. Англиски јазик - Задолжителен предмет

Прашање

Richard doesn't eat too much. He is not fat. He usually eats a bowl of cereal for breakfast. He likes to eat a fish sandwich for lunch. He mostly eats rice and vegetables for dinner. He is not going to become fat because he eats healthily.

Што јаде Ричард за вечера?

Richard doesn't eat too much. He is not fat. He usually eats a bowl of cereal for breakfast. He likes to eat a fish sandwich for lunch. He mostly eats rice and vegetables for dinner. He is not going to become fat because he eats healthily.

Зошто Ричард нема да се здебели?

Richard doesn't eat too much. He is not fat. He usually eats a bowl of cereal for breakfast. He likes to eat a fish sandwich for lunch. He mostly eats rice and vegetables for dinner. He is not going to become fat because he eats healthily.

Дали можеш да заклучиш што е здрава храна?

1. Англиски јазик - Задолжителен предмет

Прашање

Richard doesn't eat too much. He is not fat. He usually eats a bowl of cereal for breakfast. He likes to eat a fish sandwich for lunch. He mostly eats rice and vegetables for dinner. He is not going to become fat because he eats healthily.

Дали е Ричард виток?

Susan likes to eat apples. She also likes to drink water. She doesn't cut the apples with a knife. A knife can be sharp. She usually holds the apple in her hand and bites into it with her teeth.

Што сака да прави Сузан?

Susan likes to eat apples. She also likes to drink water. She doesn't cut the apples with a knife. A knife can be sharp. She usually holds the apple in her hand and bites into it with her teeth.

Дали Сузан го сече јаболкото со нож?

1. Англиски јазик - Задолжителен предмет

Прашање

Susan likes to eat apples. She also likes to drink water. She doesn't cut the apple with a knife. A knife can be sharp. She usually holds the apple in her hand and bites into it with her teeth.

Што друго прави Сузан кога јаде јаболко?

Susan likes to eat apples. She also likes to drink water. She doesn't cut the apples with a knife. A knife can be sharp. She usually holds the apple in her hand and bites into it with her teeth.

Како Сузан го јаде јаболкото?

Susan likes to eat apples. She also likes to drink water. She doesn't cut the apples with a knife. A knife can be sharp. She usually holds the apple in her hand and bites into it with her teeth.

Кое е омиленото овошје на Сузан?

1. Англиски јазик - Задолжителен предмет

Прашање

Susan likes to eat apples. She also likes to drink water. She doesn't cut the apples with a knife. A knife can be sharp. She usually holds the apple in her hand and bites into it with her teeth.

Зошто Сузан не го сече јаболкото?

2. Македонски јазик - Задолжителен предмет

Прашање

Комуникацијата меѓу луѓето се одвива со помош на јазикот како средство за:

Согласката Д по звучност прави пар со безвучната согласка:

Согласката З по звучност прави пар со безвучната согласка:

2. Македонски јазик - Задолжителен предмет

Прашање

Кој од следните зборови е правилно запишан ?

Кој збор е погрешно напишан?

Именките кои означуваат збир, односно множество од предмети и суштества кои претставуваат целина ги викаме:

„Република Македонија има мултиетничко население“. Во оваа реченица збирна именка е:

„Јанко задоцни на првиот училиштен час“. Во оваа реченица бројна придавка е:

2. Македонски јазик - Задолжителен предмет

Прашање

Кој од следните зборови претставува присвојна придавка?

Како гласи личната замена во трето лице еднина?

Кој од следните зборови претставува показна замена?

„Ова лето беше многу топло“. Во оваа реченица показна замена е:

Со помош на глаголите искажуваме:

Според времето на случување на дејството, глаголите може да бидат
искажани во:

2. Македонски јазик - Задолжителен предмет

Прашање

Глаголите во сегашно време искажуваат работа, дејство или состојба која се одвива:

Зборовите ние, вие, тие се:

Зборовите оној, оваа, тоа, се:

Зборовите Андријана, Ермира и Елвис означуваат име на:

„Надвор врне“. Според составот реченицата е:

Реченица во која има само еден глагол е:

2. Македонски јазик - Задолжителен предмет

Прашање

Во која реченица правилно се употребени интерпункциските знаци?

Кое од следните имиња на празници е правилно напишан?

**Јазикот е природно средство за меѓусебно општење меѓу луѓето.
Тоа значи дека луѓето:**

„Коле стигна прв во салата. Втор дојде Фати. А Валбона и Весна се сместија во четвртиот ред. Сите дојдоа да навиваат за кошаркарската репрезентација на Македонија.“

Каков вид придавки се употребени во претходниот текст?

„Ја избриша прашината од мебелот во дневната соба“. Во оваа реченица зборот мебел означува:

2. Македонски јазик - Задолжителен предмет

Прашање

**„Кога ќе си дојдеш дома праша мама“.
Кои интерпункциски знаци недостигаат во исказот?**

**„Бабината пита е највкусна“.
Во оваа реченица зборот бабината
претставува:**

**„Постојано пееше во третиот ред на десеттото место од сидот“.
Подвлечените зборови во реченицата претставуваат:**

**Во која од следните реченици глаголот е во прво лице множина,
идно време?**

**Во кој од следните примери именката е објаснета со присвојна
придавка?**

2. Македонски јазик - Задолжителен предмет

Прашање

Во кој од следните примери именката е правилно објаснета со придавката?

Во кој од следните примери зборот „тој“ е показна заменка?

Во која реченица има лична заменка?

Кој од следните примери има бројна придавка?

„Баба често гледа ТВ - серии“. Тоа значи дека таа гледа:

„Си станал мажиште!“ Тоа значи дека тој станал:

Како треба да гласи именката „рака“ кога означува нешто намалено?

2. Македонски јазик - Задолжителен предмет

Прашање

Во реченицата: „Рипчињата во аквариумот го мамеа погледот на Жарко“. зборот рипчиња може да го замениме со:

„Кате ги полева цвеќињата“. Оваа реченица нема да го измени своето значење ако зборот полева го замениме со:

„Облаците и сонцето си поигруваа на небото“. Во оваа реченица зборовите облаците и сонцето може да ги замениме со:

„Велко и Даница беа изненадени“. Во оваа реченица подметот може да го замениме со:

2. Македонски јазик - Задолжителен предмет

Прашање

**„Кошаркарот напорно тренира“. Во оваа реченица именката
искажана во
женски род множина ќе гласи
:**

**„Славејот милозвучно пееше“. Во оваа реченица именката искажана
како нешто намалено ќе гласи:**

**„Полжавот се измолкна од куќичката и продолжи да лази
“. Во оваа реченица
зборот измолкна може да го замениме со:**

**„Учениците го освоија првото место на натпреварот по екологија“.
Подметот во оваа реченица може да го замениме со
лична замена во
:**

2. Македонски јазик - Задолжителен предмет

Прашање

„Напорно вежбаше
“.

**Кои зборови недостигаат во оваа реченица
за таа да биде сложена?**

Кратко литературно дело, напишано во проза го викаме:

Текст во кој животните зборуваат, се вика:

Човекот кој пишува басни го викаме:

**Големо литературно дело кое раскажува за детскиот живот, во кое
главните ликови се деца, се вика:**

**Зборовите
кои нè запознаваат со местото и времето кога се случил настанот ги
викаме:**

2. Македонски јазик - Задолжителен предмет

Прашање

Комуникацијата помеѓу ликовите во еден текст претставува:

Песните во кои поетот ги искажува своите чувства, се:

Во лирските песни откриваме:

Песните во кои се пее за татковината, се:

Патриотските песни кои будат патриотски чувства спаѓаат во редот на:

Песните во кои се раскажува за настани, случки и подвизи на познати и непознати јунаци, ги викаме:

2. Македонски јазик - Задолжителен предмет

Прашање

Доколку стиховите во песната се напишани на шеговит начин, станува збор за:

Итар Пејо претставува лик од:

Поетите се луѓе кои пишуваат:

Основната мисла присутна во еден расказ, претставува:

2. Македонски јазик - Задолжителен предмет

Прашање

„ - Еј ама убав Снешко! – извика Марко.

- Не е Снешко туку Снешка. – рече Зорка.

- Ех, смешка зошто Снешка? - праша Марко.
“

Во извадокот е претставен:

„ - Еј ама убав Снешко! – извика Марко.

- Не е Снешко туку Снешка. – рече Зорка.

- Ех, смешка зошто Снешка? - праша Марко.
“

Кои ликови среќаваме во текстот?

2. Македонски јазик - Задолжителен предмет

Прашање

**„Се вртат потскокнуваат,
како вистински балерини,
и паѓаат
,
паѓаат
како пердуви меки
од нашите постелнини.“**

Која поетска слика е прикажана во овие стихови?

**„Босо скока врапчето,
на снегот му студи,
Маја гледа од прозорец,
гледа и се чуди.“**

Кого гледала Маја низ прозорецот?

2. Македонски јазик - Задолжителен предмет

Прашање

„Широко жолто поле, уште пожелто од разлеаното сончево злато врз зрелите нивје, трепери од жештината. Нигде облаче. Долгиот јулски ден ги испратил облаците на неограничен одмор. Јас и Кате патувавме кон Охрид.“

Кога се случува дејствието?

„Широко жолто поле, уште пожелто од разлеаното сончево злато врз зрелите нивје, трепери од жештината. Нигде облаче. Долгиот јулски ден ги испратил облаците на неограничен одмор.“

Кое годишно време е опишано во текстот?

„Крушата гордо се креваше над многубројните дрвја околу неа. Нејзините гранки се надвиснуваа над околните бавчи. Раѓаше ситни но слатки круши.“

**Во горниот извадок
е
прикажан опис на:**

2. Македонски јазик - Задолжителен предмет

Прашање

„Кољо и Диме јавава по патеката обрасната со папрат. Таа беше толку тесна што на неа не можеа да се разминат ни двајца пешаци, а камоли коњи. Папратта наликуваше на шарен килим, прошаран овде-онде со првите жолти дамки што успеала да ги втисне раната есен.“

Каде се случува дејствието?

„Кољо и Диме јавава по патеката обрасната со папрат. Таа беше толку тесна што на неа не можеа да се разминат ни двајца пешаци, а камоли коњи. Папратта наликуваше на шарен килим, прошаран овде-онде со првите жолти дамки што успеала да ги втисне раната есен.“

Кои се носители на дејствието?

„Некаде на почетокот на учебната година, додека учителот пишува на таблата, во училницата се разнесе свон на искршено стакло.

- **Кој го стори тоа? – праша учителот.**

Младен не ги крева очите, само црвенеа во лицето.“

Каде се случува дејствието во горниот извадок?

2. Македонски јазик - Задолжителен предмет

Прашање

„Некаде на почетокот на учебната година, додека учителот пишуваше на таблата, во училницата се разнесе свон на искршено стакло.

- **Кој го стори тоа? – праша учителот.**

Младен не ги крева очите, само црвенеа во лицето.“

Кој е виновен за кршењето на стаклото?

„Се викаше Иле. Беше најтивкото и најтаинственото дета. Никој не беше сигурен дали е тажен, дали е плашлив или недружељубив. Не зборуваше со своите другари, освен кога требаше нешто да побара, а ретко бараше.“

Како е прикажан Иле?

2. Македонски јазик - Задолжителен предмет

Прашање

„Сашко: Ајде да си играме лекари!

Мирче: Може, само покажи ми ги рацете!

Сашко: Еве, гледај! Раце како сите други.

Мирче: Не сакам да играм. Прво рацете не ти се измиени, а второ види колкави нокти имаш.“

Мирче не сака да си игра со Сашко затоа што:

„Преку небото лета авион. Зад него останува бела трага. Таа како конец го сече небото од едниот до другиот крај. Јана ја крева главата и со поглед го следи белиот авион кој исчезнува.“

Во горниот извадок е прикажан говор на:

2. Македонски јазик - Задолжителен предмет

Прашање

„ – Прочитав една убава книга! – му се пофали Ана на Денис.

- **А каде ја најде? – праша Денис.**
- **Ја позајмив од библиотеката. Таму има многу такви книги.“**

Во горниот извадок е прикажан:

„Крај реката патуваше Полжавот. Сигурно одеше на далечен пат штом со себе си ја носеше куќичката со целата покуќнина. Го здогледа Рибата што плуваше крај брегот и му рече: - Блазе си ти тебе, низ зелени ливади одиш и куќичката си ја водиш!“

Кои ликови ги среќаваме во горниот извадок?

2. Македонски јазик - Задолжителен предмет

Прашање

„Крај реката патуваше Полжавот. Сигурно одеше на далечен пат штом со себе си ја носеше куќичката со целата покуќнина. Го здогледа Рибата што пливаше крај брегот и му рече:

- Блазе си ти тебе, низ зелени ливади одиш и куќичката си ја водиш!“

Кои човечки особини се претставени преку ликот на Рибата?

„По друм иде страшен делија,

страшно ми коња наљутило,

од очи му искри летат,

од уста му бели пени паѓет...“

Овие стихови претставуваат дел од:

2. Македонски јазик - Задолжителен предмет

Прашање

„Еднаш видов лав во чизми,

Пајак со гитара-видов штрк со една нога,

и една жаба во пижама.

Видов полжав со мустаќи и гуштер со брада-

во новата цртанка на малата Рада.“

Песната е:

„Татковино моја мила,

стегам срце, збирам душа

и завет голем јас ти давам,

дека вечно ќе те сакам.“

Овие стихови претставува дел од:

2. Македонски јазик - Задолжителен предмет

Прашање

„Кој убаво ќе напише ќе добие петка. – рече учителката. Сите пишуваа во полна тишина. Одеднаш на Зоре

**й
се испушти:**

- **Уф! – а имаше и зошто: моливчето се лизна и место буква направи едно надуено топче.**
- **Гума! – йшепна на Кате.**
- **Немам –одговори таа.**

Во отворената кутија што стоеше пред двете, една нова гума, мирно си лежеше. Кате се вцрви како домат. Зошто?”

Што треба да направи Кате за да го смени мислењето на Зоре?

„Надвор беше многу студено. На прозорецот стоеше едно врапче и гледаше во дворот. Долета едно гладно девојче и извика: Џив! Џив! Врапчето го отвори прозорецот и му даде трошки на девојчето.“

Што треба да направиме за да текстот стане разбирлив?

2. Македонски јазик - Задолжителен предмет

Прашање

**„Пред да излезе од дома мајката им рече на своите ќерки: -
Девојчиња, средете ја собава.**

- **Јас вчера ја средував – рече најстарата и застапа пред огледалото.**
- **Јас друг ден ќе работам – рече средната.**
- **Најмалата ништо не рече, ја среди собата и седна да ја пишува својата домашна задача.“**

Кои особини ја красат најмалата сестра?

„Гоце, Блаже и јас цело лето одевме заедно да собираме дрва. Јас бев мал и слабо товарев, па ми помагаше Гоце. Тој добро ја познаваша планината, а и силен беше, издржлив.“

Со кое од следните прашања се открива времето во кое се одвива дејствието во горниот извадок?

2. Македонски јазик - Задолжителен предмет

Прашање

„Блашко и Сашка се враќаа од училиште. Пред нив одеше една старица. Беше влажно. Старицата се лизна и падна.

- Придржи ми ја чантата! – ѝ рече Блашко на Сашка, и се стрчна да ѝ помогне на старицата.“

Која би била пораката на овој текст?

„Едно овчарче, пасејки ги овците, извикало: - Помош! Волк!

Селаните ја оставиле својата работа и отишле да му помогнат.

- Каде е волкот? – го прашале овчарчето.**
- Еве, јас сум волкот! – одговорило насмеано тоа.**

По неколку дена овчарчето повторно извикало: - Помош! Волк!

Овојпат селаните не дошле и волкот навистина му ги нападнал овците.“

Што мислите, зошто селаните следниот пат не му помогнале на овчарчето?

2. Македонски јазик - Задолжителен предмет

Прашање

„Едно овчарче, пасејки ги овците, извикало: - Помош! Волк!

Селаните ја оставиле својата работа и отишле да му помогнат.

- **Каде е волкот? – го прашале овчарчето.**
- **Еве, јас сум волкот! – одговорило насмеано тоа.**

По неколку дена овчарчето повторно извикало: - Помош! Волк!

Овојпат селаните не дошле и волкот навистина му ги нападнал овците.“

Како би го опишале ликот на овчарчето?

„Прославата по повод патрониот празник на училиштето ќе се одржи на 24. 05. 2014 година

Ќе ни претставува особена чест ако Вие со Вашето присуство ја збогатите нашата прослава.“

Зошто прославата поминала без поканетите гости?

2. Македонски јазик - Задолжителен предмет

Прашање

„Прославата по повот патрониот празник на училиштето

ќе се одржи на 24. 05. 2014 година

Ќе ни претставува особена чест и задоволство ако Вие со Вашето присуство ја збогатите нашата прослава.“

За кое училиште станува збор?

„Учениците се подготвуваат за тридневната ученичка екскурзија. Ќе тргнат на

20

мај

201

4

година

. Автобусите ќе бидат паркирани пред влезната врата на училиштето

:

„

Кога

учениците

ќе се вратат од екскурзија?

2. Македонски јазик - Задолжителен предмет

Прашање

**„Учениците се подготвуваат за тридневната ученичка екскурзија. Ќе тргнат на
20
мај
201
4
година
. Автобусите ќе бидат паркирани пред влезната врата на училиштето
:
“**

Од каде ќе тргнат учениците на екскурзија?

Ана пишувала за настан на кој присуствувала. Тоа значи дека таа:

Кога ученикот зборува или пишува за изгледот на предметите или суштествата, тогаш тој:

Кога учениците разговараат за изгледот и карактерот на ликовите во еден расказ тогаш тие:

2. Македонски јазик - Задолжителен предмет

Прашање

Кога зборуваме или пишуваме за нешто што лично сме го доживеале, тогаш:

Кога треба да зборуваме или пишуваме за нешто што сме го прочитале или слушале, тоа значи дека треба да:

Кога треба да пишуваме за настан слушнат од друго лице, тогаш треба да:

Кога треба да зборуваме или да пишуваме за изгледот на сцената на една театарска претстава, тогаш треба да:

**Кога сакаме писмено да прашаме или да му кажеме нешто на некој кој живее далеку од нас, тогаш треба да напишеме
:**

2. Македонски јазик - Задолжителен предмет

Прашање

Кога ученикот треба опширно да одговори на прашања од обработен текст, тогаш тој треба да:

Во која од следните реченици е даден опис на природата?

Во која од следните реченици е опишано годишното време пролет?

Во која од следните реченици е опишано годишното време зима?

Во која од следните реченици е даден опис на лик?

2. Македонски јазик - Задолжителен предмет

Прашање

„Акцијата за обнова на зеленилото наречена „Засади дрвце и ти“ ќе се организира на 5. 05. 2014 година од 9 до 17 часот.“

Горниот извадок претставува:

„Резултатот го читавме на големиот црн екран кој беше поставен високо на ѕидот од салата. Црвените бројки постојано се менуваа во зависност од постигнатите голови.“

Во овој извадок е даден опис на:

„Шалот беше долг и широк. Неговата црвена боја ме мамеше да го допрам. Ја почувствував мекоста на волната и мирисот на баба. На краевите од шалот таа исплела жолто цветче со зелени листенца.“

Во овој извадок е даден опис на:

2. Македонски јазик - Задолжителен предмет

Прашање

„Учителката влезе во училницата. Покрај неа имаше едно девојче.

- Ученици ова е вашето ново другарче. – рече учителката. Се вика Јасмина. Таа од денес ќе учи заедно со вас.“

Во овој извадок е даден опис на:

„Пред почетокот на учебната година, Дејан со своето семејство се пресели во новата зграда на крајот од градот. Прво што направи излезе на терасата. Си замислуваше дека ќе види парк и деца како си играат во него.“

Која форма на изразување е употребена во горниот извадок?

„Милка секогаш летниот распуст го поминувала на село. Таму таа често берела зрели јаболка и сливи од кои нејзината баба правела мармалад.“

Која форма на изразување е употребена во горниот извадок?

2. Македонски јазик - Задолжителен предмет

Прашање

Вера писмено ги извести своите другарчиња за денот, местото и времето на одржување на роденденската забава.

Што напишала Вера?

„Иван беше добро дете. Многу решителен за свои години. На раст беше низок, но мускулест и подвижен како верверица.“

Во горниот извадок е даден опис на:

„Иван беше добро дете. Многу решителен за свои години. На раст беше низок, но мускулест и подвижен како верверица.“

Со кое прашање ќе дознаеме за изгледот и особините на Иван?

2. Македонски јазик - Задолжителен предмет

Прашање

„Внимателно набљудувајте ја низата од слики. Потоа размислете и составете интересна приказна - рече учителката.“

**Каква задача добиле учениците
?**

„На таблата имаше испишано неколку зборови. Прочитајте ги зборовите, размислете за нив и составете интересна приказна - рече учителката.“

**Што треба да прават учениците
?**

„Секој утре да донесе по едно јаболко. – рече учителката. Следниот ден, секој имаше донесено по едно убаво јаболко. Разгледајте ги убаво јаболката, размислете и напишете нешто за нивниот изглед. – рече учителката.“

**Што треба да прават учениците
?**

2. Македонски јазик - Задолжителен предмет

Прашање

Настаните во филмот се снимаат со помош на:

Човекот кој се грижи за сценографијата во една театарска претстава го викаме:

Музиката во филмот треба да биде соодветна на:

За да позајмуваме книги од библиотека треба да:

Најсовршено средство за меѓусебно општење помеѓу луѓето е:

Кој од следните зборови означува име на суштество?

2. Македонски јазик - Задолжителен предмет

Прашање

Кој од следните зборови означува име на предмет?

Збирните именки се пишуваат со:

Кој од следните зборови претставува збирна именка?

Придавките кои означуваат чие е нештото ги викаме:

Придавките кои се образуваат од броеви и го означуваат редот на предметите, суштествата и појавите ги викаме:

Заменките со кои ги посочуваме предметите, суштествата и појавите ги викаме:

2. Македонски јазик - Задолжителен предмет

Прашање

Показните заменки секогаш се пишуваат:

Глаголите кои искажуваат идно време се состојат од глаголот во сегашно време и зборчето:

Како го викаме дејството кое се одвива пред моментот на зборување?

Во која реченица глаголот е во идно време?

Според составот речениците може да бидат:

Простите реченици се состојат од:

2. Македонски јазик - Задолжителен предмет

Прашање

Како го викаме говорот од друго лице, пренесен онака како што е изговорен?

Како го викаме говорот од друго лице, пренесен со свои зборови?

Говорот од друго лице, пренесен онака како што е изговорен го обележуваме со:

**Во реченицата: На плоштадот „Македонија“ имаше многу народ
,
зборот народ означува:**

**Во реченицата: Мамината прегратака е најтопла
,
зборот мамината
претставува:**

2. Македонски јазик - Задолжителен предмет

Прашање

Во реченицата: Уште десеттина дена има до натпреварот
,

б
ројна придавка е:

Која од следните реченици содржи бројна придавка?

Исказот: Си купил моториште!, **значи дека тој купил:**

Исказот: Си соши фустанче!, **значи дека си сошила:**

Во која од следните реченици глаголот е во сегашно време?

2. Македонски јазик - Задолжителен предмет

Прашање

Во која од следните реченици глаголот е во идно време?

Кога глаголот е напишан во сегашно време означува дејство кое се одвива:

Во која од следните реченици има употребено два глагола?

Која од следните реченици според својот состав е сложена?

Во кој од следните примери именката е објаснета со бројна придавка?

2. Македонски јазик - Задолжителен предмет

Прашање

Во која од следните реченици е употребена показна замена?

Која бројна придавка е правилно напишана?

Наташа живее во РМ

. Тоа значи дека Наташа живее во:

Кристијан е ученик во петто одделение. Тој наредната учебна година ќе биде ученик во:

Во реченицата: Кире постојано нешто пишува, глаголот може да го замениме со збор кој:

2. Македонски јазик - Задолжителен предмет

Прашање

Реченицата:

Тие побараа прошка за сторената грешка
, има исто значење со реченицата:

Во реченицата: Зрелите јаболка ги мамеа детските погледи,
подметот искажан како нешто намалено ќе гласи:

Реченицата: На масата имаше ронки леб, **нема да го изгуби**
своето значење ако зборот ронки го замениме со:

Подметот во реченицата: Јовица и Јетон постојано се заедно,
може да го замениме со:

2. Македонски јазик - Задолжителен предмет

Прашање

Читањето на уметнички текст со правилно дишење, со јасен и чист изговор на гласовите, со внесување на емоции и почитување на интерпункциските знаци се нарекува:

Во која литературна творба, преку ликот на животните се искажуваат карактерните особини на луѓето?

Во басните лисицата е:

**Штурецот и мр
а
вката се ликови од:**

Како најчесто е прикажан волкот во басните?

2. Македонски јазик - Задолжителен предмет

Прашање

Исто или слично значење на зборот „комшии“ има зборот:

Кога во еден текст ликовите комуницираат помеѓу себе има:

„Низ полето цело лето,

штурчо песна пееше.

Од утрина до вечер,

пееше и свиреше.“

Во кое годишно време се одвива дејствието во оваа строфа?

2. Македонски јазик - Задолжителен предмет

Прашање

**Во л
ирските песни поетот ги искажува своите:**

Основно чувство во патриотските песни е:

Песните во кои доминира хуморот се викаат:

Дејствието во расказите се одвива низ:

**Најпознатиот лик во народните приказни
е:**

Текстот напишан по улоги наменет за драмска изведба се вика:

2. Македонски јазик - Задолжителен предмет

Прашање

Драмското читање претставува:

Голема литературна творба напишана во проза со повеќе ликови, случки и настани е:

Кратка литературна творба во која писателот раскажува случка, настан или доживување од секојдневниот живот е:

2. Македонски јазик - Задолжителен предмет

Прашање

”
Низ мекото снеже што го сее,

зимата на децата им пее:

Јас сум деца, цвет од шари,

посребрен со ситни пари.”

Кој им пее на децата?

Гласовното совпаѓање по звучност на крајните зборови во стиховите е:

Во лирските
песни
и не се пее за:

2. Македонски јазик - Задолжителен предмет

Прашање

**”
Денес падна првиот снег. Сите радосни излеговме надвор. Во училишниот двор направивме убав и голем Снешко. На главата му ставиваеме црвена кофа, две кумурчиња место очи и нос од морков.”**

Каде се случил настанот?

„Северџан најде едно мошне убаво пенкало. Пенкалото му го даде на наставникот. Тој ја погали по косата и се обрати на учениците:

- Деца!

**Погледнете, дали некој од вас загубил вакво пенкало
?!”**

Како постапила Северџан?

2. Македонски јазик - Задолжителен предмет

Прашање

„Било пладне

**,
а селанецот бил гладен, па решил да руча во меаната и да се стопли.
Го врзал магарето пред меаната и влегол.“**

Кога се одвива дејството?

„Мајката: Првин измиј се, па потоа седни да јадеш.

**Дончо: Ете ти сега! Јас кој се имам скарано со сапунот и со
водата ќе мора да се измијам.
“**

Со кого е скаран Дончо?

„Шетајќи кралот слушнал глас кој пеел некоја народна песна, па си помислил: - Тој што вака пее, мора да е среќен човек. Следејќи ја песната навлегол во едно лозје и видел момче кое пеејќи работи.“

Каде се одвива настанот?

2. Македонски јазик - Задолжителен предмет

Прашање

Со која од следниве поговорки може најмногу да се поттикне работливоста кај луѓето?

„Скокајќи од гранка на гранка, верверичката паднала токму пред заспаниот волк. Тој рипнал и посакал да ја лапне.“

Кои ликови ги среќаваме во овој извадок?

„Владе секогаш звони на сите звончиња по катовите, се додека не стигне до својот стан. Тој тоа го прави мошне вешто. Никој до сега не го фатил.“

Како ја оценуваш постапката на Владе?

2. Македонски јазик - Задолжителен предмет

Прашање

„Горда наша Шар Планино,

виши снага, шири крила!

Вечно млада, ко цвет лична

Ти ни красиш земја мила.“

**На
кој вид песна
припаѓаат
овие стихови?**

2. Македонски јазик - Задолжителен предмет

Прашање

„На една глувчешка селска свадба,

еден градски глушец, гост,

се фалел дека тој во градот,

никогаш не држи пост

;
“

Од кој вид на песна се овие стихови?

„Низ полето цело лето,

штурчо песна ширеше

од утрина до вечер

пееше и свиреше.“

Овој извадок од басна е напишан во:

2. Македонски јазик - Задолжителен предмет

Прашање

„Беше тоа еден ден пред Нова Година. Долгите улици на градот, градините, гранките на дрвјата, покривите на куќите и сè наоколу беше облечено во бело. Пред шарените излози беше преполно со луѓе.“

Во овој текст писателот ни ја опишува атмосферата во градот. Тоа значи дека во текстот има говор на:

„Сечко сече, Марта дере, Април носи, Мај продава...“

Кој месец е наречен сечко?

Петар во рацете носеше прекрасен цвет од хартија кој сам го изработи.

Со него тој сакаше на својата мајка да ѝ го честита празникот „Денот на жената“.

За кој празник станува збор?

Кога писателот ги опишува Пелистерските очи станува збор за:

2. Македонски јазик - Задолжителен предмет

Прашање

„Другари приближува нашиот најголем празник! По тој повод организираме едно весело наткршување на вапцани јајца.“

За кој празник станува збор во овој извадок?

„Две жаби живееле во една мала бара

**.
К**

ога таа пресушила

/

тргнале да бараат друга. Пронашле еден длабок бунар. Помладата жаба извикала: Ајде да скокнеме внатре

!

-

Може многу лесно да скокнеме долу

/

но ако оваа вода пресуши дали ќе можеме да излеземе надвор - рекла постарата жаба.“

Постарата жаба е прикажана како:

2. Македонски јазик - Задолжителен предмет

Прашање

**„Чичко Трајан се вртеше наоколу, барајќи помош да ги истовари дрвата. Но, улиците беа празни, з
а
што зимата сите ги имаше скриено во домовите.**

- Чичко Трајане, можам ли да ти помогнам? – праша Кире.

Како ја оценуваш постапката на Кире?

**Учениците добиле задача преку песна да ги искажат своите
чувства кон татковината. Каква песна треба да напишат учениците?**

**Калина своите чувства кон природата, луѓето, предметите
сака да
ги искаж
е
преку песн
а.
Какав
а
песн
а ќе напише таа?**

2. Македонски јазик - Задолжителен предмет

Прашање

Јана доби задача да напише песна со која ќе ги насмее своите пријатели.

Каква песна треба да напише Јана?

Во пресрет на патрониот празник на училиштето учениците добиле задача да напишат песна за Гоце Делчев. Какава песна треба да напишат учениците?

**”
За неколку часа отпадоците ги собраа, тревата ја искосија и со вода
ја наросија. Покрај патеката садија цвеќиња**

**.
Одеднаш сиот простор доби прекрасен
изглед**

.”

За каква акција станува збор во овој извадок?

2. Македонски јазик - Задолжителен предмет

Прашање

**„
Децата се птици што ни пеат,

како сонце со љубов не греат.

Сите деца на светот се исти,

поточиња жуборливи, чисти.“**

Со што поетот ги споредува децата во овој извадок?

**„Две жаби живееле во една мала бара
. К
ога таа пресушила
,
тргнале да бараат друга. Пронашле еден длабок бунар. Помладата
жаба извикала: „ – О прекрасна вода! Ајде да скокнеме внатре. –
Можеме многу лесно да скокнеме долу
,
но ако оваа вода пресуши дали ќе можеме да излеземе надвор –
рекла старата жаба.“**

Како го оценуваш предлогот на помладата жаба?

2. Македонски јазик - Задолжителен предмет

Прашање

**“
Црвена е Татковината,

кога се вее алово знаме,

црвено е во цветовите на булките,

во пролеаната крв на јунакот,

во црвеното вино.”**

Какви чувства се искажани со овие стихови?

Која форма на изразување ја применуваме ако сакаме да зборуваме или пишуваме за изгледот на природните убавини?

Која форма на изразување ја користиме ако сакаме да зборуваме или пишуваме за настан слушнат од друго лице?

Кога зборуваме или пишуваме за нешто што сме го виделе, точно наведувајќи го местото и времето на настанот, тогаш велиме дека:

2. Македонски јазик - Задолжителен предмет

Прашање

Која форма на изразување треба да користиме ако сакаме да зборуваме или пишуваме за изгледот на сцената на една театарска претстава?

Кога зборуваме за изгледот на костимите во една театарска претстава тоа значи дека:

Кога известуваме тогаш треба да водиме сметка за:

Ако сакаме писмено да се обратиме до некој кој живее далеку од нас треба да напишеме:

Изгледот на предметите во училницата може да го:

За текот и резултатот на еден спортски натпревар може да:

2. Македонски јазик - Задолжителен предмет

Прашање

Кире добил задача опширно да одговори на прашањата од обработен текст.

Што треба да направи Кире?

**Филип добил задача да пишува за убавините на природата.
Што треба да направи Филип?**

„Тие беа кожни длабоки чизмички со темно кафена боја. Кожата им беше мека на допир но непропустлива на вода. Внатре беа обложени со топла обвивка за да ги заштити детските нозе од снег и студ.“

Во овој извадок е даден опис на:

„Петар славеше роденден. Дојдоа гостите и му донесоа подароци. Мишко му донесе воз, Гултен му донесе боици, а Ајтен топка. Малечката Ива го заборава подарокот. Таа се расплака. Петар се насмевна и рече: - Не плачи, јас тебе те чекав, а не подарокот.“

Која форма на изразување е употребена во горниот извадок?

2. Македонски јазик - Задолжителен предмет

Прашање

„Обидете се да напишете нешто за вашата незаборавна роденденска прослава - рече учителката.“

Што треба да прават учениците ?

„Учениците ја посетија млекарницата каде имаа можност да го видат и да се запознаат со процесот и производството на голем број млечни производи.“

Што треба да прават учениците кога ќе се вратат на училиште ?

Бошко доби задача да пишува за изгледот на животните во зоолошката градина. Што треба да направи Бошко?

Учениците добиле задача да прераскажат една народна приказна. Кога ќе прераскажуваат глаголите кои ќе ги користат треба да бидат во:

2. Македонски јазик - Задолжителен предмет

Прашање

Како се н

а

р

е

кува работата на луѓето кои ја уредуваат бината во согласност со содржината на една театарска претстава?

За секоја нова театарска претстава во зависност од содржината на претставата се подготвуваат нови:

Кире подготвува емисија во која сака само со помош на говорот, музиката и други звучни ефекти да прикаже еден драмски текст.

Каква емисија подготвува тој?

2. Македонски јазик - Задолжителен предмет

Прашање

„Од кога ни се родија тие три бели, нескротливи јаренца дворот ни стана поубав. Наутро ги пуштавме кај мајка им да се нацицаат, а потоа цел ден трчаа низ дворот.“

Во овој извадок авторот ни:

2. Македонски јазик - Задолжителен предмет

Прашање

„Почитувани,

Ве известуваме дека родителската средба на учениците од V² одделение ќе се одржи во просториите на ОУ „8 Септември“ во Скопје на 16.05.2014 година (петок) со почеток во 17.00 часот

;

Чи родители се повикани на родителската средба?

„Во мамината преградка се чувствувам сигурно“. Во оваа реченица присвојна придавка е:

Со кој збор се појаснува именката лисица?

Во реченицата: Таа девојка секогаш носеше црвена марама, показна заменка е:

Кој од следните зборови претставува именка од женски род?

2. Македонски јазик - Задолжителен предмет

Прашање

Кој од следниве зборови е глагол?

Глаголи се зборови што означуваат:

Во реченицата: Мравката носеше голем товар, **зборот мравката претставува:**

Кој од следните географски поими е правилно напишан?

Во која од следните реченици зборовите се правилно подредени?

Сложената реченица има:

2. Македонски јазик - Задолжителен предмет

Прашање

Во реченицата: Баба ми сплете ново шалче, зборот шалче означува:

Која од следните реченици е правилно напишана?

Глаголите
учам, учиш, учи
се напишани во:

Што претставува јазикот на кој говориме?

Согласката б по звучност прави пар со безвучната согласка:

Кој од следните зборови е присвојна придавка?

2. Македонски јазик - Задолжителен предмет

Прашање

Кој од следните зборови претставува именка од женски род?

Кои од наведените зборови се правилно напишани?

Во басните ликовите најчесто се:

Пипи Долгиот Чорап
претставува лик од:

Мотивот во патриотските песни е:

**Ана постојано гледаше во Иван. Кога тој го забелажа тоа
,
таа
поцрвене.“**

Од текстот дознаваме дека:

2. Македонски јазик - Задолжителен предмет

Прашање

„Гавранот нашол големо парче сирење. Стоел високо на гранката цврсто држејќи го во клунот. Го видела лисицата и му рекла:

-

Колку убави пердуви имаш, но не знаеш да пееш!

За да и докаже на лисицата дека може да пее, тој го отворил клунот и гракнал, а сирењето му паднало. Лисицата го дофатила сирењето и побегнала.“

Во басната гавранот е претставен како:

Глаголите

врне,

игра,пее

се напишани во:

Ве молиме да го почитувате кукниот ред во зградата.

- Забрането е валкање и оштетување на сидовите, вратите, ходниците, лифтовите.

- Времето од 15 до 17 часот и од 22 до 8 наутро е време за одмор.“

Горниот извадок претставува:

2. Македонски јазик - Задолжителен предмет

Прашање

Што е декор?

Зошто служат библиотеките?

Песните во кои се искажуваат чувства, мисли или расположение се:

Расказот се пишува во:

Читањето по улоги го викаме:

Песните се пишуваат во:

Прозно литературно дело кое обработува теми од животот на децата со дејствие кое трае подолг временски период го викаме:

2. Македонски јазик - Задолжителен предмет

Прашање

„Гавранот нашол големо парче сирење. Стоел високо на гранката цврсто држејќи го во клунот. Го видела лисицата и му рекла:

-

Колку убави пердуви имаш, но не знаеш да пееш!

За да и докаже на лисицата дека може да пее, тој го отворил клунот и гракнал, а сирењето му паднало. Лисицата го дофатила сирењето и побегнала.“

Зошто лисицата му ласкала на гавранот?

„Тргнаа кон Вардар во подножјето на Жеден. Сонцето ги растурило своите топли мајски зраци по водите на Вардар, а нивниот одблесок правеше прекрасен спектар на бои.“

Во горниот извадок прикажан е опис на:

2. Македонски јазик - Задолжителен предмет

Прашање

„Јане: Мамо сакам да одиме кај баба!

Мама: Сега е зима. Ќе одиме во лето. Тогаш имаме годишен одмор.

Јане: Можам ли сега да и напишам писмо?

Мама: Секако сине.“

Извадокот претставува дел од:

„Ој ти дејче убоо,

со снага тнка, висока.“

Подвлечените зборови во текстот може да ги замениме со:

2. Македонски јазик - Задолжителен предмет

Прашање

Преку патриотските песни поетот ни ги искажува своите чувства кон:

” На една глумчешка селска свадба,

еден градски глушец, гост,

се фалел дека тој во градот,

никогаш не држи пост.”

Настаните во овој извадок од песната се:

2. Македонски јазик - Задолжителен предмет

Прашање

„Во тек беше реализацијата на мартовската еко-акција. Ива и Свето се упатија кон училиштето носејќи по една садница. Тие во училишниот двор ги посадија своите садници. Со тоа дадоа свој придонес во успешноста на акцијата.“

Кои ликови ги среќаваме во извадокот?

„Еден гавран нашол парче сирење, го приклезтил со клунот и застанал да се одмори на една гранка. Под дрвото минувала лисицата. Таа веднаш почнала да размислува како да стигне до сирењето.“

За што размислувала лисицата?

Со прашањето: Каков ученик е Филип? дознаваме за:

На огласната табла пишуваше: „Членовите на хорот ќе имаат проба секој петок во 17 часот.“

Од исказот дознаваме за:

2. Македонски јазик - Задолжителен предмет

Прашање

Кога зборуваме за настан кој сме го доживеале, станува збор за:

За да ги кажеме надворешните и внатрешните карактеристики на предметите и суштествата користиме:

Што треба да има еден писмен состав за да претставува целина?

Во која од следните реченици е употребена присвојна придавка?

„Вања секој ден минуваше по истата уличка и купуваше кифли од соседната продавничка.“

Кои зборови во реченицата означуваат нешто намалено?

Зборовите: пее, свири, пишува **се:**

2. Македонски јазик - Задолжителен предмет

Прашање

Во реченицата:

Тој ја погледна прекорно и таа знеше дека погрешила
, зборовите Тој и таа се:

Зборовите

ние,

вие, тие **се:**

2. Македонски јазик - Задолжителен предмет

Прашање

Реченицата

Стана, се изми и тргна на училиште

.

според својот

состав е:

**Имињата на
празниците
ги пишуваме со:**

Зборовите

моториште, мачориште, двориште

означуваат нешто:

2. Македонски јазик - Задолжителен предмет

Прашање

Зборовите јаболче, славејче, поточе означуваат нешто:

Реченицата
Авионот лета
, според составот е:

Реченицата која содржи повеќе од еден глагол, по состав е:

Во реченицата: Постојано минуваше низ таа уличка, показна заменка е:

Како гласи личната заменка во прво лице множина?

Во реченицата: Таа ја искористи својата трета шанса, бројна придавка е:

Зборовите петти, осми, дванаесетти претставуваат:

Зборовите езерски, планински, музејски претставуваат:

2. Македонски јазик - Задолжителен предмет

Прашање

Кој од следните зборови е правилно напишан?

„Тој размислува и решава“. Каква е по состав оваа реченица?

Во кој род е именката езеро?

Глаголот учевме **искажува:**

Глаголите плива, врне, зборува **искажуваат:**

Зборовите морскиот, лекарскиот, детскиот **претставуваат:**

„Нејзините очи светкаа како ѕвездичи“. Во оваа реченица присвојна придавка е:

Кој од следните зборови претставува збирна именка?

Во реченицата: Ветерот се разлутуи и почна да дува, зборот ветерот претставува:

2. Македонски јазик - Задолжителен предмет

Прашање

Во реченицата: Небото го покрија темни облачишта, зборот облачишта претставува:

Како треба да гласи глаголот пишува во трето лице множина, во сегашно време?

Во кој од следните примери е употребена лична замена?

Во кој од следните примери именката е објаснета со присвојна придавка?

Во која од следните реченици глаголот е во минато време?

Која од следните реченици содржи присвојна придавка?

„По стоти пат во себе ја кажа песната. Требаше да настапи веднаш по првата точка. Штом излезе на сцената погледна во вториот ред.“

Каков вид придавки се употребени во претходниот текст?

2. Македонски јазик - Задолжителен предмет

Прашање

„Почнаа да прават Снешко“. Во оваа реченица е изоставен:

Во која од следните реченици нема употребено подмет?

Во која од следните реченици глаголот е во трето лице
еднина, минато време?

Која од следните реченици е сложена?

Во која од следните реченици е употребена присвојна придавка?

Која од следните реченици содржи бројна придавка?

„На вториот час имаа контролен тест по македонски јазик“.
Во оваа реченица бројна придавка е:

„Учителот на Дарко му даде втора шанса“. Во оваа реченица зборот
втора претставува:

Опреди која заменка ќе ја употребиш за да ја искажеш мислата:
Децата со нерпение чекаа да почне натпреварот.

2. Македонски јазик - Задолжителен предмет

Прашање

Петра секогаш беше прва во извршување на задачите. Спротивно на неа Кате секогаш беше:

Со кои зборови треба да ја дополниме реченицата: Јана долго размислуваше, за таа да биде сложена реченица?

Во реченицата: Славејчето ја пееше својата милозвучна песна, подметот може да го замениме со:

Во реченицата: Ракометарите го одиграа својот последен натпревар во сезоната, подметот искажан во женски род множина ќе гласи:

**”
Месечината го осветлуваше патот
“.** Во оваа реченица подметот може да го замениме со лична заменка од:

2. Македонски јазик - Задолжителен предмет

Прашање

„Дедо ми секој ден купуваше тазе леб“. Оваа реченица не го менува значењето ако кажеме:

Како треба да гласи глаголот танцува во трето лице множина, минато време?

„Во Дабница, прилепско, во близината на манастирот Трескавец, има извор чија вода тече низ еден камен. Тој извор се вика Самовилец.“

Во горниот извадок е прикажан говор на:

Расказот претставува кратко литературно дело напишано во:

Основни карактеристики на лирските песни се:

2. Македонски јазик - Задолжителен предмет

Прашање

**”
Крај поточе мирис лее**

еден мајски цвет,

а пчеличка брмчи, пее:

- Дај ми малку мед!”

Кои зборови во оваа строфа се римувани?

2. Македонски јазик - Задолжителен предмет

Прашање

**”
Тивко, тивко шега не е
,**

црвен облак свезди сее.

Дрвјата на прошетка одат,

слончиња за рака водат.”

**На кој вид песни припаѓаат
горенаведените стихови?**

2. Македонски јазик - Задолжителен предмет

Прашање

„Мајката е

нежност драга

- цвет што збори.

За нас таа

с

è

би дала,

с

è

ќе стори

.”

Колку стихови има во оваа строфа?

Кратките и мудри изреки со поучни мисли ги нарекуваме:

2. Македонски јазик - Задолжителен предмет

Прашање

Кога текстот е напишан во проза, велиме дека го напишал:

Основни мотиви во епските песни се:

Реченицата: „Железото се кова додека е жешко.“ претставува:

„ –
Момче, застани малку!

- **Мене ми се обраќате?**
- **Да, имам писмо за тебе.**
- **Писмо за мене? – се изненадив.“**

Во извадокот е претставен:

Ако знаеме за што се раскажува во едно литературно дело тогаш ние знаеме за:

2. Македонски јазик - Задолжителен предмет

Прашање

**Ако знаеме кои се ликовите во еден расказ,
тоа значи дека знаеме кои се:**

**За кои ликови станува збор во едно литературно дело откриваме со
прашањето:**

**Како се нарекуваат литературните дела наменети за самостојно
читање дома?**

Носители на дејството во басните се:

Во стиховите на песните откриваме:

**Стиховите кои сочинуваат една мисловна целина во песната се
нарекуваат :**

Какви особини им се припишуваат на животните во басните?

Кога изразно читаме текст по улоги тоа значи дека читаме:

2. Македонски јазик - Задолжителен предмет

Прашање

„Мразот како чуден сликар

по прозорци црта цвеќе,

а пак надвор врне снежец

и ме прави многу среќен.“

За кое годишно време пее поетот во претходните стихови?

**На почетокот од летниот распуст баба Зора дојде во градот да ја земе внуката
Михаела. Тие отпатуваа на село.“**

Кога се случил настанот?

2. Македонски јазик - Задолжителен предмет

Прашање

„Со Наде седам на часовите. Заедно учиме и си помагаме една на друга. На одморот си ги делиме ужинките. Кога сум болна таа ме посетува. Кога Наде е болна јас ја посетувам... – почна да раскажува Ана.“

Која е темата во горниот извадок?

„Татко ми е висок човек. Има бистри, сини очи и црни мустаќи. Тој е машиновозач. Неговите цврсти раце управуваат со возот.“

Во горниот извадок е даден опис на:

2. Македонски јазик - Задолжителен предмет

Прашање

**„Месеот мај ги води
на излет учениците,
месеот мај ги сирка
оценките во дневниците.“**

Како е прикажан месеот мај?

**“
Сонцето од утро до вечер го растура своето злато по полињата и
горите. Ливадите бујат. Житата се класат. Дрвјата се облечени во
својата зелена облека како за празник.“**

За кое годишно време станува збор во горниот извадок?

2. Македонски јазик - Задолжителен предмет

Прашање

**“
Благојче седеше во четвртата клупа до прозорецот и често погледнуваше кон Бојка. Срцето му се исполнуваше со необична топлина
. Нејзината насмевка за него беше најубавото ѓерданче од бисерчиња.”**

Од текстот дознаваме дека:

„Убава цветна ливада. Неколку бубалки стоеја на цвеќињата и тревките.

- Само да се најадам, па потоа ќе пеам – рече славејот и ги изеде шарената пеперутка, литмарата и другите бубалки.

Почна да пее. Но, немаше кој да го слуша.”

Која човечка особина е прикажана преку ликот на славејот?

2. Македонски јазик - Задолжителен предмет

Прашање

„Секое утро рибарот ги земаше жената и детето и одеше на островот. Додека тој ловеше риби, жена му собираще суви гранки и палеше оган, на кој го готвеше ручекот. Детето пак си играше на сонцето, собираще полжавчиња и школки.“

Каде се одвива дејствието?

„Младата пролет

на момиче потсетува, кое

засрамено, со пуполки во коси

сред полјата збунето стои .“

Како е прикажана пролетта во овие стихови?

2. Македонски јазик - Задолжителен предмет

Прашање

„Учениците играа во училишниот двор. Наеднаш неколку од нив се стрчаа кон дворната врата. Едно мало девојче низ плач извикуваше:

- Одведете ме кај мама, ја сакам мама!

- Која е твојата мајка, малечка? - праша Ана.“

Каде се одвива настанот?

„- Ајде стани! – ја будеше мајка и. – Денес ќе имаме гости.

Маја скокна од креветот. Веќе не беше сонлива.

- Јас ќе ти помогнам мамо! – рече таа. Ќе ја суредам собата и ќе подготвам слатки.“

Какво девојче е Маја?

2. Македонски јазик - Задолжителен предмет

Прашање

· ”
Бисеро моме, Бисеро,

шчо носиш бисер на грло?

Твоето грло хубаво

и от дробнаго бисера

хилјада п 'ти побело
· ”

Овие стихови претставуваат дел од:

„Додека Лавот спиел, еден глушец му претрчал преку устата. Тој се разбудил, го фатил и се готвел да го лапне. Но глушецот го замолил да не го јаде, велејќи дека ќе му се оддолжи, ако го поштеди. Лавот се насмеал и го пуштил.“

Извадокот претставува дел од:

2. Македонски јазик - Задолжителен предмет

Прашање

. „ - Што е тоа, тато? - ме праша Елена.
-Честитка.

-

Од кого е? – праша љубопитно.

-

Не знам. – реков.

-

За кого е?

-

За тебе

.”

Помеѓу кого се одвива разговорот?

2. Македонски јазик - Задолжителен предмет

Прашање

„Се здружиле кучето Авко и мачето Мрњавко и станале пријатели. Заедно оделе на прошетки, заедно играле, заедно ги извршувале сите работи. Сè што имале братски си делеле.“

Која е темата за која се раскажува во горниот извадок?

„Мокри, изземнати, преморени и гладни стигнавме во едно село. Беше есенска вечер, магловата и влажна. Се сместивме во селското училиште. Јас како помлад и поиздржлив, останав да чувам стража.“

Кога се случува дејствието во горниот извадок?

2. Македонски јазик - Задолжителен предмет

Прашање

” -
Колку ума имаш? – го прашала еднаш
лисицата ежот.

-
Еден - рекол ежот. – А ти?

- Јас имам сто ума – се пофалила лисицата.”

Извадокот претставува дел од:

2. Македонски јазик - Задолжителен предмет

Прашање

Прочитај ја внимателно строфата:

„Сакам да живеам

под синото небо,

планините ѕидови да бидат,

тревата мекиот килим,

а дрвјата покривка нежна.“

Какви емоции ни открива поетот?

2. Македонски јазик - Задолжителен предмет

Прашање

Прочитај ги внимателно стиховите:

**”
Учи ме мајко карај ме
,**

како да ја земам Лилјана,

Лилјана мома убава,

Лилјана тенка висока,

Лилјана бела црвена,

Лилјана ситен босилек,

Лилјана една на мајка.”

Кое основно чувство го искажува поетот со нив?

2. Македонски јазик - Задолжителен предмет

Прашање

Иван сака да напише песна со која ќе ги искаже своите чувства кон Јана. Каква песна треба да напише тој?

„Новиот број на списанието наменето за љубителите на природата ќе излезе од печат на 3. 05. 2015 година.“ Од исказот дознаваме за:

„Едно девојче дојде до продавницата за леб, и случајно ги испушти парите. Тукушто сакаше да ги крене од земја, кога тоа го стори едно момче. Тоа се насмеа и љубезно и ги даде парите.“

Која карактерна особина го краси момчето?

2. Македонски јазик - Задолжителен предмет

Прашање

Прочитај ја внимателно строфата:

„Детството ми беше весело,

од игри, од радост, од промени.

Сега од детството Бошково

ми останаа само спомени.“

Кое чувство го изразува поетот?

2. Македонски јазик - Задолжителен предмет

Прашање

„Дојде есен. Мравките брзаа да ги приберат во своите домови и последните зрнца пред да дојдат есенските врнежи. Неуморни, тие се растрчаа по нивите и собраниот род внимателно го сместуваа во подземните живеалишта.“

Како се прикажани мравките?

„- Е, ама е убав овој ден! – извика штурецот лежејќи врз еден камен.

- Не е убав, воопшто не е убав! – се јави црвот, мрзливо влечејќи се на земјата.

- Денеска денот за мене беше убав, затоа што работев и собрав храна повеќе од кога било. Сега можам да одморам. – рече мравката.“

Размислете за тоа кој бил во право?

2. Македонски јазик - Задолжителен предмет

Прашање

„ Детето: Догледање, ластовичке мила. Кога повторно ќе ги видам твоите леки крила?

Ластовичката: Тој д

ен

мене ми е запишан во срцето. Таму е скриена љубовта кон родниот крај. Таму е големата желба за враќање кон родното гнездо. Нема поубав крај од нашиот роден крај.“

Каде ластовичката ја крие љубовта кон родниот крај?

Кога го запрашале дедо Димо за неговото минато, тој веднаш почнал да:

Само што ја слушна приказната веднаш отиде да ја:

Која форма на изразување ја користиме кога зборуваме за изгледот и особините на нашето другарче?

Кога ја запрашаа Маре какво фустанче сака? Таа веднаш почна да:

Иле е член на новинарската секција. За секој настан кој се случува во училиштето тој треба да:

2. Македонски јазик - Задолжителен предмет

Прашање

Кога мајка ѝ на Кате ја праша како си помина на училиште, таа веднаш почна да:

На кој начин народните приказни и мудрости се пренесувале од генерација на генерација?

„Широката влезна врата на училиштето беше многу стара. Дрвениот рам околу неа беше се распакал. Нејзината некоаш бела боја, сега беше пожелтена.“

Во овој извадок е прикажан опис на:

„Почитувани,

На 24. 10. 2015 година во 17:00 часот е закажан состанок со членовите на извршниот одбор. Состанокот ќе се одржи во просториите на јавното транспортно претпријатие „Транс-бус“ - Скопје.
“

Горниот извадок претставува:

2. Македонски јазик - Задолжителен предмет

Прашање

„Ливадата беше рамна, широка, покриена со млада, сочна и мека трева. Овде-онде беше прошарана со лутиче, глугварче, вртипоп и по некоја синоличка. Околу цвеќињата леткаа пчели и пеперутки.“

Во овој извадок е даден опис на:

Во која од следните реченици е даден опис на лик?

Во која од следните реченици е даден опис на природата?

„Прочитајте го текстот во себе. Потоа писмено одговорете на прашањата – им рече

учителката на своите ученици.“

**К
оја форма на изразување треба да користат тие
?**

2. Македонски јазик - Задолжителен предмет

Прашање

„Учениците добиле задача да напишат состав за тоа како го поминале летниот распуст.“

Која форма на изразување треба да користат тие?

Учениците добиле задача да го опишат својот омилен јунак.

Кој вид на зборови најмногу ќе ги употребат при описот?

За облеката на глумците во една театарска претстава се грижи:

2. Македонски јазик - Задолжителен предмет

Прашање

Дејствието во еден филм или театарска претстава се одвива според:

Просторијата во училиштето каде што се чуваат и позајмуваат книги, списанија, весници и друг вид литература се вика:

Декорот на сцената во една театарска претстава се менува во зависност од:

Костимите на глумците во една театарска претстава треба да соодветствуваат со:

Уредувањето на просторот наменет за изведување на претстави се нарекува:

Каде луѓето можат да позајмуваат книги, списанија и друг вид литература?

Сцената во една театарска претстава или филм треба да биде во согласност со:

2. Македонски јазик - Задолжителен предмет

Прашање

Со што треба да биде усогласена музиката во еден филм или театарска претстава?

Климентина е вработена во институција каде се подготвуваат и изведуваат театарски претстави. Каде работи таа?

Даре постојано зборува за изгледот на неговиот нов велосипед. Тоа значи дека тој постојано го:

Во кој од следните примери именката е објаснета со присвојна придавка?

Според начинот на кој се изговараат, согласките може да бидат:

Која од следниве согласки е безвучна?

2. Македонски јазик - Задолжителен предмет

Прашање

„Јана во својот блок го нацрта станбениот блок во кој живее со своето семејство.“ Подвлечените зборови во реченицата имаат:

„За час ни мина часот по македонски јазик.“ Какво значење имаат подвлечените зборови во реченицата?

„Ситен старец, со долга бела брада, седеше на клупата.“ Од оваа реченица дознаваме за:

„Колку е убава царевата нова облека!“ Кој збор од реченицата претставува присвојна придавка?

„Кочо е голем љубител на книгата.“ Од реченицата дознаваме дека Кочо:

Кој од следните зборови ќе го употребиш за да искажеш присвојност?

2. Македонски јазик - Задолжителен предмет

Прашање

„Коле редовно оди на училиште.“ Кој збор во реченицата треба да биде поинаку запишан за таа да го промени глаголското време?

Која од следните реченици е употребена показна заменка?

„Во салата за ручек јадев салата од краставички.“ Какво значење имаат подвлечените зборови во реченицата?

Како треба да гласи глаголот купува во сегашно време, трето лице множина?

Кире добил задача да напише покана по повод патрониот празник на училиштето. Кои глаголски времиња ќе ги употреби Кире?

Кое глаголско време треба да го употребиш кога сакаш да кажеш како се чувствуваш во моментот кога те прашуваат?

2. Македонски јазик - Задолжителен предмет

Прашање

„На масата има вазна со црвени каранфили.“

Како треба да гласи реченицата искажана во минато време?

Која од следните реченици е сложена по својот состав?

Маре добила задача да го препише рецептот за палачинки употребувајќи скратеници. Во кој од следните записи таа правилно ги употребила скратениците?

„Мама месеше пита со спанаќ.“ Како треба да биде запишан глаголот во реченицата за таа да искажува сегашно време?

„Јана беше многу срамежлива.“ Со што може да го замениме првиот збор во реченицата за таа да не го промени своето значење?

„Во дворот на баба цветаат црвени трендафили.“

Како треба да биде напишана реченицата за да искажува присвојност?

2. Македонски јазик - Задолжителен предмет

Прашање

„Господинот Кире Ристевски е роден во село Србјани, учел во основното училиште „Доктор Владимир Полежиноски“ во Кичево, Република Македонија...“ Како треба да биде запишан извадокот од текстот со употреба на скратеници?

Што треба да има во една реченица за таа да биде сложена?

Опреди каква реченица може да формираме од следните зборови: небо, заврнa, силен, дожд, надвор, денес, од.

Јана треба да напише состав во кој ќе ги опише настаните што се случиле пред да се запише во новото училиште. Кое глаголско време ќе го користи таа?

2. Македонски јазик - Задолжителен предмет

Прашање

Кое глаголско време најмногу ќе биде корис

т

ено при пишувањето на писмен сос

т

ав на

т

ема: Ш

т

о би направил/а јас кога би бил/а пре

т

седа

т

ел на одделение

т

о?

„Во чинијата на масата имаше јаболка, круши и сливи.“

Како ќе гласи оваа реченица доколку употребиме збирна именка?

Предметите: маса, столче, клупа, кревет, фотелја, со еден збор треба да се напишат како:

2. Македонски јазик - Задолжителен предмет

Прашање

Спортскиот коментатор при известувањето за резултатите од трката на сто метри најчесто употребувал:

„Утре ќе имаме час по англиски јазик - рече Ратко. “

Како треба да биде напишана реченицата употребувајќи индиректен говор?

„Учителката им рече на учениците да донесат прибор за цртање.“

Како треба да биде напишана реченицата употребувајќи директен говор?

„Постојано играше покрај трошната куќарка.“ Тоа значи значи дека играл покрај:

Како треба да гласи именката кошула кога искажува нешто зголемено?

2. Македонски јазик - Задолжителен предмет

Прашање

„Нема фајде од седење, туку од работење.“ Со кој збор може да го замениме зборот фајде?

„Побара прошка за сторената грешка.“ Реченицата нема да го промени своето значење ако зборот прошка го замениме со:

Сања составила реченица употребувајќи ги следните зборови: отиде, Иван, за, вежба, да. Каква е таа реченица според составот?

Која согласка недостига во зборот преседател за тој да биде правилно напишан?

Во која од следните реченици зборот таа е употребен како показна замена?

Во која од следните реченици зборот тој е употребен како лична замена?

2. Македонски јазик - Задолжителен предмет

Прашање

„Јане на училиште пристигна со новиот велосипед.“

Придавката

**в
о реченицата искажан
а**

со

спротивно значење

гласи:

„Јован долго размислува... “ Кој од следните искази треба да го додадеме на реченицата за таа да биде сложена реченица?

Преку кој вид песни може да ја искажеме љубовта кон татковината?

Што треба да напишеме доколку сакаме писмено да ги изразиме нашите желби за среќен роденден до некое наше другарче?

2. Македонски јазик - Задолжителен предмет

Прашање

„Високо во мрежата се плеткаше еден млад галеб. Девојчето трепетно стрча, се пресегна и внимателно го отплетка. Нежно го зеде. Уплашен галебот го собра главчето. Трепереше. Едното крило му висеше.

**- О
, галепче мило – рече Тинка и го скри во пазувите.“**

Што покажала Тинка?

**За каков вид литература станува збор кога писател
от пишува кратки раскази, приказни и романи за деца
?**

**„Свирката на локомотивата писна продорно. Возот почна да ја
намалува брзината. – Ќе треба да се поделиме. Мојот пат е доовде, -
рече Гоце.“**

Каде се одвива разделбата?

2. Македонски јазик - Задолжителен предмет

Прашање

„Ана порано се разбуди. Не можеше да спие. Во кујната ја чекаше појадок. А мајка ѝ и татко ѝ веќе беа будни.

- Знаеш Ана ...- почна таткото. – Ти порасна, веќе стана убава девојка и добра флеистка.“

Во кој дел од денот започнува разговорот?

„Среќен е оној кој знае да чита. – му рече дедото на својот внук.“

Што сакал дедото да му каже на својот внук?

Со кое прашање може да ги откриеме ликовите во едно литературно дело?

Со кое прашање може да ја откриеме темата во едно литературно дело?

2. Македонски јазик - Задолжителен предмет

Прашање

**Ученици
те
добиле задача да напиша
т
хуморис
тична
песна.**

**Какви елемен
т
и
треба да има песната?**

Калина добила задача да напише една лирска песна.

Што треба да направи таа за да ја исполни задачата?

2. Македонски јазик - Задолжителен предмет

Прашање

**Опреди какви чувс
т
ва се крија
т во следните стихови:**

„Родино моја ти земјо мила,

најмила земја на овој свет.

Во тебе растам развивам крила,

ко крилест орел во вишен лет.“

2. Македонски јазик - Задолжителен предмет

Прашање

Опредили кое основно чувство се крие во

следни

т

е с

т

ихови:

„Убава си мила мајко Македонијо,

стада се белеат

грозјата вурејат Македонијо,

ти ни даваш се.“

Кире добил задача накратко да ги опише своите случки со другарите од населбата.

Каква литературна творба треба да напише Кире?

2. Македонски јазик - Задолжителен предмет

Прашање

Учителката им даде задача на своите ученици да напишат песна во која ќе ги изразат своите чувства кон татковината. Каква песна треба да напишат тие?

**Прочи
т
ај ги внима
т
елно следни
т
е сихови:**

„Гаснат полека последните шареникави бои

Што толку убаво и лично им стоеја на брезите бели.

Сивилото провиснало и како црна стреа над просторот стои,

а есента некаде далеку во бескрајот се сели.“

Кое годишно време навестуваат тие?

2. Македонски јазик - Задолжителен предмет

Прашање

На часот по македонски јазик на Розе ѝ било укажано да обрне внимание на интонацијата, потребните паузи и темпото.

Каква задача имала Розе?

Елена добила задача да напише песна во која ќе има рима. Кои од следните зборови ќе ги употреби таа?

Андреј бил одушевен од јуначките подвизи на борците за кои му раскажувал дедо му. Тоа одушевување тој го преточил во песна. Каква песна напишал Андреј?

Каква песна треба да напише Калина за да ја искаже својата љубов кон Живко?

2. Македонски јазик - Задолжителен предмет

Прашање

Прочитај го внимателно текстот:

„Кога една гладна лисица забележала грозје што виси на некоја висока лозница, посакала да го досегне, но не можела. Одалечувајќи се, си рекла самата на себе: - Уште е кисело.“

Што значат зборовите на лисицата?

„Преку ликовите на животните обидете се да ги претставите навиките и карактерните особини на членовите на вашето семејство“ – им рече учителката на своите ученици.

Што треба да направат тие?

Учениците добиле задача да одиграат улоги како културно треба да се одвива еден телефонски разговор. Која форма на изразување треба да употребат?

2. Македонски јазик - Задолжителен предмет

Прашање

„Збогум птици-преселници,

ај со здравје ај,

да стигнете среќно сите

во јужниот крај.“

Која од следните реченици најдобро ја опишува сликата која се создава додека ја читаме строфата?

„Мајка ми се одмараше по ручекот, сестрите си играа некаде на улицата, а јас морав да останам дома и да го приготвам вечерниот чај. Налеав вода во чајникот и штотуку се упатив кон кујната, кога ми се причини како да просени нешто низ нашата куќа.“

Во кое време од денот се одвива дејството во горниот извадок?

2. Македонски јазик - Задолжителен предмет

Прашање

„- Знаеш ли што сонував, Милко? – праша Илко.

- Не знам – се почеша Милко зад увото.

- Сонував дека сум најмоќното суштество на светот!

- Јас не би рекол така! - се насмевна Милко.“

Кој сонува дека е најмоќното суштество на светот?

Во чест на патрониот празник на училиштето, учениците од V

одделение секој ден вежбале една драмска игра. Каква јазична вежба изведувале тие?

„Станав рано, сонцето го бакнало врвот на планината. Првите сончеви зраци го милуваа небото. Истрчав надвор за да ги видам гулабите. Утрото беше студено, тие беа стуткани еден до друг.“

Во кое време од денот се одвива дејствието?

2. Македонски јазик - Задолжителен предмет

Прашање

„Методија ја побара шарената капа на Ѓоко, сакаше да ја проба. Столе предложи да играме со џамлии. Прифативме. По еден час рацете ни беа исцрнети од земја, а џебовите празни. Пенчо ни ги собра сите џамлии.“

Кои личности се спомнуваат во текстот?

„Соништата избегаа заедно со ноќта. Ги отворив очите. Низ прозорецот ми мавташе едно гранче од јаболкницата и се насмевнуваше на новиот ден. Станав. Мама купила топол леб. Го скршив крајшникот. Ги облеков кратките панталони и истрчав во дворот.“

За кое време од денот станува збор во извадокот?

„Крсте излезе на балкончето. Сиво врапче стоеше на оградата, се исплаши и летна. Крсте пребара во своите џебови, пронајде грст сончогледови зрна и веднаш ги стави покрај оградата.“ Како ја оценуваш постапката на Крсте?

2. Македонски јазик - Задолжителен предмет

Прашање

„Во четвртата клупа Благојче набрзина ја препишуваше домашната задача зададена за денес. Дали ќе стигне? – се прашуваше. Наставничката минуваше меѓу клупите, па застана: -Благојче, ти пак ја немаш напишано домашната задача! “

Која од следните реченици го опишува Благојче?

„Таа има прекрасна долина и бистри води богати со пастрмка. Течението се протега меѓу Шар Планина, Кораб и Бистра.“

Во овој извадок е даден опис на:

„Не зборува многу. Жолтото перче коса му паѓа врз очите, со прстите нестрпливо го зачешлува нагоре. Предниот горен заб му е поткршен. Рачињата слаби како трски.“

Што е прикажано во извадокот?

2. Македонски јазик - Задолжителен предмет

Прашање

„Гранките на дрвјата веќе беа соголени, ни лист на нив. Ветерничав и студен бран не заплискуваше. Врвот на северната планина побеле од снег.“

Што е прикажано во горниот извадок?

На Игор му купија велосипед. Сите љубопитно почнаа да го прашуваат каков е.

Што треба да направи Игор за да им каже како изгледа велосипедот?

На почетокот на учебната година учениците добиле задача да напишат состав на тема: Едно летно доживување. Кое изразно средство ќе го користат?

Учениците добиле задача да напишат по неколку реченици за изгледот и основните карактеристики на главните јунаци во расказот кој го прочитале. Што треба да прават учениците?

2. Македонски јазик - Задолжителен предмет

Прашање

Што дознаваме од насловот на расказот „Другарство“?

Кире постојано им кажуваше на своите другари за случките и настаните кои ги беше чул од својот дедо. Која форма на изразување користел Кире?

Бојка има роднини во странство. Таа се допишува со нив и разменува мислења за секојдневните случки и настани. За таа цел Бојка честопати оди во пошта за да испрати:

Маја доби задача писмено да информира за ликовната изложба на која со свои трудови ќе учествуваат членовите од ликовната секција „Виножито“. Која форма на пишување ќе ја употреби таа?

„Бев многу среќен. Срцето забрзано почна да ми чука, ме обзеде необична топлина, голема возбуда и радост во градите ми навираше.“

Што опишуваат зборовите во горниот извадок?

2. Македонски јазик - Задолжителен предмет

Прашање

На паното во училиштето беше истакнато: Членовите на литературниот клуб „Кокиче“ заедно со учениците од ОУ „Коста Рацин“ денеска со пригодна прослава и литературно читање го одбележаа месецот на книгата.

Што претставува истакнатото на училишното пано?

Учениците добиле задача да играат игра во која еден започнува со кажување на воведот, а другите ја продолжуваат играта со надополнување на тоа што го кажал нивниот другар.

Која форма на усно изразување користат?

Наде има милениче. Таа секој ден си ига со него. Еден ден доби задача да пишува за неговиот изглед и однесувањето.

Која форма на изразување ќе користи таа за точно да одговори на задачата?

2. Македонски јазик - Задолжителен предмет

Прашање

„ Дворот беше мал обраснат со високи растенија. На средината се простираше поплочена патека. Десно од неа имаше мала дрвена куќичка од која сиркаше црно кутренце.“

Што ни прикажува авторот во овој извадок?

„Пред повеќе месеци го најдов на полјанката. Беше мало. Го зедев, му послав чергиче под скалите, а тоа веднаш заспа. Оттогаш сме неразделни другари. Јас јадам леб намачкан со маст – и Буби добива залак. Ќе се најде и некоја изглодена коска за него. Додека сум на училиште тој верно ја чува куќата и чека да се вратам“.

Што е Буби?

За учество во секоја нова театарска претстава Ема облекува различен костум. Таа е:

2. Македонски јазик - Задолжителен предмет

Прашање

Учениците добиле задача да ја нацртаат облеката на главниот јунак во филмот.

Што, всушност, треба да нацртаат?

Учениците добиле задача да ја нацртаат сцената од претставата.

На што треба да внимаваат тие додека ја гледаат претставата?

Со кое прашање може да дознаеме за изгледот на сцената во една театарска претстава?

Учениците добиле задача да го опишат просторот каде се одвивала претстава.

Што, всушност, треба да опишат?

2. Македонски јазик - Задолжителен предмет

Прашање

Од што зависи промената на сцената во една театарска претстава?

Јана и Јована добија задача да ги нацртаат костимите кои треба да се шијат за новата театарска претстава во училиштето.

На што треба да внимаваат?

Што претставува декор во една театарска претстава?

За да напишеме збор со кој ќе искажеме нешто зголемено треба да ја користиме наставката:

„Облаци го преплавија небото.“ Со кој збор треба да ја дополниме реченицата за таа да искажува присвојност?

2. Македонски јазик - Задолжителен предмет

Прашање

**„Таа
имаше двете
т
години и сакаше да го запознае све
т
о
т.“**

**Како треба да гласи реченица
т
а
искажана во сегашно време?**

„ - Кој си ти? – праша Јована.

Момчето се вцрви и збунето го наведна погледот.

- Ако имаш име, кажи го! – извика таа.“

На кој начин Јована му се обратила на момчето?

2. Македонски јазик - Задолжителен предмет

Прашање

Прочи

т

ај ги внима

т

елно следни

т

е стихови:

„

Петел свадба

правел

,

**чудо за чудење, чудо де големо! Врапци - побратими, патки
потковани, петли потседлани, гуски зауздани. Чудо за чудење, да
големо чудо!**

“

Какви елементи среќаваме во стиховите?

Прочитај го внимателно извадокот:

**„Деновите брзо минуваа. Така осамна и саботното утро, а сабота
беше пазарен ден, ден кој Петре го очекуваше со нетрпение и голема
надеж.“**

Чиј говор е претставен во извадокот?

2. Македонски јазик - Задолжителен предмет

Прашање

Ангел би сакал кога ќе порасне да пишува стихови, да составува строфи, да создава песни и да издава стихозбирки. Што сака да биде тој?

Прочи

т

ај ги следните стихови:

„Во животот секој од сè како прво,

треба да засади барем едно дрво!“

Каква порака се крие во нив?

Местото е многу тивко. Во него се сместени голем број книги наредени според иста или слична тематика. Учениците често навраќаат тука и позајмуваат книги.

За кое место станува збор?

3. Математика - Задолжителен предмет

Прашање

Подреди ги дробките од најмала до најголема: $\frac{7}{3}, \frac{9}{5}, \frac{15}{6}, \frac{9}{2}$

Бројот педесет илјади и петстотини се запишува како:

Бројот тринаесет илјади четиристотини деведесет и седум се запишува како:

Бројот четириесет и шест илјади деветстотини и шеесет се запишува како:

Бројот шеесет илјади четиристотини осумдесет и осум се запишува како:

Бројот сто единаесет илјади седумстотини педесет и шест се запишува како:

Бројот петстотини четириест и три илјади двесте и единаесет се запишува како:

Бројот 56 206 се чита како:

Бројот 11 006 се чита како:

Бројот 230 760 се чита како:

Бројот 846 000 се чита како:

Бројот 171 171 се чита како:

3. Математика - Задолжителен предмет

Прашање

Бројот 999 999 се чита како:

Кој број е за еден поголем од бројот 7 835?

Кој број е за десет поголем од бројот 6 327?

Кој број е за сто помал од бројот 129 642?

Кој број е за илјада помал од 876 055?

Кој број е за 10 000 поголем од 214 530?

Кој број е за 100 000 поголем од 465 430?

Заокружи го бројот 5 334 на најблиската десетка.

Заокружи го бројот 6 672 на најблиската десетка.

Бројот 1 375 заокружи го на најблиската стотка.

Бројот 2 402 заокружи го на најблиската стотка.

Бројот 7 125 заокружи го на најблиската илјада.

Бројот 5 752 заокружи го на најблиската илјада.

3. Математика - Задолжителен предмет

Прашање

Месната вредност на цифрата 2 во бројот 523 034 е:

Месната вредност на цифрата 5 во бројот 205 423 е:

Месната вредност на цифрата 8 во бројот 873 456 е:

За да се пресмета точноста на изразот $1\,394 + 172 = 1\,566$ се користи инверзната операција:

За да се пресмета точноста на изразот $2\,789 - 1\,840 = 949$ се користи инверзната операција:

За да се пресмета точноста на изразот $136 \cdot 5 = 680$ се користи инверзната операција:

За да се пресмета точноста на изразот $484 : 4 = 121$ се користи инверзната операција:

За да се пресмета $8 + 6 \cdot 7 - 5$ прво се пресметува:

Запиши го бројот 8 единици и 3 десетинки како децимален број.

Запиши го бројот $\frac{6}{10}$ како децимален број.

3. Математика - Задолжителен предмет

Прашање

Запиши го бројот $\frac{8}{100}$ како децимален број.

Збирот на броевите 3 254 и 1 204 е бројот:

Збирот на броевите 3 753 и 3 338 е бројот:

Разликата на броевите 7 564 и 2 232 е бројот:

Разликата на броевите 64 354 и 31 527 е бројот:

Одреди каде се запишани првите 10 содржатели на 4.

Како се добива број на квадрат?

Определи колку е 5 на квадрат.

Што е делител на некој број?

Определи кој пар броеви се делители на бројот 84.

Во која низа на броеви се наоѓаат содржателите на 25 што се помеѓу 600 и 700?

Каков број ќе добиеш ако помножиш непарен со непарен број?

3. Математика - Задолжителен предмет

Прашање

Опреди го производот $143 \cdot 10$

Опреди го производот $2036 \cdot 10$.

Опреди го производот $651 \cdot 100$.

Опреди го производот $4020 \cdot 100$.

Опреди го количникот $560 : 10$.

Опреди го количникот $7560 : 10$.

Опреди го количникот $4000 : 10$.

Опреди го количникот $5\ 000 : 100$.

Колку изнесува една стотина од 7 800?

Пополни го празното квадратче за да биде точно: $160 \cdot \frac{1}{2} = \square$

Пополни го празното квадратче за да биде точно: $\square \cdot 2 = 3600$.

Опреди го збирот на броевите $1,14 + 2,15$.

Опреди го збирот на броевите $2,19 + 3,1$.

Опреди го збирот на броевите $5,57 + 6,13$.

3. Математика - Задолжителен предмет

Прашање

Опреди го збирот на броевите $3,13 + 4,15$.

Опреди ја разликата на броевите $8,16 - 1,17$.

Опреди ја разликата на броевите $5,25 - 3,30$.

Опреди ја разликата на броевите $4,45 - 3,45$.

Опреди ја разликата на броевите $7,89 - 2,63$.

Опреди го производот на броевите $2,4 \cdot 6$.

Опреди го производот на броевите $3,3 \cdot 6$.

Опреди го производот на броевите $5,1 \cdot 3$.

Опреди го производот на броевите $2,3 \cdot 3$.

Опреди го квадратот на бројот 2.

Опреди го квадратот на бројот 4.

Опреди го квадратот на бројот 7.

Опреди го збирот на броевите $12 + 34 + 47$.

3. Математика - Задолжителен предмет

Прашање

Определи го збирот на броевите $123 + 321 + 456$.

Определи го збирот на броевите $250 + 130 + 250 + 120$.

Во кој од броевите: 1 694, 1 981, 1 349, 9 146, цифрата девет има најмала месна вредност?

Определи ги непарните броеви помеѓу броевите 224 и 234.

Определи го точното броење со чекор напред со големина 4, почнувајќи од -11.

Определи го точното броење со чекор напред со големина 6, почнувајќи од -1.

Определи го точното броење со чекор назад со големина 3, почнувајќи од 5.

Определи го точното броење со чекор назад со големина 2, почнувајќи од 4.

Во низата: 11, 23, □, 47, 59, чекорот е:

Во низата: 124, 113, □, □, 80, 69, чекорот е:

3. Математика - Задолжителен предмет

Прашање

Во низата: 11, 5, \square , -7, \square , -19, чекорот е:

Во низата: -24, \square , -4, \square , 16, 26, чекорот е:

Во која низа броевите се подредени по големина, почнувајќи од најмалиот: 742, 624, 352, 264, 724, 358, 246?

Класата единици ја сочинуваат следниве разреди:

Која цифра во бројот 34 735 е во ист разред со цифрата 7 во бројот 27 946?

Вредноста на цифрата 5 во бројот 53 460 е:

Во бројот 46 378 на позицијата десетки илјади е цифрата:

Во низата 45 810, 46 810, 47 810, ... секој следен број е поголем од претходниот за:

Во низата 589 998, 589 999, 590 000, ... секој следен број е поголем од претходниот за:

Броевите 42 689, 35 489, 42 690 и 35 892 подредени по големина почнувајќи од најмалиот се:

Броевите 39245, 45236, 39845 и 19839 подредени по големина почнувајќи од најмалиот се:

3. Математика - Задолжителен предмет

Прашање

Во низата 52 625, 52 575, 52 525, 52 475,..., секој број е помал од претходниот за:

Цифрата 5 во бројот 53 187 е запишана во ист разред како и цифрата 3 во бројот:

Поголем број за 1 000 од бројот 47 253 е бројот:

Поголем број за 10 000 од бројот 31 784 е бројот:

Помал број за 10 000 од бројот 87 256 е бројот:

Ако $a+b=28\,400$ тогаш вредноста на изразот $(a+1000)+b$ е еднаква на:

Ако $a+b=78\,000$ тогаш вредноста на изразот $a+(b-10\,000)$ е:

Ако $a-b=86\,000$ тогаш вредноста на изразот $(a-6\,000)-b$ е еднаква на:

Ако $a-b=87\,000$ тогаш вредноста на изразот $a-(b+7\,000)$ е еднаква на:

Ако $a-b=46\,540$ тогаш вредноста на изразот $(a+2\,000)-b$ е еднаква на:

Ако $a-b=36\,780$ тогаш вредноста на изразот $a-(b-1\,000)$ е еднаква на :

Вредноста на цифрата 4 во бројот 43 058 е:

3. Математика - Задолжителен предмет

Прашање

Во бројот 21 354 на местото единици илјади е цифрата:

Во низата 32 250, 32 150, 32 050, . . . секој следен број е помал од претходниот за:

Која цифра во бројот 58 320 е во ист разред со цифрата 5 во бројот 45 628?

Во низата 68 320, 78 320, 88 320, ... секој следен број е поголем од претходниот за:

Броевите 85 328, 87 555, 85 228 и 87 556 подредени по големина почнувајќи од најмалиот се:

Од бројот 89 453 поголем за 1 000 е бројот:

Ако $a+b=76\,000$ тогаш вредноста на изразот $a+(b-6\,000)$ е :

Ако $a-b=59240$ тогаш вредноста на изразот $(a+1000)-b$ е еднаков на:

Кои разреди ја сочинуваат класата илјади?

Која цифра во бројот 46 745 е во ист разред со цифрата 4 во бројот 54 987?

3. Математика - Задолжителен предмет

Прашање

Секој следен број од низата на броеви: 50 905, 50 805, 50 705, . . . е помал од претходниот за:

Цифрата 6 во бројот 56 487 е запишана во ист разред како и цифрата 8 во бројот:

Поголем број за 10 000 од бројот 56 780 е бројот:

Одредување на непознат собирок се врши со примена на операцијата:

Во равенката $48\,000 - \square = 15\,000$ вредноста на непознатиот намалител е:

Одредување на непознат намаленик се врши со примена на операцијата:

Цифрата 2 во бројот 35 261 е запишана во ист разред како и цифрата 4 во бројот:

Поголем број за 1 000 од бројот 32 450 е бројот:

Во една вреќа има 25 килограми грав. Колку килограми грав има во 30 такви вреќи?

Во една градина имало 50 реда овошни дрвја. Во секој ред имало 30 овошни дрвја. Колку овошни дрвја имало во градината?

На една табличка има наредено 30 јајца. Колку јајца има на 40 таблички?

3. Математика - Задолжителен предмет

Прашање

Пронајди го бројот што недостасува во изразот: $160 \cdot \frac{1}{2} = \square$

Пронајди го бројот што недостасува во изразот: $\square \cdot \frac{1}{2} = 435$

Пронајди го бројот што недостасува во изразот: $600 \square \square = 300$

Пронајди го бројот што недостасува во изразот: $\square \cdot 2 = 3\ 600$

Удвоен бројот 1 700 изнесува:

Удвоен бројот 99 изнесува:

Преполови го бројот 7 200.

Преполови го бројот 540.

Удвој го бројот 45,3.

Преполови го бројот 68,4.

Помножи го бројот 7,2 \square 5.

Подреди ги броевите во групата од најмал до најголем: 708 008, 700 800, 780 008, 700 080.

3. Математика - Задолжителен предмет

Прашање

Подреди ги броевите во групата од најголем до најмал: 378 876, 378 878, 378 867, 378 887.

Бројот 6 000 е заокружен на најблиската илјада. Колку најмалку или најмногу би можел да биде овој број пред да биде заокружен?

Бројот 8 740 е заокружен на најблиската десетка. Колку најмалку или најмногу би можел да биде овој број пред да биде заокружен?

Опреди ја инверзната операција на изразот: $806 : 2 = 403$

Опреди ја инверзната операција на изразот: $2\,950 + 1\,678 = 4\,628$

Опреди го точниот резултат на изразот: $35 + 8 : 2 - 2 \cdot 3$.

Опреди го точниот резултат на изразот: $8 + 3 \cdot 20 : 2 : 10$.

Во изразот дополни ги знаците за операции (+, -, ·, □) за да биде точно: $23 \square 12 \square 6 = 21$.

Во изразот дополни ги знаците за операции (+, -, ·, □) за да биде точно: $24 \square 12 \square 2 = 1$.

Во изразот дополни ги знаците за операции (+, -, ·, □) за да биде точно: $8 \square 7 \square 5 = 43$.

3. Математика - Задолжителен предмет

Прашање

Во изразот дополни ги знаците за операции (+, -, ·, □) за да биде точно: $36 \square 12 \square 3 = 1$.

Кој број ќе се добие ако од бројот 3000 се одземе разликата на броевите 3784 и 2436?

Ако разликата на броевите 5417 и 2587 се зголеми за некој број се добива бројот 3000. Кој е тој број?

Пресметај ја разликата на најголемиот и најмалиот четирицифрен број запишани со помош на цифрите 2, 3, 7 и 0.

Збирот на три броја е 7845. Првиот собирок е 2568, а вториот е за 1556 помал од првиот. Третиот собирок е:

За колку е поголем збирот на броевите 6318 и 2542 од нивната разлика?

Дропката пет седумнаесетини се запишува како:

Дропката $\frac{4}{15}$ се чита:

Дропката $\frac{3}{14}$ се чита:

Производот на броевите 356 и 20 е:

Производот на броевите 468 и 30 е:

3. Математика - Задолжителен предмет

Прашање

Дропката три тринаесетини се запишува како:

Дропката $\frac{2}{5}$ се чита:

од бројот 24 е бројот: $\frac{1}{4}$

од бројот 24 е бројот: $\frac{5}{8}$

Дадени се дропките $\frac{13}{19}$, $\frac{7}{19}$, $\frac{16}{19}$ и $\frac{6}{19}$. Подредени по големина, почнувајќи од најмалата дрoпка се:

Ако збирот на броевите 835 и 628 се помножи со нивната разлика се добива бројот:

Еден од множителите во еден производ е за 42 поголем од бројот 118, а другиот множител е $\frac{1}{4}$ од најмалиот трицифрен број. Производот изнесува:

Со кој број треба да се помножи бројот 245, за да се добие производ еднаков на производот на броевите 210 и 266?

Вредноста на бројниот израз $7\ 823 - (4\ 826 : 38 + 6\ 738)$ изнесува:

Вредноста на бројниот израз $393 + 39 \cdot 100 + 482 \cdot 7$ изнесува:

Удвој ја разликата на броевите 5867 и 3342.

3. Математика - Задолжителен предмет

Прашање

од бројот 36 е бројот: $\frac{7}{9}$

Дадени се дробките $\frac{2}{17}, \frac{15}{17}, \frac{10}{17}$ и $\frac{13}{17}$. Подредени по големина, почнувајќи од најголемата дробка се:

Со кој броен израз се пресметува производот на следбеникот и претходникот на бројот 58?

Со кој броен израз се пресметува количникот на најмалиот четирицифрен и најмалиот трицифрен број?

Производот на три множители е 7 500. Првиот множител е 25, а вториот множител е за 25 поголем од првиот множител. Колку е третиот множител?

За 10 пати поголем од бројот 254 е бројот:

За 10 пати поголем од бројот 413 е бројот:

За 10 пати поголем од бројот 410 е бројот:

За 10 пати поголем од бројот 580 е бројот:

За 10 пати помал од бројот 5 400 е бројот:

3. Математика - Задолжителен предмет

Прашање

На еден рок концерт имало 4 400 луѓе во публиката. Ако бројот 4 400 е добиен со заокружување на најблиската стотка, кој е најголемиот и најмалиот можен број на луѓе кои биле на концертот?

На еден рок концерт имало 4 470 луѓе во публиката. Ако бројот 4 470 е добиен со заокружување на најблиската десетка, кој е најголемиот и најмалиот можен број на луѓе кои биле на концертот?

Во една фабрика за училиштен прибор за една недела се произведени 2 678 моливи, 1 545 гуми и 4 375 боици. Колку вкупно училиштен прибор е произведен во фабриката таа недела?

3. Математика - Задолжителен предмет

Прашање

Определи со кој броен израз може да се реши задачата: Колку вкупно шеќер е продадено во еден супермаркет, ако првиот ден се продадени 5 478 шеќер, а вториот ден 3 749 помалку од првиот.

Во еден супермаркет првиот ден се продадени 4 678 кутии сладолед, а вториот ден 2 467 кутии помалку од првиот. Колку кутии сладолед се продадени во двата дена заедно?

Коле замислил некој број. Од тој број ја одземал разликата на најголемиот и најмалиот четирицифрен број и го добил бројот 134. Коле го замислил бројот:

3. Математика - Задолжителен предмет

Прашање

Еден град имал 5894 жители. Во месец мај градот го напуштиле 1548, а во јуни се доселиле 635 жители. Колку жители има градот на почетокот на месец јули?

Во информативната канцеларија на автобуската станица во текот на една недела се направени 2 365 телефонски повици, а во следната биле направени 2 137. Колку вкупно телефонски повици биле направени?

Во една печатница треба да се отпечатат 2 335 примероци на нема карта на Република Македонија и уште 849 примероци од географска карта на Република Македонија. Колку вкупно листови хартија ќе се потрошат?

Коле има збирка од 689 поштенски марки. Ангел има збирка од 1 586 марки. Колку повеќе марки има Ангел од Коле?

Петар го менува маслото на неговиот автомобил на секои четири месеци, а, пак, филтерот за воздух го менува на секои шест месеци. Колку често Петар ги извршува овие две работи истовремено?

3. Математика - Задолжителен предмет

Прашање

Илир замислил некој број. Ако на разликата на најголемиот и најмалиот четирицифрен број го одземеме бројот што го замислил Илир се добива бројот 215. Кој број го замислил Илир?

На роденденот на Јана девојчињата биле почестени со $\frac{8}{17}$ од тортата. Потоа дошле момчињата и биле почестени со $\frac{6}{17}$ од тортата. Колку седумнаесетини останале од тортата?

Во едно училиште во првата смена учат 126 ученици, а во втората смена 125 ученици. $\frac{5}{9}$ од учениците во првата смена и $\frac{3}{5}$ од учениците од втората смена се девојчиња. Колку вкупно девојчиња учат во тоа училиште?

Во пет кутии имало вкупно 8 750 боици. Претпладне се продадени 10 пати помалку боици од вкупниот број, а попладне уште 3 450 боици. Колку боици останале непродадени се запишува со бројниот израз:

За изградба на едно училиште се донесени 5 620 тули. Тулите се пренесени со 20 камиони. По колку тули пренесувал секој камион?

Во овошната градина на една училишна задруга овошките биле посадени во 25 реда, така што во секој ред имало по 18 кајсии, 24 праски и 38 јаболкници. Колку вкупно овошки имало во овошната градина?

3. Математика - Задолжителен предмет

Прашање

Петар, Марко и Трајче заедно ловеле риби. Од вкупниот број уловени риби Петар уловил половина, Марко 7 риби и Трајче 5 риби. Колку вкупно риби уловиле тројцата?

Една фабрика за чевли произвела 2 240 пара машки чевли и четири пати повеќе женски. Колку вкупно пара женски чевли произвела фабриката?

Во еден град за денот на дрвото е планирано да се засадат 5 000 садници. Учениците од основните училишта од тој град засадиле $\frac{2}{5}$ од планираното. Колку садници засадиле учениците од основните училишта?

Агим имал 8 фломастери и $\frac{1}{4}$ од нив ги подарил на Јасна. Колку фломастери му останале на Агим?

Јован, Ибрахим, Фатма и Ана за појадок купиле цела пита бурек. Колку останало од бурекот неизедено, ако Јован изел $\frac{2}{8}$, Ибрахим $\frac{3}{8}$, а Фатма и Ана изеле по $\frac{1}{8}$?

Во една продавница имало 13 мрежи со топки, а во секоја мрежа по 8 црвени и 6 сини топки. Колку вкупно топки имало во продавницата?

Земјоделец продавал свои производи и заработил 2 845 денари од жито, од компир 1 695, а од овошје 2 пати повеќе од вкупно добиените пари за продаденото жито и продадениот компир. Колку денари заработил земјоделецот од продаденото овошје?

3. Математика - Задолжителен предмет

Прашање

Фабрика за бонбони и чоколади испратила во една населба 353 пакетчиња бонбони, во друга 2 пати повеќе отколку во првата, а во третата за 100 повеќе отколку во првата. Колку вкупно пакетчиња бонбони испратила фабриката во трите населби?

Васко бројот 348 требало да го зголеми 20 пати. Наместо тоа, тој го зголемил бројот 348 за 25. За колку бројот што го добил Васко е помал од бараниот број?

Треба да се спакуваат бонбони во кутии од по 26 во секоја кутија. Има 910 бонбони во жолта боја и 806 бонбони во црвена боја. Во кутиите треба да има само жолти или само црвени бонбони. Колку кутии се потребни за да се спакуваат сите бонбони?

Во две кутии имало вкупно 5 570 моливи. Претпладне се продадени 10 пати помалку моливи од вкупниот број, а попладне уште 2 110 моливи. Колку моливи останале непродадени, се запишува со бројниот израз:

Марија вели: „Решив 60 задачи“. Никола вели: „ $\frac{1}{2}$ од твоите задачи се $\frac{1}{3}$ од моите задачи“. Колку задачи решил Никола?

Автобуски билет за возрасни чини 400 денари, а за деца е два пати поевтин. Колку денари треба да плати таткото за да се вози со своите две деца?

Производот на три множители е 5 760. Првиот множител е 45, а вториот е за 13 помал од првиот. Колку е третиот множител?

3. Математика - Задолжителен предмет

Прашање

Еден од множителите во еден производ е за 42 поголем од бројот 118, а другиот е $\frac{1}{4}$ од најмалиот трицифрен број. Колку изнесува производот?

Во бројниот израз $\square \cdot 60 = 1920$ вредноста на непознатиот множител е:

Во бројниот израз $34 \cdot \square = 1360$ вредноста на непознатиот множител е:

Во бројниот израз $48 \cdot \square = 6000$ вредноста на непознатиот множител е:

Во бројниот израз $30 \cdot \square = 7500$ вредноста на непознатиот множител е:

Во бројниот израз $3700 \square \square = 185$ вредноста на непознатиот делител е:

Во бројниот израз $5750 \square \square = 230$ вредноста на непознатиот делител е:

Во бројниот израз $\square \square 45 = 25$ вредноста на непознатиот деленик е:

Во равенката $x : 31 = 151$ вредноста на непознатиот деленик е:

3. Математика - Задолжителен предмет

Прашање

Бројот 840 е производ на броевите:

Бројот 9 000 е производ на броевите:

Бројот 8 840 е производ на броевите:

Бројот 6 950 е производ на броевите:

За 10 пати помал од бројот 3 570 е бројот:

Во броен израз непознатиот делител се решава со:

При проверка на множењето се користи:

Во броен израз непознатиот деленик се решава со:

Во бројниот израз $(1260:20+368)\cdot 23+56$ прво ќе се изврши операцијата:

3. Математика - Задолжителен предмет

Прашање

Бројот 2 484 зголемен за количникот на броевите 7 168 и 128 се запишува со бројниот израз:

Во бројниот израз $(4238-1038 \cdot 2) : 32 + 7256$ најпрво ќе се изврши операцијата:

При делење на кои од долунаведените броеви се добива остаток 16?

Количникот на броевите 6 754 и 21 зголемен за 65 се запишува со бројниот израз:

Бројот 5 483 намален за производот на броевите 547 и 251 се запишува со бројниот израз:

Во бројниот израз $658 \cdot (3\ 512 \square 21452)$ најпрво ќе се изврши операцијата:

Во бројниот израз $(4532 - 2546) : 32 + 41$ најпрво ќе се изврши операцијата:

Бројот 397 е количник на броевите:

3. Математика - Задолжителен предмет

Прашање

За правење салата употребени се 9,53 килограми зелка и 6,17 килограми моркови. Колку вкупно килограми зеленчук е искористен за салата?

За месење колачи во една пекарница, употребени се 12,26 килограми бело брашно и 34,24 килограми црно брашно. Колку вкупно килограми брашно се искористени за колачите?

За правење лимонада искористени се 4,43 литри лимони и 8,57 литри вода. Колку вкупно литри течност се искористени за лимонадата?

Во една месарница, во понеделникот се продадени 93,37 килограми месо, а во вторникот продадени се 104,43 килограми месо. Колку вкупно килограми месо се продадени во двата дена?

Во една млекарница, во четвртокот имало 234,55 литри млеко. Во истиот ден се продадени 124,3 литри млеко. Колку литри млеко останале?

Еден продавач на тезга имал 36,47 килограми спанаќ, за 3 часа продавање му останале 12,23 килограми. Колку килограми спанаќ продал продавачот?

3. Математика - Задолжителен предмет

Прашање

Ако во една торба се ставени јаболка и круши заедно и тежат 19,45 килограми, ако се знае дека крушите тежат 6,75 килограми, тогаш колку килограми јаболка има во торбата?

Ако во една вреќа со шеќер имало 23,78 килограми шеќер, а за потребите на слаткарот Марко биле потрошени 17,38 килограми шеќер, колку килограми шеќер останале во торбата?

Ако во една градина има 4 црешови дрва, а секое дрво дава по 134,25 килограми цреша, колку вкупно цреша ќе се наберат од градината?

Едно училиште нарачало 12 пакети со по 33,28 килограми глина за моделирање. Колку вкупно килограми глина нарачало училиштето?

Ако училиштето во кое учи Дарко е оддалечено од неговиот дом за 226,73 метри. Колку метри поминува Дарко до училиште и назад дневно?

За еден рецепт за торта треба да се употребат шест чаши кокос. Колку кокос ќе се употреби ако секоја чаша собира по 16,05 грами кокос?

Колку изнесува периметарот на една нива во форма на квадрат ако должината на една страна е 38,27 метри?

3. Математика - Задолжителен предмет

Прашање

Колку е $\frac{1}{2}$ од 66?

Колку е $\frac{3}{4}$ од 80?

Колку е $\frac{2}{3}$ од 75?

Колку е $\frac{7}{8}$ од 56?

Во четири кутии се сместени 4 832 пакувања со мастици. Ако во секоја кутија има ист број мастици, по колку мастици има во една кутија?

Стефан плаќа месечна претплата од 699 денари за телефон. Колку пари годишно троши Стефан за телефон?

Ако Лана има 419 денари, а Лина има 5 пати повеќе, колку пари има Лина?

Баже има 100 дискови со музика во својата колекција од кои 36 се со рок музика. Колкав процент од дисковите се со рок музика?

Стојанче има 100 автомобилчиња во својата колекција од кои 72 се зелени по боја. Колкав процент зелени автомобилчиња има Стојанче во својата колекција?

3. Математика - Задолжителен предмет

Прашање

Која од следните геометриски форми има теме?

Триаголник чишто сите агли се помали од прав агол се вика:

Триаголник кој има еден прав агол се вика:

Триаголник кој има еден агол поголем од прав агол се вика:

Триаголник на кој сите страни му се еднакви по должина се вика:

Триаголникот на кој сите страни му се различни по должина се вика:

Триаголникот на кој две страни му се еднакви по должина се вика:

Кој агол го формираат две нормални прави?

3. Математика - Задолжителен предмет

Прашање

Како се нарекуваат точките во кои се среќаваат два или повеќе раба на 3Д форма?

Рабести геометриски тела се:

Седумаголникот има:

Постои пирамида што е определена само со:

Десетаголникот има:

Ако се соберат должините на страните на многуаголник се добива:

Кај многуаголникот бројот на страните со бројот на агли и темиња е:

Кое од долунаведените тела нема рабови и темиња?

Кое од долунаведените тела е ограничено со една рамна и една крива површина?

Дадени се три паралелни прави a, b, c . Ако се нацрта права p што ќе биде нормална на правата a тогаш какви се меѓу себе правите b, p и правите c, p ?

3. Математика - Задолжителен предмет

Прашање

Рамните површини на цилиндарот претставуваат:

Ако правите aub се паралелни и правата c е нормална на правата a , тогаш правите buc :

Должините на страните се еднакви кај:

Од што е составена мрежата на квадар?

Ако еден агол кај триаголник е прав, тогаш велиме дека триаголникот е:

Ако во триаголникот ABC нема страни кои се еднакви меѓу себе, за тој триаголник велиме дека е:

Каков агол ќе зафаќаат стрелките на часовникот во 15 часот и 40 минути?

Каков агол ќе зафаќаат стрелките на часовникот во 9 часот?

Според календарот, пресметај колку години и месеци има од мај 2011 до март 2014.

3. Математика - Задолжителен предмет

Прашање

Според календарот, пресметај колку години и месеци има од јануари 2000 до јуни 2004.

Која единица мерка за маса ќе се употреби за мерење на една вреќа ориз?

Должината 10 центиметри и 4 милиметри изрази ја во центиметри.

Растојанието 26,7 метри изрази го во центиметри.

Масата 5298 грама изрази ја во килограми.

Масата 5 килограми изрази ја во грамови.

Масата 1 килограм и 254 грама изрази ја во грамови.

Масата 13,8 килограми изрази ја во грамови.

Мерката 5 литри изрази ја во милилитри.

Мерката 13,5 литри изрази ја во милилитри.

Мерката 1 580 милилитри изрази ја во литри и милилитри.

Страната на рамностран триаголник е 8 cm. Периметарот на тој триаголник изнесува:

3. Математика - Задолжителен предмет

Прашање

Рамнокрак триаголник со крак 12 cm и основа 8 cm има периметар:

Рамнокрак триаголник со крак 11cm и основа 9 cm има периметар:

Правоаголник со должина 9 cm и ширина 5 cm има периметар:

Правоаголник со должина 8 cm и ширина 4 cm има периметар:

Периметарот на правоаголникот со димензии 12 cm и 8 cm изнесува:

Периметарот на правоаголник со димензии 14 cm и 7 cm изнесува:

Периметарот на квадрат со страна 24 cm изнесува:

Периметарот на квадрат со страна 22 cm изнесува:

Колку изнесува страната на квадратот ако неговата плоштина е 64 cm^2 ?

Колку изнесува страната на квадрат ако неговата плоштина е 49 cm^2 ?

Периметарот на правоаголник со страни 23 cm и 14 cm изнесува:

Периметарот на правоаголник со страни 27 cm и 13 cm изнесува:

Ако обиколката на рамностраниот триаголник е 66 cm, едната страна е долга:

3. Математика - Задолжителен предмет

Прашање

Ако периметарот на еден рамностран триаголник е 120 cm, тогаш должината на една негова страна е:

Квадрат со страна 1 центиметар има плоштина:

Единица мерка за плоштина е:

Квадрат со страна 1 cm има периметар:

Страната на квадрат со плоштина $P = 49cm^2$ изнесува:

Страната на квадрат со плоштина $P = 64cm^2$ изнесува:

Ако страната на квадратот е 15 cm тогаш неговата плоштина изнесува:

Ако страната на квадратот е 22 cm тогаш неговата плоштина изнесува:

Подреди ги следниве должини по големина почнувајќи од најмалата до најголемата: 1 cm 1 mm, 1 m 28 cm, 26 m, 4 cm 5 mm, 3 m 28 cm, 4 mm.

3. Математика - Задолжителен предмет

Прашање

Колку центиметри има еден метар?

Колку метри има еден километар?

Подреди ги овие маси од најголемата до најмалата: 4 t, 350 g, 4 379 g, 4,5k g, 1 kg.

Подреди ги овие маси од најмалата до најголемата: 1 398 g, 5 200 kg, 20 g, 980 g, 0,5 t.

Колку килограми содржи еден тон?

Подреди ги следниве волумени од најмал до најголем: 2 l, 3,5 l, 4 500 ml, 7 000 ml, 2 l 250 ml.

Ширината на еден правоаголник е 10 m, а должината 15 m. За колку е помала плоштината на квадратот што има страна колку што е ширината на правоаголникот?

Нива во форма на квадрат е заградена со 4 реда жица. Притоа се употребени 480 m жица. Колкава е плоштината на нивата?

Правоаголник со страни 38 cm и 25 cm има плоштина:

3. Математика - Задолжителен предмет

Прашање

Која фигура има поголема плоштина: квадрат со страна 25 cm или правоаголник со страни 32 cm и 20 cm?

Овошна градина во форма на правоаголник има обиколка 100 m. Нејзината должина е 30 m. Колку изнесува плоштината на нивата?

Смилјан патеката на малиот пливачки маратон ја препливал за 1 час и 26 минути и пристигнал на целта во 9 часот и 53 минути. Определи го времето на почетокот на трката.

Автобусот кој ги превезувал учениците на училишна екскурзија тргнал за Охрид во 7 часот и 35 минути. Ако патувањето траело 4 часа и 47 минути, во колку часот автобусот стигнал во Охрид?

Ако Дејан на велосипедската трка стартувал во 9 часот и 45 минути, а ја завршил трката во 13 часот и 37 минути, колку време му требало да ја помине патеката?

Ако бродот тргнал од пристаништето во Охрид во 6 часот и 25 минути, а патувал 4 часа и 45 минути до пристаништето во Св. Наум, во колку стигнал?

3. Математика - Задолжителен предмет

Прашање

Ако Ана е родена на дваесетти октомври 1987 година, а нејзината сестра Антонија е родена на петнаесетти ноември 1993 година. Колку е помлада Антонија од Ана?

Како повеќеимениот број 4 m 6 cm 7 mm би бил запишан како едноимен број?

Како едноимениот број 7 092 mm би бил запишан како повеќеимен број?

Мирче сакал да ја измери својата училишна клупа користејќи го својот молив кој бил долг 11 cm 5 mm. По мерењето Мирче видел дека неговата училишна клупа е долга 11 моливи. Колку е долга училишната клупа на Мирче изразена во метри, центиметри и милиметри?

Како едноимениот број 3 250 ml би бил запишан како повеќеимен број?

Како повеќеимениот број 9 l 150 ml би бил запишан како едноимен број?

Колку течност собира еден сад којшто може да се наполни со 5 чаши по 150 ml?

3. Математика - Задолжителен предмет

Прашање


Во една вреќа имало 25 килограми шеќер. За подготвување на слатки биле употребени 12 килограми и 750 грама шеќер. Колку шеќер останало во вреќата?

Еден земјоделец на една нива произвел 1 t 325 kg компири, а од друга 2 t 237 kg. Колку вкупно компири произвел земјоделецот?

Во една фабрика се произведени 2 530 литри сок од боровинки, а сок од капини за 873 литри помалку. Колку вкупно литри сок се произведени во фабриката?

Подот на училницата е во форма на правоаголник со периметар 1 500 . Нејзината должина е 400 . Колку изнесува нејзината ширина?


Претстави го со децимален број исенчениот дел од квадратот.



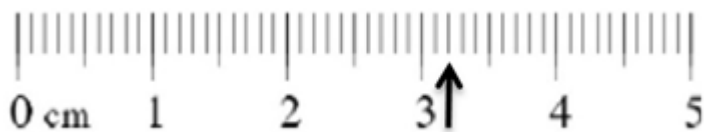
3. Математика - Задолжителен предмет

Прашање

Претстави го со децимален број неисенчениот дел од квадратот.



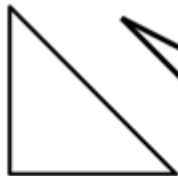
Запиши го децималниот број означен со стрелка.



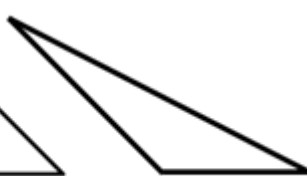
Која од 2Д формите на сликата е тапоаголен триаголник?



A



B



B

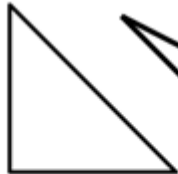


G

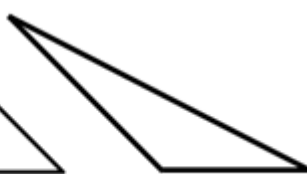
Која од 2Д формите на сликата е остроаголен триаголник?



A



B



B

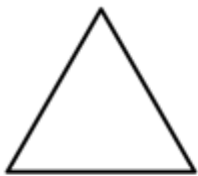


G

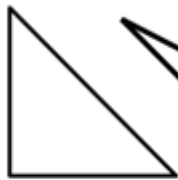
3. Математика - Задолжителен предмет

Прашање

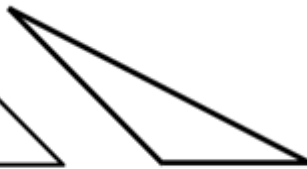
Која од 2Д формите на сликата е правоаголен триаголник?



А



Б

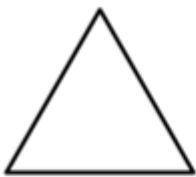


В



Г

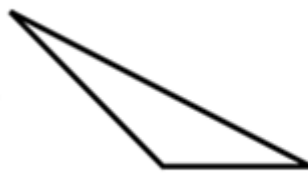
Која од 2Д формите на сликата е рамностран триаголник?



А



Б

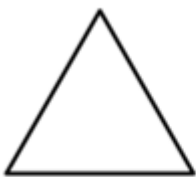


В



Г

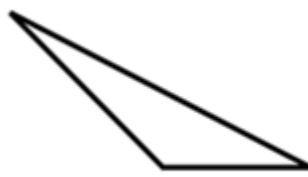
Која од 2Д формите на сликата е разностран триаголник?



А



Б



В



Г

3. Математика - Задолжителен предмет

Прашање

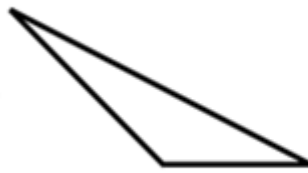
Која од 2Д формите на сликата е рамнокрак триаголник?



А



Б




В



Г

Колку оски на симетрија има 2Д формата на сликата?



Колку оски на симетрија има 2Д формата на сликата?



Правите на цртежот се:



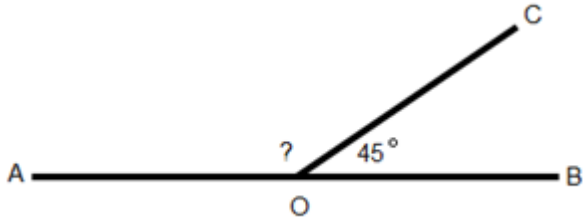
Правите на цртежот се:



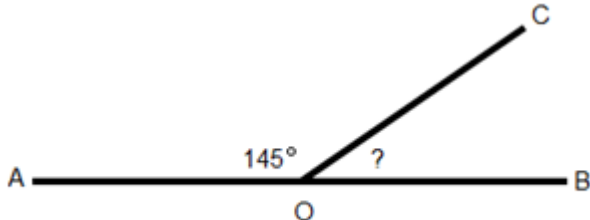
3. Математика - Задолжителен предмет

Прашање

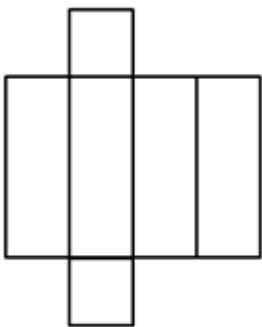
Според сликата пресметај ја големината на аголот АОС.



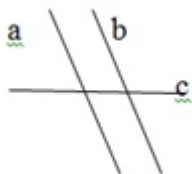
Според сликата пресметај ја големината на аголот ВОС.



Колку темиња има 3Д формата претставена со мрежа на цртежот?



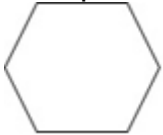
Правите а и б на цртежот:



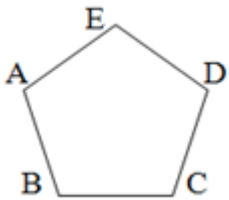
3. Математика - Задолжителен предмет

Прашање

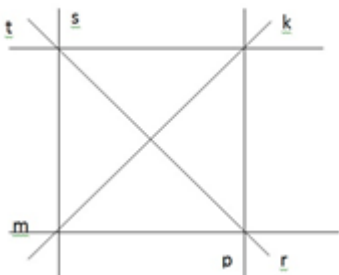
На цртежот е претставена:



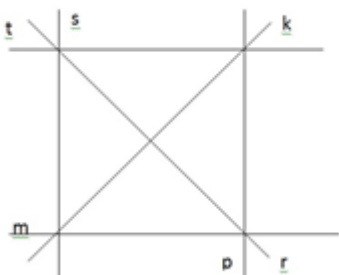
Темиња на петаголникот ABCDE се:



Правите m и t на цртежот:



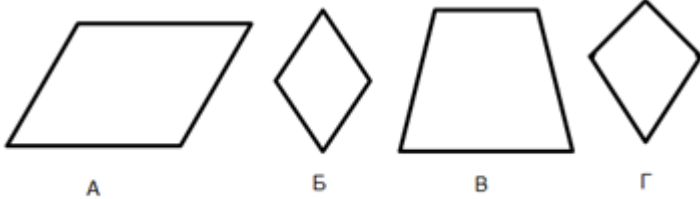
Правите s и p на цртежот:



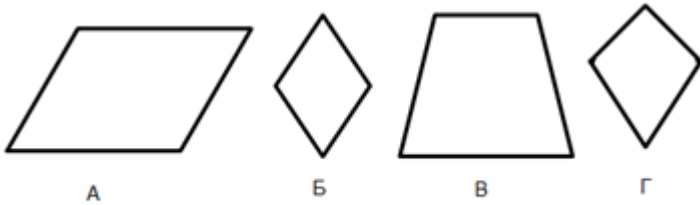
3. Математика - Задолжителен предмет

Прашање

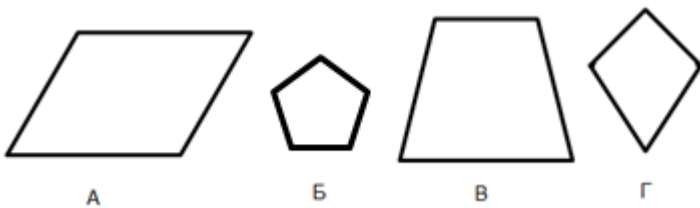
Со која буква е означена 2Д формата делтоид?



Со која буква е означена 2Д формата трапез?



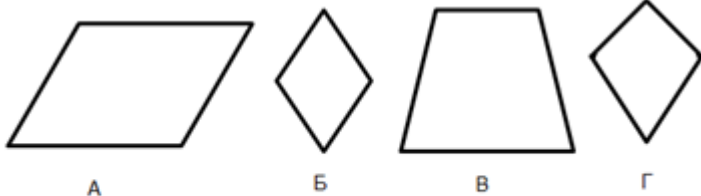
Со која буква е означена 2Д формата паралелограм?



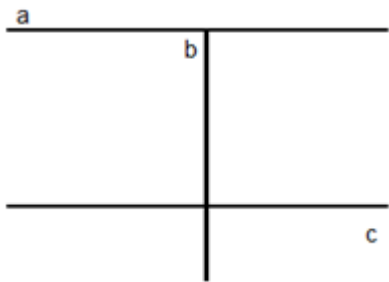
3. Математика - Задолжителен предмет

Прашање

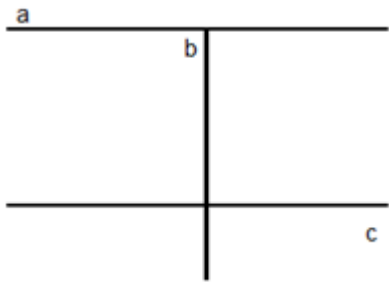
Со која буква е означена 2Д формата ромб?



На цртежот правите а и б:



На цртежот правите а и с:



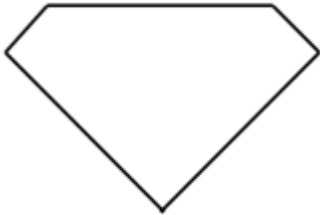
Колку остри агли има 2Д формата на цртежот?



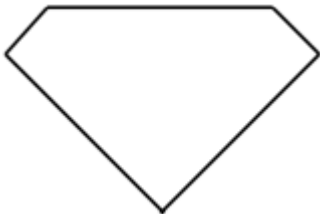
3. Математика - Задолжителен предмет

Прашање

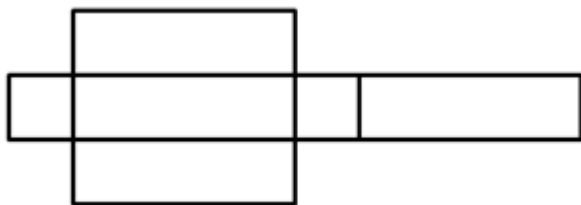
Колку тапи агли има во 2Д формата претставена на цртежот?




Колку остри агли има во 2Д формата претставена на цртежот?



Која 3Д форма се добива при склопување на следната мрежа?



Која 3Д форма се добива при склопување на следната мрежа?



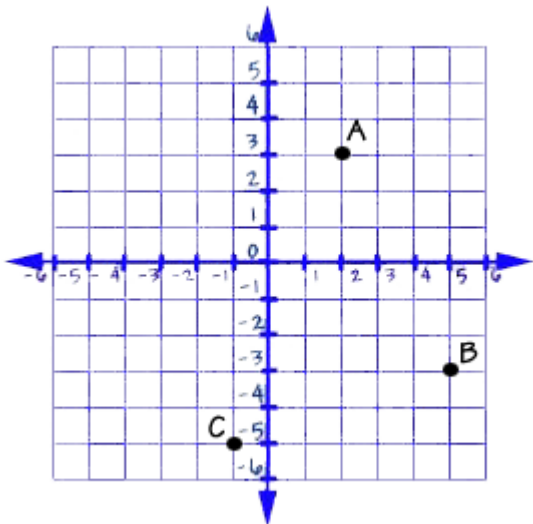
3. Математика - Задолжителен предмет

Прашање

Колку ѕида има тристраната призма претставена со мрежата?



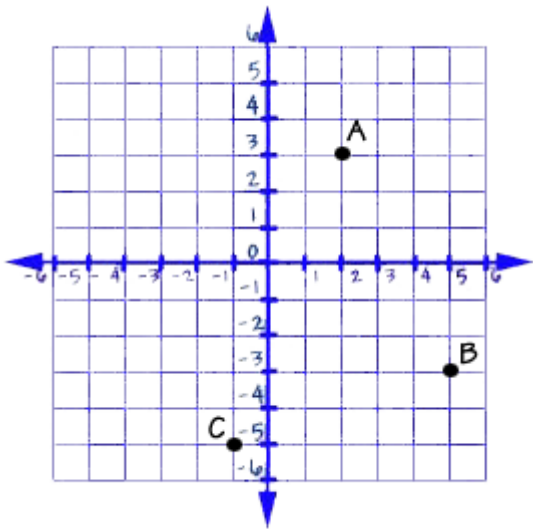
Со кои координати е претставена точката А?



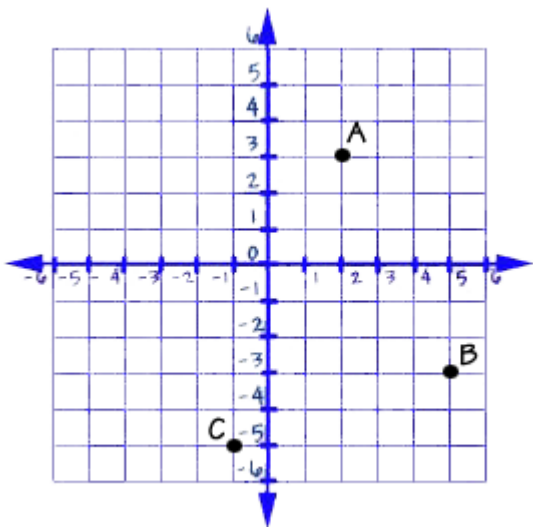
3. Математика - Задолжителен предмет

Прашање

Со кои координати е претставена точката А?



Со кои координати е претставена точката С?



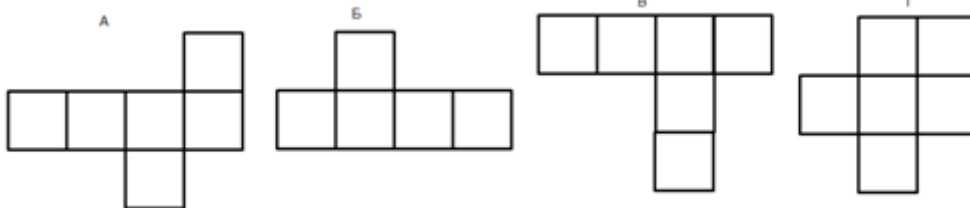
3. Математика - Задолжителен предмет

Прашање

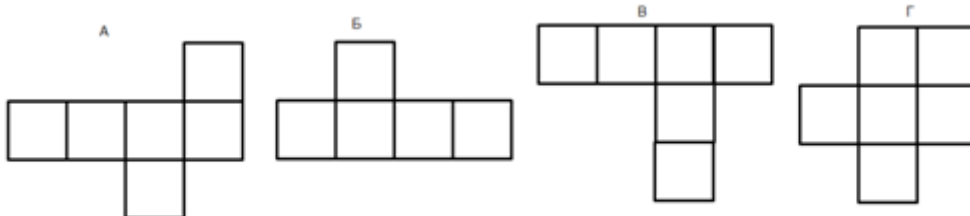
Колку оски на симетрија има знамето на Република Македонија?



Со која од мрежите на цртежот може да се формира 3Д формата коцка?



Со која од мрежите на цртежот не може да се формира 3Д формата коцка?



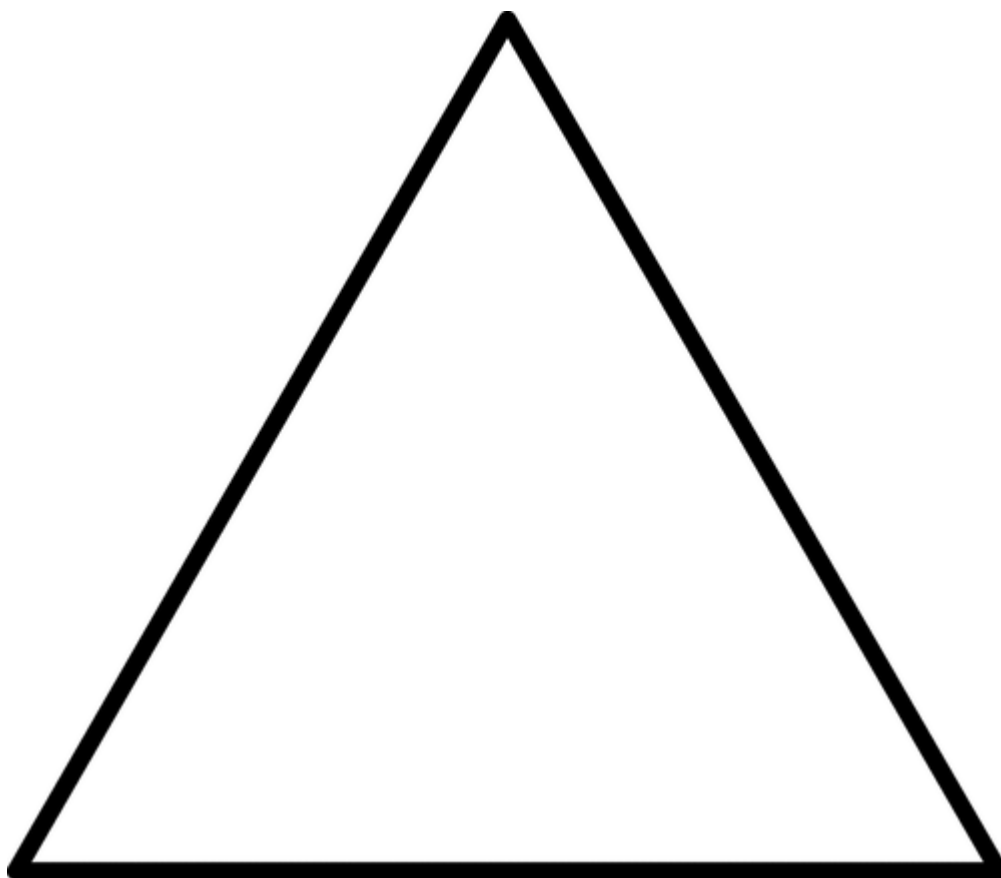
3. Математика - Задолжителен предмет

Прашање

Мрежата на сликата одговара на 3Д формата:



Колку оски на симетрија има цртежот?



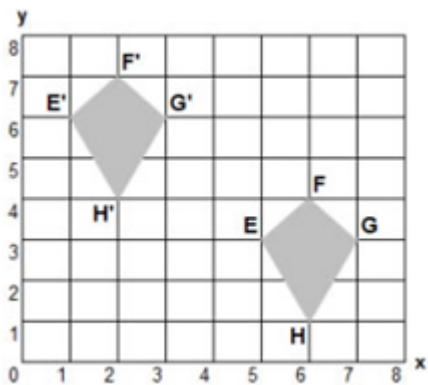
3. Математика - Задолжителен предмет

Прашање

Колку оски на симетрија има цртежот?



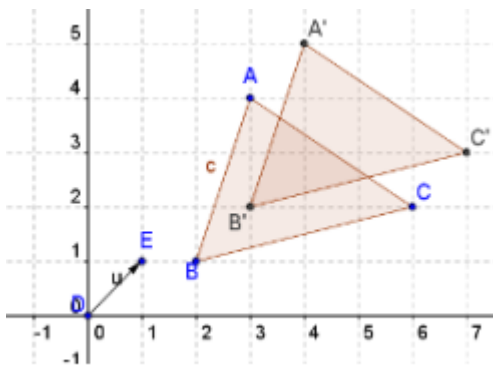
Кои се координатите на 2Д формата по транслагација?



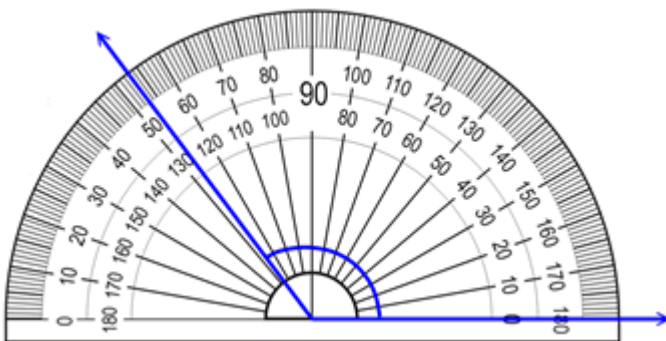
3. Математика - Задолжителен предмет

Прашање

Кои се координатите на 2Д формата пред транслација?



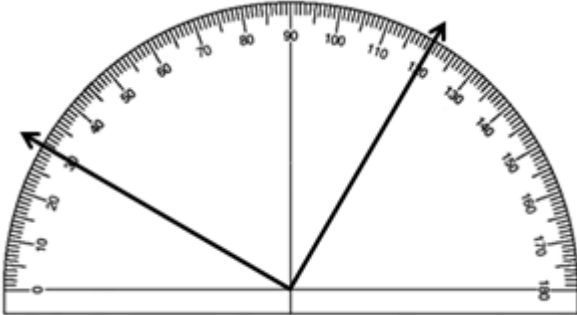
Колку е голем аголот прикажан на сликата?



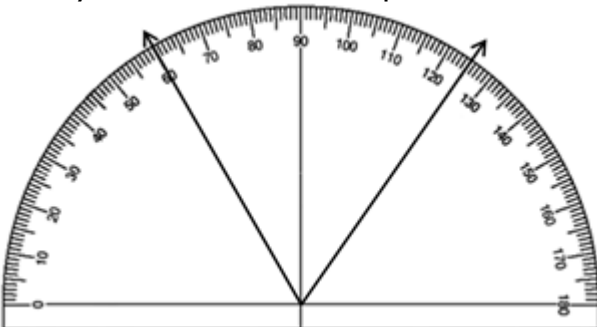
3. Математика - Задолжителен предмет

Прашање

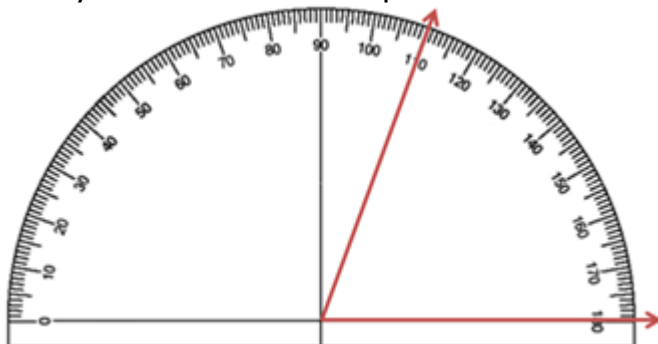
Колку е голем аголот прикажан на сликата?



Колку е голем аголот прикажан на сликата?



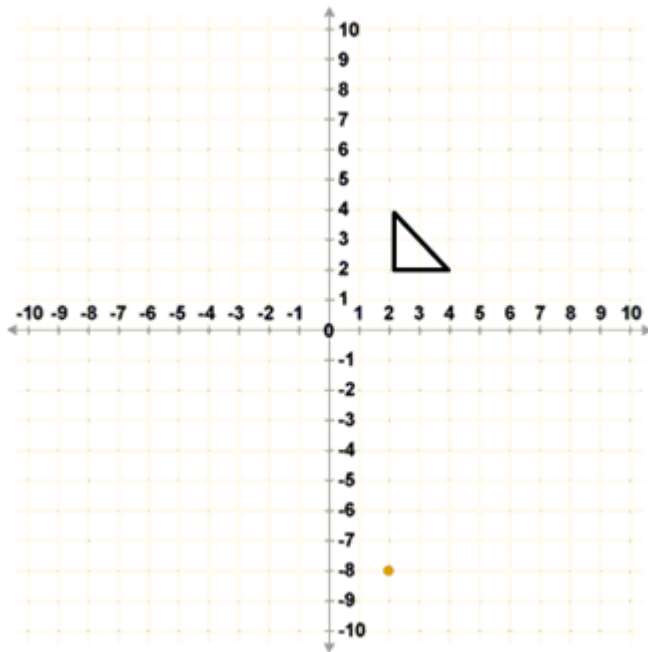
Колку е голем аголот прикажан на сликата?



3. Математика - Задолжителен предмет

Прашање

Кои координати ќе ги заземе триаголникот по транслацијата од 3 десно и 5 нагоре?



На часовникот е прикажано следното време:

попладне



3. Математика - Задолжителен предмет

Прашање

На часовникот е прикажано следното време:

навечер



На часовникот е прикажано следното време:

наутро



На часовникот е прикажано следното време:

ноќе



3. Математика - Задолжителен предмет

Прашање

Според распоредот, во колку часот завршува часот по општество во среда?

Времетраење
07:30 – 08:10
08:15 – 08:55
09:15 – 09:55
10:00 – 10:40
10:45 – 11:25
11:30 – 12:10

Понеделник	Вторник	Среда	Четврток	Петок
Македонски	Природни науки	Општество	Математика	Математика
Математика	Македонски	Математика	Природни науки	Англиски
Општество	Математика	Македонски	Македонски	Македонски
Музичко	Англиски	Англиски	Ликовно	Музичко
Физичко	Творештво	Физичко	Ликовно	Физичко
	Техничко			

Според распоредот, во кој ден Марко најдолго ќе остане во училиште?

Времетраење
07:30 – 08:10
08:15 – 08:55
09:15 – 09:55
10:00 – 10:40
10:45 – 11:25
11:30 – 12:10

Понеделник	Вторник	Среда	Четврток	Петок
Македонски	Природни науки	Општество	Математика	Математика
Математика	Македонски	Математика	Природни науки	Англиски
Општество	Математика	Македонски	Македонски	Македонски
Музичко	Англиски	Англиски	Ликовно	Музичко
Физичко	Творештво	Физичко	Ликовно	Физичко
	Техничко			

Според распоредот, во колку часот почнуваат и до колку часот траат часовите по ликовно?

Времетраење
07:30 – 08:10
08:15 – 08:55
09:15 – 09:55
10:00 – 10:40
10:45 – 11:25
11:30 – 12:10

Понеделник	Вторник	Среда	Четврток	Петок
Македонски	Природни науки	Општество	Математика	Математика
Математика	Македонски	Математика	Природни науки	Англиски
Општество	Математика	Македонски	Македонски	Македонски
Музичко	Англиски	Англиски	Ликовно	Музичко
Физичко	Творештво	Физичко	Ликовно	Физичко
	Техничко			

3. Математика - Задолжителен предмет

Прашање

Според календарот, пресметај колку недели и колку денови поминале од 10 јуни до 28 јуни.

Јануари 2015 S M T W T F S 1 2 3 4 5 6 7 8 9 10 11 12 13 14 15 16 17 18 19 20 21 22 23 24 25 26 27 28 29 30 31	Февруари 2015 S M T W T F S 1 2 3 4 5 6 7 8 9 10 11 12 13 14 15 16 17 18 19 20 21 22 23 24 25 26 27 28	Март 2015 S M T W T F S 1 2 3 4 5 6 7 8 9 10 11 12 13 14 15 16 17 18 19 20 21 22 23 24 25 26 27 28 29 30 31	Април 2015 1 2 3 4 5 6 7 8 9 10 11 12 13 14 15 16 17 18 19 20 21 22 23 24 25 26 27 28 29 30
Мај 2015 S M T W T F S 1 2 3 4 5 6 7 8 9 10 11 12 13 14 15 16 17 18 19 20 21 22 23 24 25 26 27 28 29 30 31	Јуни 2015 S M T W T F S 1 2 3 4 5 6 7 8 9 10 11 12 13 14 15 16 17 18 19 20 21 22 23 24 25 26 27 28 29 30	Јули 2015 S M T W T F S 1 2 3 4 5 6 7 8 9 10 11 12 13 14 15 16 17 18 19 20 21 22 23 24 25 26 27 28 29 30 31	Август 2015 1 2 3 4 5 6 7 8 9 10 11 12 13 14 15 16 17 18 19 20 21 22 23 24 25 26 27 28 29 30 31
Септември 2015 S M T W T F S 1 2 3 4 5 6 7 8 9 10 11 12 13 14 15 16 17 18 19 20 21 22 23 24 25 26 27 28 29 30	Октомври 2015 S M T W T F S 1 2 3 4 5 6 7 8 9 10 11 12 13 14 15 16 17 18 19 20 21 22 23 24 25 26 27 28 29 30 31	Ноември 2015 S M T W T F S 1 2 3 4 5 6 7 8 9 10 11 12 13 14 15 16 17 18 19 20 21 22 23 24 25 26 27 28 29 30	Декември 2015 1 2 3 4 5 6 7 8 9 10 11 12 13 14 15 16 17 18 19 20 21 22 23 24 25 26 27 28 29 30 31

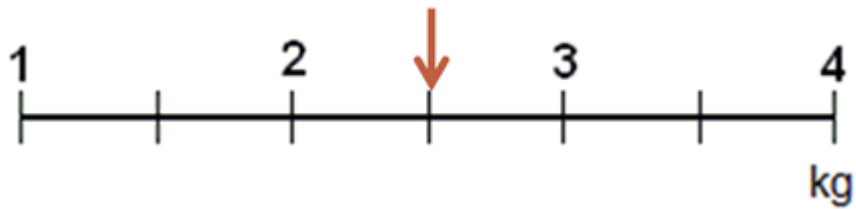
Според календарот, пресметај колку недели и колку денови поминале од 15 ноември до крајот на годината.

Јануари 2015 S M T W T F S 1 2 3 4 5 6 7 8 9 10 11 12 13 14 15 16 17 18 19 20 21 22 23 24 25 26 27 28 29 30 31	Февруари 2015 S M T W T F S 1 2 3 4 5 6 7 8 9 10 11 12 13 14 15 16 17 18 19 20 21 22 23 24 25 26 27 28	Март 2015 S M T W T F S 1 2 3 4 5 6 7 8 9 10 11 12 13 14 15 16 17 18 19 20 21 22 23 24 25 26 27 28 29 30 31	Април 2015 1 2 3 4 5 6 7 8 9 10 11 12 13 14 15 16 17 18 19 20 21 22 23 24 25 26 27 28 29 30
Мај 2015 S M T W T F S 1 2 3 4 5 6 7 8 9 10 11 12 13 14 15 16 17 18 19 20 21 22 23 24 25 26 27 28 29 30 31	Јуни 2015 S M T W T F S 1 2 3 4 5 6 7 8 9 10 11 12 13 14 15 16 17 18 19 20 21 22 23 24 25 26 27 28 29 30	Јули 2015 S M T W T F S 1 2 3 4 5 6 7 8 9 10 11 12 13 14 15 16 17 18 19 20 21 22 23 24 25 26 27 28 29 30 31	Август 2015 1 2 3 4 5 6 7 8 9 10 11 12 13 14 15 16 17 18 19 20 21 22 23 24 25 26 27 28 29 30 31
Септември 2015 S M T W T F S 1 2 3 4 5 6 7 8 9 10 11 12 13 14 15 16 17 18 19 20 21 22 23 24 25 26 27 28 29 30	Октомври 2015 S M T W T F S 1 2 3 4 5 6 7 8 9 10 11 12 13 14 15 16 17 18 19 20 21 22 23 24 25 26 27 28 29 30 31	Ноември 2015 S M T W T F S 1 2 3 4 5 6 7 8 9 10 11 12 13 14 15 16 17 18 19 20 21 22 23 24 25 26 27 28 29 30	Декември 2015 1 2 3 4 5 6 7 8 9 10 11 12 13 14 15 16 17 18 19 20 21 22 23 24 25 26 27 28 29 30 31

3. Математика - Задолжителен предмет

Прашање

Што е претставено на мерната скала?



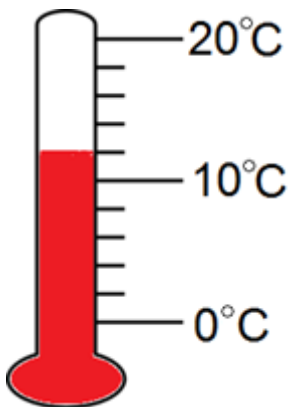
Што е измерено со претставената мерна скала?



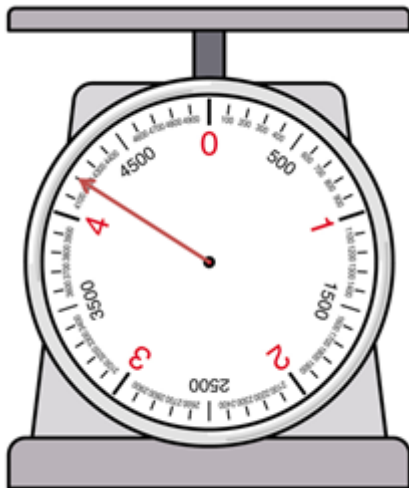
3. Математика - Задолжителен предмет

Прашање

Што е претставено на мерната скала?



Што е прикажано на мерната скала?



Вредноста 3 284 милиметри изрази ја во метри, центиметри и милиметри.

3. Математика - Задолжителен предмет

Прашање

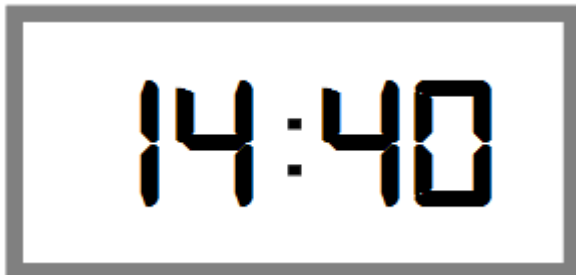
Што е прикажано на мерната скала?



Што е прикажано на мерната скала?



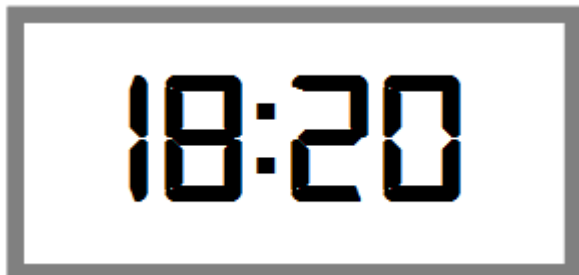
Времето претставено на дигиталниот часовник запишано со зборови е:



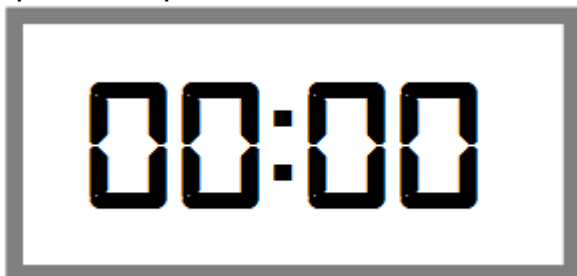
3. Математика - Задолжителен предмет

Прашање

Времето претставено на дигиталниот часовник запишано со зборови е:



Времето претставено на дигиталниот часовник запишано со зборови е:



Според распоредот на возовите Скопје-Велес, определи во колку часот тргнува возот 641 од железничка станица "Јане Сандански".

СТАНИЦА	2081 ¹⁾	D 335	611	641	613	2083 ¹⁾	643	651
	R ∞	∞ ∞-42	iR ⊗	iR ⊖	iR ∞	R ⊗	iR ⊖	iR ⊖
СКОПЈЕ	4.15	4.45	6.20	6.42	9.00	13.20	14.30	15.22
ЛИСИЧЕ	-	-	6.31	6.48	9.06	13.26	14.36	15.28
ДРАЧЕВО	4.26	-	6.37	6.53	9.12	13.32	14.42	15.34
ЈАНЕ САНДАНСКИ	-	-	6.46	6.58	9.17	13.37	14.47	15.39
ОРЕШАНИ	-	-	6.48	7.00	9.19	13.39	14.49	15.41
ЗЕЛЕНИКОВО НОВО	-	-	6.51	7.03	9.22	13.42	14.52	15.44
ЗЕЛЕНИКОВО	4.37	-	6.53	7.10	9.25	13.45	14.55	15.51
СМЕСНИЦА	-	-	6.57	7.14	9.29	13.49	14.59	15.55
КАДИНА РЕКА	-	-	7.00	-	9.31	13.51	-	-
ПЧИЊА	-	-	7.05	-	9.36	13.56	-	-
РАЈКО ЖИНЗИФОВ	-	-	7.10	7.31	9.41	14.01	15.10	16.08
ВЕЛЕС	5.01	5.25	7.20	7.41	9.51	14.11	15.20	16.18

3. Математика - Задолжителен предмет

Прашање

Според распоредот на возовите Скопје-Велес, определите во колку часот тргнува возот 613 од железничка станица "Смесница".

СТАНИЦА	2081 ¹⁾	D 335	611	641	613	2083 ¹⁾	643	651
	Р ∞	∞ ∞ ₄₂	iR ⊗	iR ⊖	iR ∞	Р ⊗	iR ⊖	iR ⊖
СКОПЈЕ	4.15	4.45	6.20	6.42	9.00	13.20	14.30	15.22
ЛИСИЧЕ	-	-	6.31	6.48	9.06	13.26	14.36	15.28
ДРАЧЕВО	4.26	-	6.37	6.53	9.12	13.32	14.42	15.34
ЈАНЕ САНДАНСКИ	-	-	6.46	6.58	9.17	13.37	14.47	15.39
ОРЕШАНИ	-	-	6.48	7.00	9.19	13.39	14.49	15.41
ЗЕЛЕНИКОВО НОВО	-	-	6.51	7.03	9.22	13.42	14.52	15.44
ЗЕЛЕНИКОВО	4.37	-	6.53	7.10	9.25	13.45	14.55	15.51
СМЕСНИЦА	-	-	6.57	7.14	9.29	13.49	14.59	15.55
КАДИНА РЕКА	-	-	7.00	-	9.31	13.51	-	-
ПЧИЊА	-	-	7.05	-	9.36	13.56	-	-
РАЈКО ЖИНЗИФОВ	-	-	7.10	7.31	9.41	14.01	15.10	16.08
ВЕЛЕС	5.01	5.25	7.20	7.41	9.51	14.11	15.20	16.18

Според распоредот на возовите Скопје-Велес, определите во колку часот тргнува возот 2 081 од железничка станица "Драчево".

СТАНИЦА	2081 ¹⁾	D 335	611	641	613	2083 ¹⁾	643	651
	Р ∞	∞ ∞ ₄₂	iR ⊗	iR ⊖	iR ∞	Р ⊗	iR ⊖	iR ⊖
СКОПЈЕ	4.15	4.45	6.20	6.42	9.00	13.20	14.30	15.22
ЛИСИЧЕ	-	-	6.31	6.48	9.06	13.26	14.36	15.28
ДРАЧЕВО	4.26	-	6.37	6.53	9.12	13.32	14.42	15.34
ЈАНЕ САНДАНСКИ	-	-	6.46	6.58	9.17	13.37	14.47	15.39
ОРЕШАНИ	-	-	6.48	7.00	9.19	13.39	14.49	15.41
ЗЕЛЕНИКОВО НОВО	-	-	6.51	7.03	9.22	13.42	14.52	15.44
ЗЕЛЕНИКОВО	4.37	-	6.53	7.10	9.25	13.45	14.55	15.51
СМЕСНИЦА	-	-	6.57	7.14	9.29	13.49	14.59	15.55
КАДИНА РЕКА	-	-	7.00	-	9.31	13.51	-	-
ПЧИЊА	-	-	7.05	-	9.36	13.56	-	-
РАЈКО ЖИНЗИФОВ	-	-	7.10	7.31	9.41	14.01	15.10	16.08
ВЕЛЕС	5.01	5.25	7.20	7.41	9.51	14.11	15.20	16.18

3. Математика - Задолжителен предмет

Прашање

Според распоредот на возовите Скопје-Велес, определите во колку часот тргнува возот 2 083 од железничка станица "Скопје".

СТАНИЦА	2081 ¹⁾	D 335	611	641	613	2083 ¹⁾	643	651
	Р ∞	∞ ∞D 42	iR ⊕	iR ⊖	iR ∞	Р ⊕	iR ⊖	iR ⊖
СКОПЈЕ	4.15	4.45	6.20	6.42	9.00	13.20	14.30	15.22
ЛИСИЧЕ	-	-	6.31	6.48	9.06	13.26	14.36	15.28
ДРАЧЕВО	4.26	-	6.37	6.53	9.12	13.32	14.42	15.34
ЈАНЕ САНДАНСКИ	-	-	6.46	6.58	9.17	13.37	14.47	15.39
ОРЕШАНИ	-	-	6.48	7.00	9.19	13.39	14.49	15.41
ЗЕЛЕНИКОВО НОВО	-	-	6.51	7.03	9.22	13.42	14.52	15.44
ЗЕЛЕНИКОВО	4.37	-	6.53	7.10	9.25	13.45	14.55	15.51
СМЕСНИЦА	-	-	6.57	7.14	9.29	13.49	14.59	15.55
КАДИНА РЕКА	-	-	7.00	-	9.31	13.51	-	-
ПЧИЊА	-	-	7.05	-	9.36	13.56	-	-
РАЈКО ЖИНЗИФОВ	-	-	7.10	7.31	9.41	14.01	15.10	16.08
ВЕЛЕС	5.01	5.25	7.20	7.41	9.51	14.11	15.20	16.18

Според распоредот на возовите Скопје-Велес, определите за колку време возот 641 патува од Скопје до Смесница.

СТАНИЦА	2081 ¹⁾	D 335	611	641	613	2083 ¹⁾	643	651
	Р ∞	∞ ∞D 42	iR ⊕	iR ⊖	iR ∞	Р ⊕	iR ⊖	iR ⊖
СКОПЈЕ	4.15	4.45	6.20	6.42	9.00	13.20	14.30	15.22
ЛИСИЧЕ	-	-	6.31	6.48	9.06	13.26	14.36	15.28
ДРАЧЕВО	4.26	-	6.37	6.53	9.12	13.32	14.42	15.34
ЈАНЕ САНДАНСКИ	-	-	6.46	6.58	9.17	13.37	14.47	15.39
ОРЕШАНИ	-	-	6.48	7.00	9.19	13.39	14.49	15.41
ЗЕЛЕНИКОВО НОВО	-	-	6.51	7.03	9.22	13.42	14.52	15.44
ЗЕЛЕНИКОВО	4.37	-	6.53	7.10	9.25	13.45	14.55	15.51
СМЕСНИЦА	-	-	6.57	7.14	9.29	13.49	14.59	15.55
КАДИНА РЕКА	-	-	7.00	-	9.31	13.51	-	-
ПЧИЊА	-	-	7.05	-	9.36	13.56	-	-
РАЈКО ЖИНЗИФОВ	-	-	7.10	7.31	9.41	14.01	15.10	16.08
ВЕЛЕС	5.01	5.25	7.20	7.41	9.51	14.11	15.20	16.18

3. Математика - Задолжителен предмет

Прашање

Според распоредот на возовите Скопје-Велес, определи за колку време возот 643 патува од Скопје до Велес.

СТАНИЦА	2081 ¹⁾	D 335	611	641	613	2083 ¹⁾	643	651
	Р ∞	∞ 00 → 42	iR ⊕	iR ←	iR ∞	Р ⊕	iR ←	iR ←
СКОПЈЕ	4.15	4.45	6.20	6.42	9.00	13.20	14.30	15.22
ЛИСИЧЕ	-	-	6.31	6.48	9.06	13.26	14.36	15.28
ДРАЧЕВО	4.26	-	6.37	6.53	9.12	13.32	14.42	15.34
ЈАНЕ САНДАНСКИ	-	-	6.46	6.58	9.17	13.37	14.47	15.39
ОРЕШАНИ	-	-	6.48	7.00	9.19	13.39	14.49	15.41
ЗЕЛЕНИКОВО НОВО	-	-	6.51	7.03	9.22	13.42	14.52	15.44
ЗЕЛЕНИКОВО	4.37	-	6.53	7.10	9.25	13.45	14.55	15.51
СМЕСНИЦА	-	-	6.57	7.14	9.29	13.49	14.59	15.55
КАДИНА РЕКА	-	-	7.00	-	9.31	13.51	-	-
ПЧИЊА	-	-	7.05	-	9.36	13.56	-	-
РАЈКО ЖИНЗИФОВ	-	-	7.10	7.31	9.41	14.01	15.10	16.08
ВЕЛЕС	5.01	5.25	7.20	7.41	9.51	14.11	15.20	16.18

Според распоредот на возовите Скопје-Велес, определи за колку време возот 651 патува од Јане Сандански до Рајко Жинзифов.

СТАНИЦА	2081 ¹⁾	D 335	611	641	613	2083 ¹⁾	643	651
	Р ∞	∞ 00 → 42	iR ⊕	iR ←	iR ∞	Р ⊕	iR ←	iR ←
СКОПЈЕ	4.15	4.45	6.20	6.42	9.00	13.20	14.30	15.22
ЛИСИЧЕ	-	-	6.31	6.48	9.06	13.26	14.36	15.28
ДРАЧЕВО	4.26	-	6.37	6.53	9.12	13.32	14.42	15.34
ЈАНЕ САНДАНСКИ	-	-	6.46	6.58	9.17	13.37	14.47	15.39
ОРЕШАНИ	-	-	6.48	7.00	9.19	13.39	14.49	15.41
ЗЕЛЕНИКОВО НОВО	-	-	6.51	7.03	9.22	13.42	14.52	15.44
ЗЕЛЕНИКОВО	4.37	-	6.53	7.10	9.25	13.45	14.55	15.51
СМЕСНИЦА	-	-	6.57	7.14	9.29	13.49	14.59	15.55
КАДИНА РЕКА	-	-	7.00	-	9.31	13.51	-	-
ПЧИЊА	-	-	7.05	-	9.36	13.56	-	-
РАЈКО ЖИНЗИФОВ	-	-	7.10	7.31	9.41	14.01	15.10	16.08
ВЕЛЕС	5.01	5.25	7.20	7.41	9.51	14.11	15.20	16.18

3. Математика - Задолжителен предмет

Прашање

Ако Сашко бил на ученичка размена во Англија од први март до петнаесетти ноември, колку време останал во Англија?

Јануари 2015	Февруари 2015	Март 2015	Април 2015
S M T W T F S 1 2 3 4 5 6 7 8 9 10 11 12 13 14 15 16 17 18 19 20 21 22 23 24 25 26 27 28 29 30 31	S M T W T F S 1 2 3 4 5 6 7 8 9 10 11 12 13 14 15 16 17 18 19 20 21 22 23 24 25 26 27 28	S M T W T F S 1 2 3 4 5 6 7 8 9 10 11 12 13 14 15 16 17 18 19 20 21 22 23 24 25 26 27 28 29 30 31	S M T W T F S 1 2 3 4 5 6 7 8 9 10 11 12 13 14 15 16 17 18 19 20 21 22 23 24 25 26 27 28 29 30
Мај 2015	Јуни 2015	Јули 2015	Август 2015
S M T W T F S 1 2 3 4 5 6 7 8 9 10 11 12 13 14 15 16 17 18 19 20 21 22 23 24 25 26 27 28 29 30 31	S M T W T F S 1 2 3 4 5 6 7 8 9 10 11 12 13 14 15 16 17 18 19 20 21 22 23 24 25 26 27 28 29 30	S M T W T F S 1 2 3 4 5 6 7 8 9 10 11 12 13 14 15 16 17 18 19 20 21 22 23 24 25 26 27 28 29 30 31	S M T W T F S 1 2 3 4 5 6 7 8 9 10 11 12 13 14 15 16 17 18 19 20 21 22 23 24 25 26 27 28 29 30 31
Септември 2015	Октомври 2015	Ноември 2015	Декември 2015
S M T W T F S 1 2 3 4 5 6 7 8 9 10 11 12 13 14 15 16 17 18 19 20 21 22 23 24 25 26 27 28 29 30	S M T W T F S 1 2 3 4 5 6 7 8 9 10 11 12 13 14 15 16 17 18 19 20 21 22 23 24 25 26 27 28 29 30 31	S M T W T F S 1 2 3 4 5 6 7 8 9 10 11 12 13 14 15 16 17 18 19 20 21 22 23 24 25 26 27 28 29 30	S M T W T F S 1 2 3 4 5 6 7 8 9 10 11 12 13 14 15 16 17 18 19 20 21 22 23 24 25 26 27 28 29 30 31

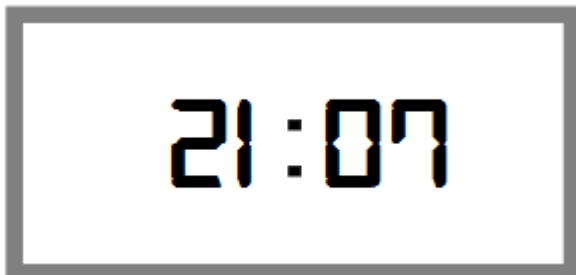
3. Математика - Задолжителен предмет

Прашање

За да ја преплива патеката на малиот пливачки маратон на втори август, Смилјан започнал да тренира 5 месеци порано. Кога почнал Смилјан да тренира?

Јануари 2015	Февруари 2015	Март 2015	Април 2015
S M T W T F S 1 2 3 4 5 6 7 8 9 10 11 12 13 14 15 16 17 18 19 20 21 22 23 24 25 26 27 28 29 30 31	S M T W T F S 1 2 3 4 5 6 7 8 9 10 11 12 13 14 15 16 17 18 19 20 21 22 23 24 25 26 27 28	S M T W T F S 1 2 3 4 5 6 7 8 9 10 11 12 13 14 15 16 17 18 19 20 21 22 23 24 25 26 27 28 29 30 31	S M T W T F S 1 2 3 4 5 6 7 8 9 10 11 12 13 14 15 16 17 18 19 20 21 22 23 24 25 26 27 28 29 30
Мај 2015	Јуни 2015	Јули 2015	Август 2015
S M T W T F S 1 2 3 4 5 6 7 8 9 10 11 12 13 14 15 16 17 18 19 20 21 22 23 24 25 26 27 28 29 30 31	S M T W T F S 1 2 3 4 5 6 7 8 9 10 11 12 13 14 15 16 17 18 19 20 21 22 23 24 25 26 27 28 29 30	S M T W T F S 1 2 3 4 5 6 7 8 9 10 11 12 13 14 15 16 17 18 19 20 21 22 23 24 25 26 27 28 29 30 31	S M T W T F S 1 2 3 4 5 6 7 8 9 10 11 12 13 14 15 16 17 18 19 20 21 22 23 24 25 26 27 28 29 30 31
Септември 2015	Октомври 2015	Ноември 2015	Декември 2015
S M T W T F S 1 2 3 4 5 6 7 8 9 10 11 12 13 14 15 16 17 18 19 20 21 22 23 24 25 26 27 28 29 30	S M T W T F S 1 2 3 4 5 6 7 8 9 10 11 12 13 14 15 16 17 18 19 20 21 22 23 24 25 26 27 28 29 30 31	S M T W T F S 1 2 3 4 5 6 7 8 9 10 11 12 13 14 15 16 17 18 19 20 21 22 23 24 25 26 27 28 29 30	S M T W T F S 1 2 3 4 5 6 7 8 9 10 11 12 13 14 15 16 17 18 19 20 21 22 23 24 25 26 27 28 29 30 31

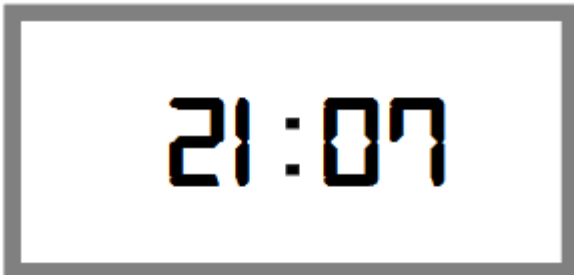
Кое време го покажувал часовникот пред 20 минути?



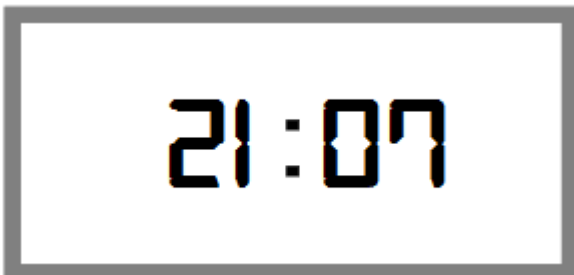
3. Математика - Задолжителен предмет

Прашање

Кое време ќе го покажува часовникот за 35 минути?



Кое време ќе го покажува часовникот за 1 час и 53 минути?



Според податоците од табелата, определи кое овошје децата најмногу го јадат.

Овошје	банана	јаболко	вишна	јагода	портокал	круша
Број на деца	15	12	8	14	13	10

Според податоците од табелата, определи кое овошје децата најмалку го јадат.

Овошје	банана	јаболко	вишна	јагода	портокал	круша
Број на деца	15	12	8	14	13	10

3. Математика - Задолжителен предмет

Прашање

Пред вратата на училиштето се расправаат 4 момчиња за тоа кое од нив има најмалку петки. Според податоците претставени на столбестиот дијаграм помогни им на момчињата да определат кое од нив има најмалку петки.



Пред вратата на училиштето се расправаат 4 момчиња за тоа кое од нив има најмногу петки. Според податоците претставени на столбестиот дијаграм помогни им на момчињата да определат кое од нив има најмногу петки.



3. Математика - Задолжителен предмет

Прашање

Јована чита книга. Колку страници од книгата чита за одредено време, дадено е во табелата.

Колку страници ќе прочита Јована за 10 минути?

Време во минути	5	10	15	20
Број на прочитани страници	4	8	12	16

Јована чита книга. Колку страници од книгата чита за одредено време е дадено во табелата. Колку страници ќе прочита Јована за 5 минути?

Време во минути	5	10	15	20
Број на прочитани страници	4	8	12	16

Јована чита книга. Колку страници од книгата чита за одредено време е дадено во табелата.

Колку страници ќе прочита Јована за 20 минути?

Време во минути	5	10	15	20
Број на прочитани страници	4	8	12	16

Александра, Ана, Лејла и Изабела си купиле по една чоколада. Во табелата е дадено колку коцки од чоколадата изела секоја од нив. Кој изел најмногу чоколада?

Име на дете	Александра	Ана	Лејла	Изабела
Коцки чоколада	5	4	8	7

3. Математика - Задолжителен предмет

Прашање

Александра, Ана, Лејла и Изабела си купиле по една чоколада. Во табелата е дадено колку коцки од чоколадата изела секоја од нив. Кој изел најмалку чоколада?

Име на дете	Александра	Ана	Лејла	Изабела
Коцки чоколада	5	4	8	7

Според податоците од табелата, определи по кој предмет учениците имаат најмалку петки.

Предмет	Математика	Македонски јазик	Англиски јазик	Природни науки	Општество	Техничко образование
Број на деца	18	25	22	27	24	26

Според податоците од табелата, определи по кој предмет учениците имаат најмногу петки.

Предмет	Математика	Македонски јазик	Англиски јазик	Природни науки	Општество	Техничко образование
Број на деца	18	25	22	27	24	26

Опреди според податоците од табелата кој оброк има најмалку калории.

ОБРОК	1 хамбургер	$\frac{1}{4}$ буреk со месо	1 парче пица	1 тост
КАЛОРИИ	200	250	200	180

3. Математика - Задолжителен предмет

Прашање

Опреди според податоците од табелата кој оброк има најмногу калории.

ОБРОК	1 хамбургер	$\frac{1}{4}$ бурек со месо	1 парче пица	1 тост
КАЛОРИИ	200	250	200	180

Опреди според податоците од табелата која храна учениците најмногу ја сакаат.

ХРАНА	овошје	зеленчук	млечни производи	сендвичи
БРОЈ НА УЧЕНИЦИ	20	10	15	25

Опреди според податоците од табелата која храна учениците најмалку ја сакаат.

ХРАНА	овошје	зеленчук	млечни производи	сендвичи
БРОЈ НА УЧЕНИЦИ	20	10	15	25

Опреди според податоците од табелата кој ученик посветува најмалку време за учење во текот на месецот.

Име на ученик	Ивана	Бојан	Бобан	Давид
Време за учење во часови	15 часа	38 часа	20 часа	24 часа

3. Математика - Задолжителен предмет

Прашање

Определи според податоците од табелата кој ученик посветува најмногу време за учење во текот на месецот.

Име на ученик	Ивана	Бојан	Бобан	Давид
Време за учење во часови	15 часа	38 часа	20 часа	24 часа

Во една кутија има 36 бонбони. Тоше зел 8 бонбони, Илија 11 и Муса 10 бонбони. Колку бонбони зел Агим ако кутијата останала празна?

Име	Тоше	Илија	Муса	Агим
Број на бонбони	8	11	10	?

Во табелата е даден бројот на ученици по паралелки во петто одделение во едно училиште.

Колку ученици учат во петто одделение во училиштето?

Паралелка	V-1	V-2	V-3
Број на ученици	32	28	30

3. Математика - Задолжителен предмет

Прашање

Никола секој ден во седмицата запишувал колку луѓе купувале мед од еден маркет. Податоците ги претставил на следниот столбест дијаграм. Според дијаграмот одреди кој број недостасува во табелата.



Денови	Понеделник	Вторник	Среда	Четврток	Петок	Сабота	Недела
Број на купувачи на мед	35	?	5	30	20	30	10

На столбестиот дијаграм е претставен бројот на автомобили кои се сервисираат во текот на неделата по денови. Кои денови во неделата се сервисираат ист број автомобили?



3. Математика - Задолжителен предмет

Прашање

На столбестиот дијаграм е претставен бројот на автомобили кои се сервисираат во текот на неделата по денови. Во кој ден од неделата се сервисираат најмногу автомобили?



На столбестиот дијаграм е претставен бројот на автомобили кои се сервисираат во текот на неделата по денови. Во кој ден од неделата се сервисираат најмалку автомобили?



Во една кутија има 40 моливи. Игор зел 13 моливи, Марија 18 и Севѓул 5 моливи. Колку моливи останале за Неџат?

Име	Игор	Неџат	Марија	Севѓул
Број на моливи	13	?	18	5

3. Математика - Задолжителен предмет

Прашање

Во табелата е даден бројот на девојчиња по паралелки во петто одделение во едно училиште.

Колку девојчиња учат во петто одделение во училиштето?

Паралелка	V-1	V-2	V-3
Број на девојчиња	18	15	17

Во една кутија има 36 фломастери. Петар зел 7 фломастери, Дарко 9 и Агрон 12 фломастери. Колку фломастери зел Иџет ако кутијата останала празна?

Име	Петар	Дарко	Агрон	Иџет
Број на бонбони	7	9	12	?

Во табелата е даден бројот на ученици од петто одделение во едно училиште кои одат во секции.

Колку ученици од петто одделение одат во секции?

Секција	Природни науки	Информатика	Англиски јазик
Број на ученици	25	31	28

3. Математика - Задолжителен предмет

Прашање

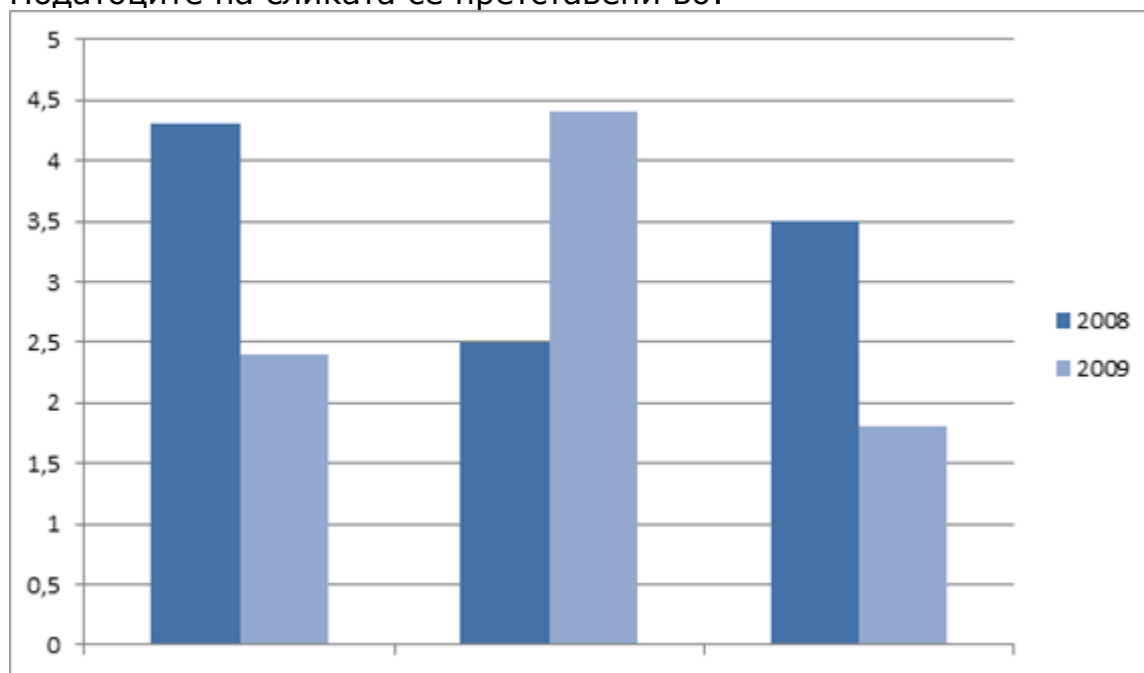
Филмските проекции на филмот „Спектра“ биле посетени од голем број гледачи низ Македонија. Во табелата е дадена посетеноста на проекциите низ некои градови во Македонија. Колку луѓе ги следеле проекциите на филмот?

Град	Скопје	Прилеп	Велес	Кавадарци
Посетеност на проекцијата	1325	535	104	159

Во едно одделение од 26 ученици, 6 ученици се одлични, 10 се многу добри, 7 се добри, а останатите се со доволен успех. Кој е точниот податок што недостасува во табелата?

УСПЕХ	Одличен	Многу добар	Добар	Доволен
БРОЈНА УЧЕНИЦИ	6	10	7	?

Податоците на сликата се претставени во:



3. Математика - Задолжителен предмет

Прашање

Во едно одделение од 28 ученици на тестот по математика постигнат е следниот успех: Колку ученици на тестот по математика добиле доволен 2?

Успех на тестот по математика	Одличен	Многу добар	Добар	Доволен	Недоволен
Број на ученици	5	10	6	?	3

Во една продавница донесени се нови модели на џемпери, тренерки и капи. Во табелата е претставено колку од нив биле продадени првиот ден кога се донесени.

Колку денари вкупно се заработени тој ден ако џемперот се продава по цена од 680 денари, тренерките по 700 денари и капите по 300 денари?


Производи	Џемпери	Тренерки	Капи
Број на продадени производи	5	3	7

Четири деца добиле по една чоколада и секоја имала по 12 парчиња. На дијаграмот се претставени податоците за тоа по колку парчиња изело секое дете од својата чоколада. На кое дете му останале $\frac{5}{12}$?

3. Математика - Задолжителен предмет

Прашање

Четири деца добиле по една чоколада и секоја имала по 12 парчиња. На дијаграмот се претставени податоците за тоа по колку парчиња изело секое дете од својата чоколада. На кое дете не му останало чоколада?



Четири деца добиле по една чоколада и секоја имала по 12 парчиња. На дијаграмот се претставени податоците за тоа по колку парчиња изело секое дете од својата чоколада. На кое дете му останале $\frac{7}{12}$?

Во табелата се дадени податоци за цената на црвена свила во зависност од нејзината должина. Колку пари се потребни за 15 метри црвена свила?

Црвена свила (m)	8	12	16	20
Денари	400	600	800	1000

Во табелата се дадени податоци за цената на црвена свила во зависност од нејзината должина.

Колку пари се потребни за 19 метри црвена свила?

Црвена свила (m)	8	12	16	20
Денари	400	600	800	1000

3. Математика - Задолжителен предмет

Прашање

Верица садела цвеќиња во градината. Во табелата се дадени податоците за бројот на засадените цвеќиња во зависност од времето. Колку цвеќиња ќе засади Верица за 30 минути?

Потребно време во минути	8	16	24	32
Број на засадени цвеќиња	16	32	48	64

Верица садела цвеќиња во градината. Во табелата се дадени податоците за бројот на засадените цвеќиња, во зависност од времето.

Колку цвеќиња ќе засади Верица за 20 минути?

Потребно време во минути	8	16	24	32
Број на засадени цвеќиња	16	32	48	64

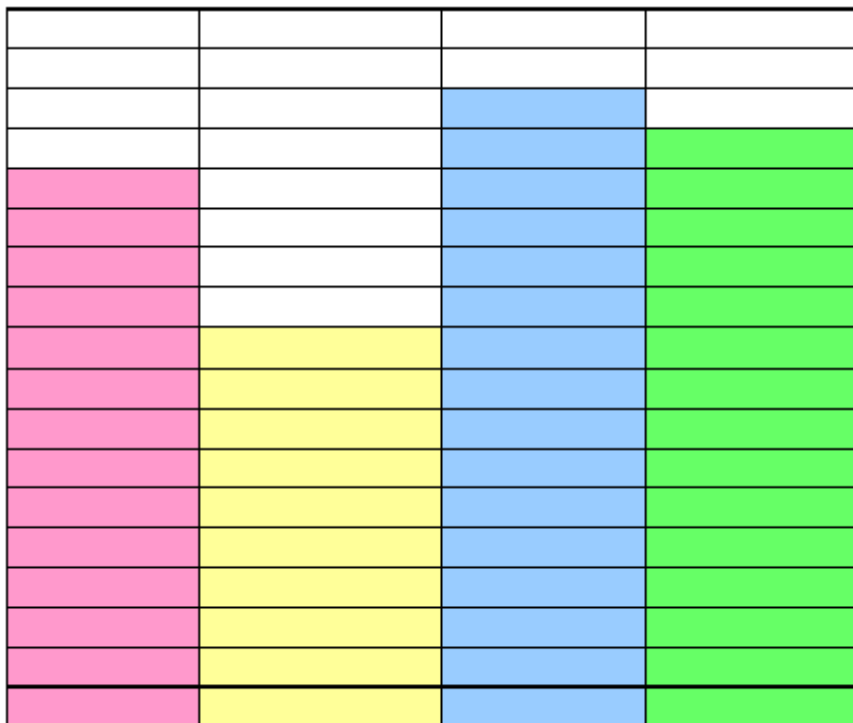
Во еден магацин се истоварени кутии со различни видови чоколади. Во табелата се дадени бројот на кутиите кои се истоварени во магацинот. Во секоја кутија има по 50 чоколади. Цената на обичната чоколада е 53 денари, на белата чоколада 56 денари и на темната чоколада 45 денари. Колку пари ќе се заработат ако се продадат сите чоколади кои се истоварени во магацинот?

Чоколада	Обично	Бело	Темно
Број на кутии	6	4	7

3. Математика - Задолжителен предмет

Прашање

Според дадените податоци, кој е најгледан филм?



Бетмен

Спајдермен

Щрек

Мадагаскар

3. Математика - Задолжителен предмет

Прашање

Во столбест дијаграм се претставени омилените овошја кај испитаните деца. Според податоците, определи го омиленото овошје на испитаните деца.



Во столбест дијаграм се претставени омилените овошја кај испитаните деца. Според податоците, определи кое овошје е најмалку застапено кај испитаните деца.

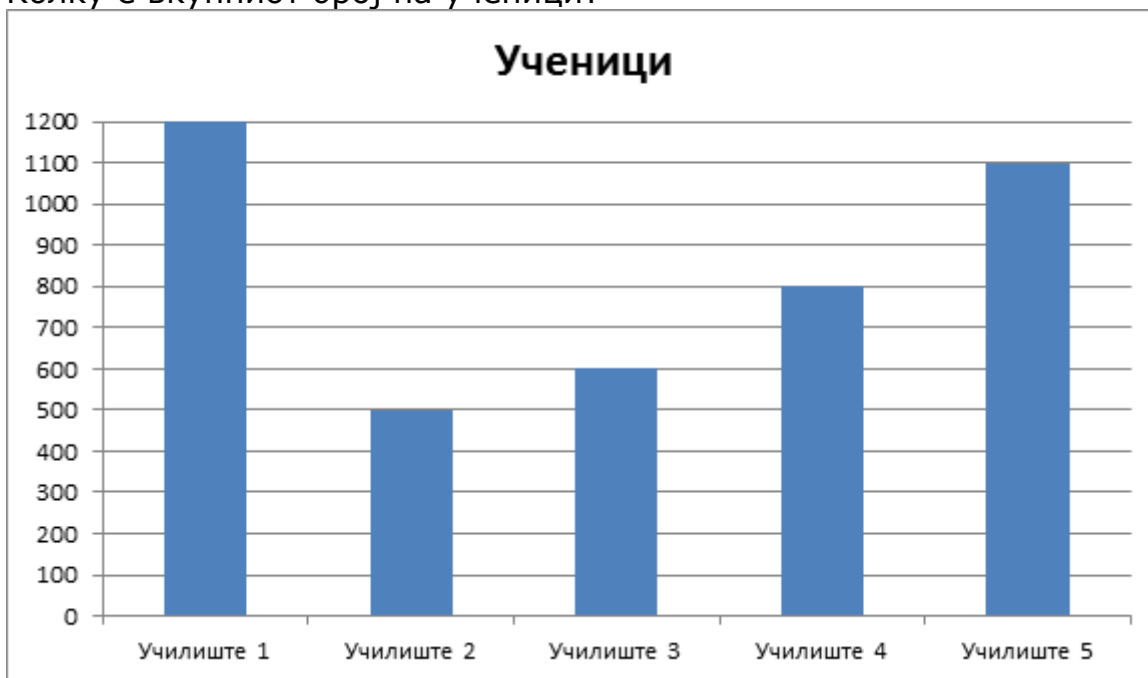


3. Математика - Задолжителен предмет

Прашање

На столбестиот дијаграм се претставени податоци за учениците кои учествувале на пролетниот крос.

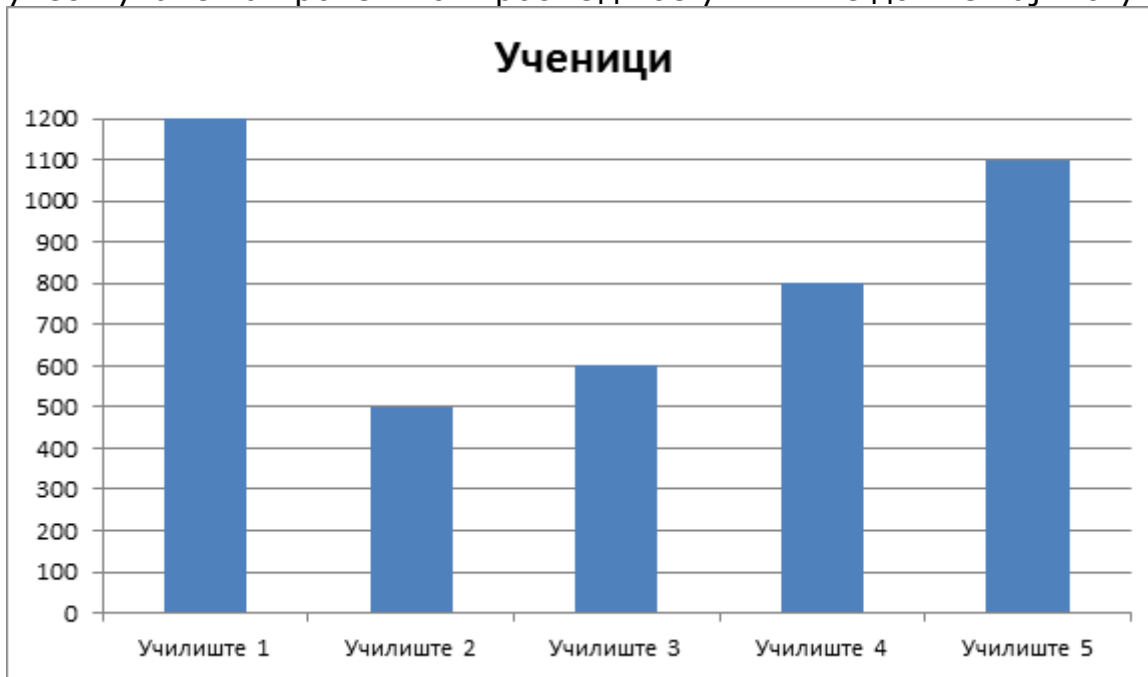
Колку е вкупниот број на ученици?



3. Математика - Задолжителен предмет

Прашање

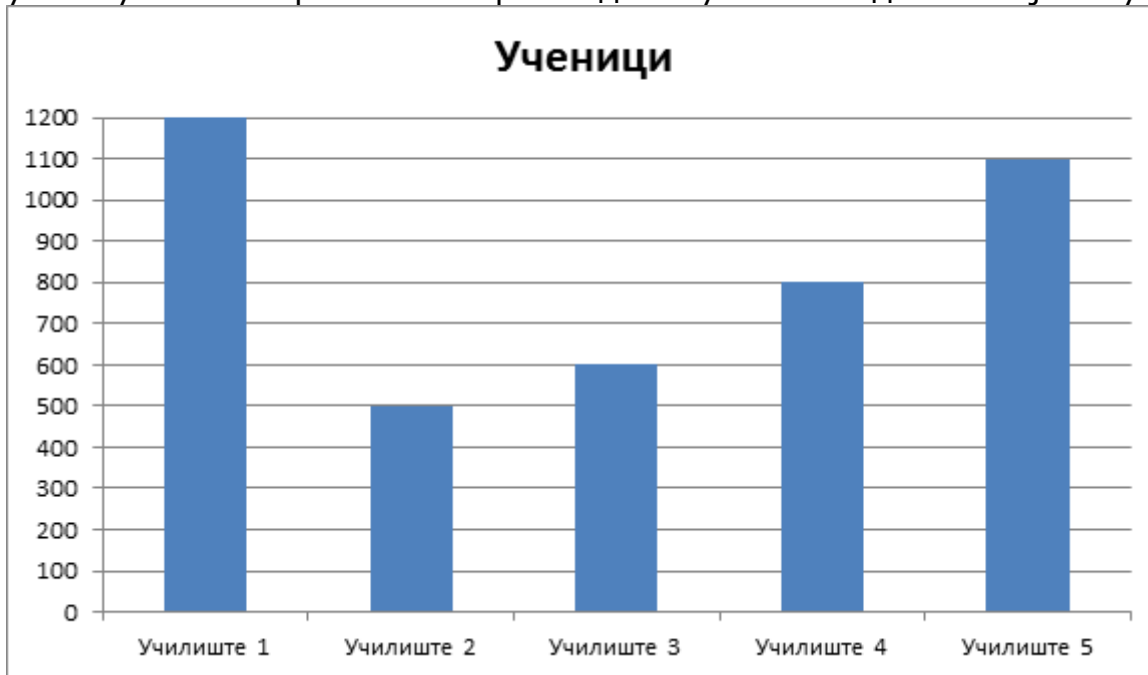
На столбестиот дијаграм се претставени податоци за учениците кои учествувале на пролетниот крос. Од кое училиште дошле најмногу ученици?



3. Математика - Задолжителен предмет

Прашање

На столбестиот дијаграм се претставени податоци за ученици кои учествувале на пролетниот крос. Од кое училиште дошле најмалку ученици?



3. Математика - Задолжителен предмет

Прашање

На следната табела се дадени податоци за победниците на трката „Тур де Франс“. Според податоците, определи кој велосипедист има најмалку победи.

Место	Име	Држава	Победа
1	Еди Меркс	 Белгија	34
2	Бернард Хиналт	 Франција	28
3	Марк Кевендиш	 Велика Британија	26
4	Андре Ледук	 Франција	25
5	Андре Даригад	 Франција	22

3. Математика - Задолжителен предмет

Прашање

На следната табела се дадени податоци за победниците на трката „Тур де Франс“. Според податоците, определи кој велосипедист има најмногу победи.

Место	Име	Држава	Победа
1	Еди Меркс	 Белгија	34
2	Бернард Хиналт	 Франција	28
3	Марк Кевендиш	 Велика Британија	26
4	Андре Ледук	 Франција	25
5	Андре Даригад	 Франција	22

На следната табела се дадени резултатите од натпревар во пливање на 100 метри. Според дадените податоци определи за колку време ја препливал патеката пливачот кој завршил трето место.

Место	Име	Држава	Резултат
1	Нејтан Адриан	САД	47.52 секунди
2	Џејмс Магнусен	Австралија	47.53 секунди
3	Брент Хејден	Канада	47.80 секунди
4	Јаник Агнел	Франција	47.84 секунди
5	Себастијан Вершурен	Холандија	47.88 секунди

3. Математика - Задолжителен предмет

Прашање

На следната табела се дадени резултатите од натпревар во пливање на 100 метри. Според дадените податоци определи за колку време ја препливал патеката пливачот кој завршил прво место.

Место	Име	Држава	Резултат
1	Нејтан Адриан	САД	47.52 секунди
2	Џејмс Магнусен	Австралија	47.53 секунди
3	Брент Хејден	Канада	47.80 секунди
4	Јаник Агнел	Франција	47.84 секунди
5	Себастијан Вершурен	Холандија	47.88 секунди

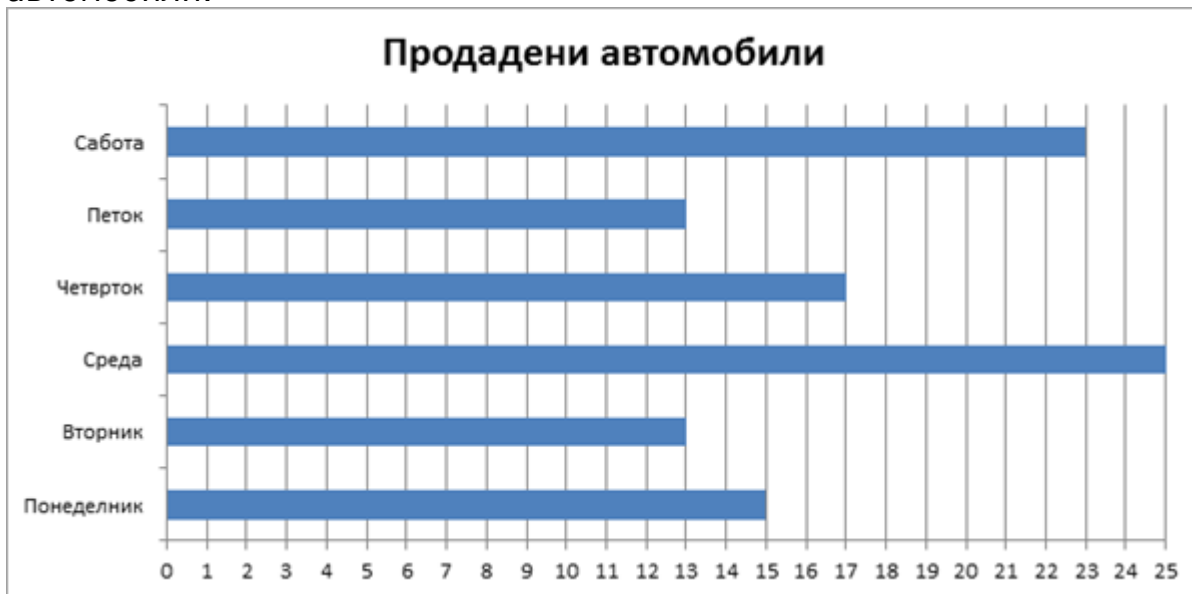
На столбестиот дијаграм е претставена продажбата на автомобили во еден салон. Според дадените податоци, определи во кои два дена се продадени еднаков број автомобили.



3. Математика - Задолжителен предмет

Прашање

На столбестиот дијаграм е претставена продажбата на автомобили во еден салон. Според дадените податоци определете во кој ден се продадени најмногу автомобили.



На столбестиот дијаграм е претставена продажбата на автомобили во еден салон. Според дадените податоци определете колку автомобили се продадени во двата дена со најголема продажба.



3. Математика - Задолжителен предмет

Прашање

На столбестиот дијаграм е претставен бројот на гледачи на филм во кино според видот на филмот. Според дадените податоци определите кој е најгледан вид.



3. Математика - Задолжителен предмет

Прашање

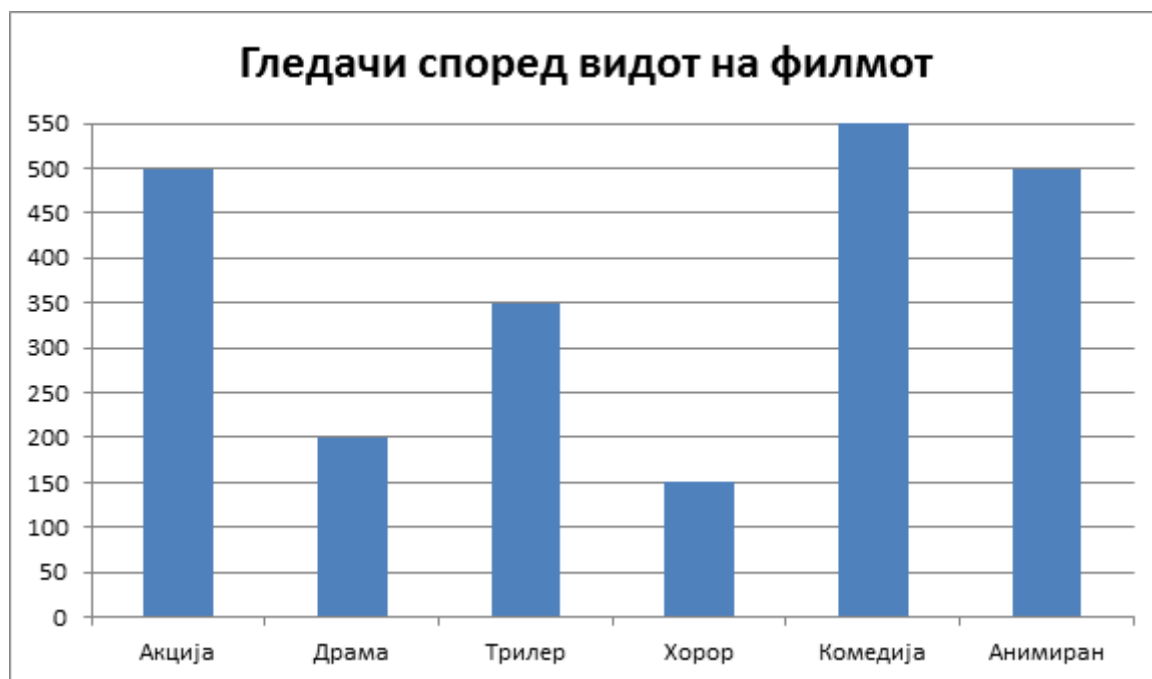
На столбестиот дијаграм е претставен бројот на гледачи на филм во кино според видот на филмот. Според дадените податоци определи кој е најмалку гледан вид.



3. Математика - Задолжителен предмет

Прашање

На столбестиот дијаграм е претставен бројот на гледачи на филм во кино според видот на филмот. Според дадените податоци определи кои два вида имаат ист број на гледачи.



3. Математика - Задолжителен предмет

Прашање

Во рок од 4 часа службеникот на наплатна рампа на автопат ги забележувал боите на автомобилите кои поминувале. Според собраните податоци, тој ја составил следната табела:

Според табелата определи која боја на автомобили била најбројна.

Бои на автомобилите кои поминувале	
Црвена	6
Сина	10
Жолта	1
Бела	8
Црна	10
Сребрена	12
Зелена	3

Во рок од 4 часа службеникот на наплатна рампа на автопат ги забележувал боите на автомобилите кои поминувале. Според собраните податоци тој ја составил следната табела: Според табелата, определи која боја на автомобилите била најмалку застапена.

Бои на автомобилите кои поминувале	
Црвена	6
Сина	10
Жолта	1
Бела	8
Црна	10
Сребрена	12
Зелена	3

3. Математика - Задолжителен предмет

Прашање

Во рок од 4 часа службеникот на наплатна рампа на автопат ги забележувал боите на автомобилите кои поминувале. Според собраните податоци тој ја составил следната табела: Според табелата определи кои две бои на автомобилите се подеднакво застапени.

Бои на автомобилите кои поминувале	
Црвена	6
Сина	10
Жолта	1
Бела	8
Црна	10
Сребрена	12
Зелена	3

Мустафа сакал да купи компири од пазарот. Продавачот му ја дал следната табела:

Колку пари ќе му бидат потребни на Мустафа за да купи 17 килограми компири?

Компири (kg)	8	12	16	20
Денари	200	300	400	500

3. Математика - Задолжителен предмет

Прашање

Мустафа сакал да купи компири од пазарот. Продавачот му ја дал следната табела:

Колку пари ќе му бидат потребни на Мустафа за да купи 21 килограм компири?

Компири (kg)	8	12	16	20
Денари	200	300	400	500

Мустафа сакал да купи компири од пазарот. Продавачот му ја дал следната табела:

Колку пари ќе му бидат потребни на Мустафа за да купи 14 килограми компири?

Компири (kg)	8	12	16	20
Денари	200	300	400	500

3. Математика - Задолжителен предмет

Прашање

Според податоците од метеоролошката станица во Прилеп составен е линиски дијаграм за врнежите на дожд во последните 6 месеци од годината. Според дадените податоци во кој месец наврнало најмногу дожд?



3. Математика - Задолжителен предмет

Прашање

Според податоците од метеоролошката станица во Прилеп составен е линиски дијаграм за врнежите на дожд во последните 6 месеци од годината. Според дадените податоци во кој месец наврнало најмалку дожд?



Според податоците на метеоролошката станица во Штип составена е табела за првата седмица од декември. Во кој ден ќе биде најтопло?

Температура за првата седмица од декември	
Понеделник	19°C
Вторник	17°C
Среда	21°C
Четврток	20°C
Петок	19°C
Сабота	18°C
Недела	15°C


3. Математика - Задолжителен предмет



Прашање

Според податоците на метеоролошката станица во Штип составена е табела за првата седмица од декември. Во кој ден ќе биде најладно?

Температура за првата седмица од декември	
Понеделник	19°C
Вторник	17°C
Среда	21°C
Четврток	20°C
Петок	19°C
Сабота	18°C
Недела	15°C

На оваа табела се претставени 400 ѓевреци што се продадени во првата недела и 150 ѓевреци што се продадени во втората недела, во една продавница за бели печива.

Кој е бројот означен со знакот  во табелата?

Прва недела	
Втора недела	



3. Математика - Задолжителен предмет

Прашање

Никола секој ден во седмицата запишувал колку луѓе купувале мед од еден маркет. Податоците ги претставил на следниот столбест дијаграм. Според дијаграмот одреди кој број недостасува во табелата.



Денови	Понеделник	Вторник	Среда	Четврток	Петок	Сабота	Недела
Број на купувачи на мед	35	25	5	?	20	30	10

3. Математика - Задолжителен предмет

Прашање

Никола секој ден во седмицата запишувал колку луѓе купувале мед од еден маркет. Податоците ги претставил на следниот столбест дијаграм. Според дијаграмот одреди кој број недостасува во табелата.



Денови	Понеделник	Вторник	Среда	Четврток	Петок	Сабота	Недела
Број на купувачи на мед	35	25	5	30	20	30	?

Во едно одделение од 28 ученици на тестот по математика постигнат е следниот успех:

Колку ученици на тестот по математика добиле Дobar 3?

Успех на тестот по математика	Одличен	Многу добар	Добар	Доволен	Недоволен
Број на ученици	5	10	?	4	3

3. Математика - Задолжителен предмет

Прашање

Во едно одделение од 28 ученици на тестот по математика постигнат е следниот успех: Колку ученици на тестот по математика добиле Многу добар 4?

Успех на тестот по математика	Одличен	Многу добар	Добар	Доволен	Недоволен
Број на ученици	5	?	6	4	3

4. Општество - Задолжителен предмет

Прашање

Кои се боите на знамето на Република Македонија?

Градот Скопје се наоѓа од левата и од десната страна на реката:

Република Македонија е богата и со води. Таа има:

Најмало природно езеро во Република Македонија е:

Најстар национален парк во Република Македонија, карактеристичен со ендемични растенија и ретки животни е:

4. Општество - Задолжителен предмет

Прашање

Кој ја создал првата словенска азбука глаголица?

Кој е носител на извршната власт во Република Македонија?

Соодносот помеѓу машкото и женското население во даден простор претставува:

Најголема рамнина во Република Македонија е:

Соседна земја на Република Македонија на југ е:

Знамето на Република Македонија е црвено, а од средината кон краевите распослано е:

Грбот на Република Македонија е обграден со венец исплетен со житно класје, афион и:

На кој континент се наоѓа Република Македонија?

Реката Вардар извира од силен извор кај селото Вруток кое се наоѓа во подножјето на :

Кое од наведените езера не е вештачко:

Втората балканска војна завршува со договор кој ја потврдил поделбата на Македонија. Тоа е договорот постигнат во:

Заседанието на АСНОМ на 2 август 1944 година е значајно за Македонија. На ова заседание едно од решенијата што се донесени е:

4. Општество - Задолжителен предмет

Прашање

По формирање на македонската држава на 2 август 1944 година за прв претседател бил избран:

Граѓаните на нашата држава на референдум се изјаснија за слободна, суверена, самостојна и независна Република Македонија на:

Кое од наведените места не е зимски туристички центар?

Институцијата во која се собираат, се средуваат и се чуваат книгите, а истите се даваат и на користење на читатели се нарекува:

Градот Скопје во 1963 година бил разрушен од страшен земјотрес, но со помош на луѓето од целиот свет повторно бил изграден. Затоа градот Скопје е наречен:

Лејла беше на летување на едно од нашите природни езера. Од брегот го здогледа малото островче, кое е единствен остров на водните површини на Република Македонија. Лејла прошета со мало бротче и при прошетката од стариот рибар дозна дека тоа островче е познато како Змиски Остров или како Голем Град. На кое езеро Лејла беше на летување?

Даме го слушаше раскажувањето на дедо Никола за илинденското востание. Тој му раскажа дека востаниците во Крушево користеле и топ. Како се вика познатото крушевско топче?

Група ученици ги посетија спомениците на плоштадот во Скопје. Наставникот, покажувајќи кон споменикот пред себе, рече дека тој бил политичар и патриот. Бил претседател на иницијативниот одбор за свикување на АСНОМ, претседател на Президиумот на АСНОМ. Борец за самостојна и обединета Македонија. Учениците го посетија споменикот и слушаа за:

4. Општество - Задолжителен предмет

Прашање

На фолклорен концерт беа претставени повеќе групи. Секоја од нив се претстави со песни и ора од својот народ. Едни носеа албански носии, други турски носии, трети ромски носии, имаше и со српски носии, бошњачки носии, влашки носии и други. Секоја група беше претставник на различна:

Кире со семејството живее во Прилеп. Неговата мајка работи во фабриката „Витаминка“ за производство на бонбони, а татко му работи во рудникот за мермер. Во која стопанска дејност работат родителите на Кире?

Ема слушна на временска прогноза дека во текот на утрешниот ден најтопло ќе биде во најјужниот дел на Република Македонија. Каде ќе биде најтопло?

Петре го посети вујко Коле во бачилото на Шар Планина. Тој го послужи со чаша млеко и со најубавото овчо бело сирење, кое сам го произведува од млекото од овците од своето стадо. Вујко Коле се занимава со:

Мајката на Љатифе секој викенд води групи на различни места, со кои посетуваат природни убавини, културни и историски знаменитости. Со што се занимава мајката на Љатифе?

Целото семејство Марковски горди на нивниот Сашко ќе одат на интернационалниот фестивал на филмска камера „Браќа Манак“ каде Сашко ќе добие награда. Во кој град ќе оди семејството Марковски?

Џемиле ги покани Ана и Маре кај неа на гости на Бајрам на најубавата турска баклава. На која религија и припаѓа Џемиле?

Марко беше најрадосниот на Божиќното утро, бидејќи на претходната Бадникова вечер нему му падна паричката во лепчето. На која религија припаѓа Марко?

4. Општество - Задолжителен предмет

Прашање

Збирот на сите особини: физички, психички, социјални, кои го прават човекот посебен, е карактеристика за:

Кога членовите си помагаат во група станува збор за:

Кога еден човек не е доволно социјализиран и ги задоволува само сопствените потреби и интереси, а не го почитува интересот на другите, тогаш станува збор за појава која се нарекува:

Која од наведените не претставува фактор на социјализација?

Сите деца имаат права, но и должности. Кое од наведените не претставува должност на децата?

Која од наведените претставува формална група?

Една од причините кај некое дете да се појави девијантно однесување е да:

Бојан секој ден неоправдано доцни на училиште. Тој се однесува:

Почитувањето на разликите на другите за секој човек претставува:

Трпеливоста, почитувањето на различностите на луѓето, како и почитувањето на правата на луѓето претставува:

Едно од правата на секое дете е:

4. Општество - Задолжителен предмет

Прашање

Во нашето маало се дозна дека некој ја ограбил продавницата. Човекот што го сторил тоа постапил:

Во училишниот двор играа група деца. Набрзо дојде Влатко и започна да им ја растура играта, па почна расправија, викање по малку и тепање. Што настана помеѓу децата во училишниот двор?

Како дел од културното наследство на Република Македонија се:

Една од старите сочувани тврдини се и Марковите Кули. Во кој град се наоѓаат тие?

Што претставува копаничарството?

Лицето кое се наоѓа на територија на една држава, а поседува државјанство на друга држава велиме дека е:

Една од институциите преку кои нашите иселеници одржуваат врска со татковината е:

Еден од симболите на Европската Унија е знамето. Тоа е составено од 12 жолтозлатни ѕвездички поставени на основа. Во каква боја е основата на знамето на Европската Унија?

4. Општество - Задолжителен предмет

Прашање

Помеѓу кои држави постои слободно движење на луѓето, стоките и капиталот ?

Агим од Струга отиде кај Наум на гости. Наум како добар домаќин го прошета низ своето родно место, па го однесе на повеќе места кои се од големо културно значење. Ја посетија Самоиловата тврдина и Плаошник. Во кој град живее Наум?

Нашата Република Македонија се стекна со статусот земја-кандидат за членство но, сè уште не е член во:

Соседна земја на Република Македонија на исток е:

Од кое езеро истекува реката Црн Дрим?

За празникот Бајрам се оди во:

Десет дена опстојала:

Кое езеро во Република Македонија е природно?

Еден од факторите за социјализација е:

Ајше и се пофали на Ана дека во недела со нејзините родители ќе го посети „Мечкин Камен“. Во кој град ќе оди Ајше?

4. Општество - Задолжителен предмет

Прашање

Демократско изјаснување на граѓаните за одредено прашање значајно за државата се вика:

Со поделбата на Македонија по Втората балканска војна јужниот дел од Македонија и припаднал на:

Скопје е главен град на:

Во кој дел на Европа се наоѓа Република Македонија?

Учениците од V-а одделение сакаат да научат нешто повеќе за животот на луѓето во подалечното минато. Што треба да посетат тие?

На твоите врсници како правило на однесување ќе им го препорачаш:

Денот на независноста на Република Македонија е:

4. Општество - Задолжителен предмет

Прашање

Кои се зимски туристички центри?

Солидарност е кога:

Кој е главен град на Република Македонија?

Бојан му се обрати со погрдни зборови на својот другар Емир. Тој покажа:

Иселувањето и доселувањето на населението од едно место на друго место се нарекува:

Зборот странец означува:

Соседни држави на Република Македонија се:

4. Општество - Задолжителен предмет

Прашање

На чело на првата македонска држава бил:

На 8 септември 1991 година Република Македонија стана:

Како се вика првата словенска азбука?

Која е најдолга река во Република Македонија?

Законодавноста, контролата и буџетот на Европската Унија се главни надлежности на:

На кои две локации се одвива работата на Европскиот парламент?

Кој зимски туристички центар се наоѓа во северозападниот дел на Република Македонија?

Белег на секоја етничка заедница е:

4. Општество - Задолжителен предмет

Прашање

На патот од Велес преку Битола до границата на соседна Грција , Никола ги посетил археолошките наоѓалишта:

На концертот во градот кој е во планински предел имало повеќе посетители отколку на концертот во градот кој е во рамнински дел на Република Македонија. Повеќе посетители имало во:

Собранието на Република Македонија избира:

Шарената џамија во Тетово ја карактеризираат:

За празникот Бајрам на честитање се оди кај припадниците на:

Што добиваме кога припаѓаме на одредена група?

Редовното одење на училиште за секое дете претставува:

Кои од наведените зборови означуваат конфликт?

Соседна земја на Република Македонија на запад е:

Република е облик на владеење каде што главниот збор го има:

4. Општество - Задолжителен предмет

Прашање

Со поделбата на Македонија по Втората балканска војна северниот дел од Македонија и припаднал на:

Семејството Фити живее во градот каде е прогласена првата Република на Балканот. Тие живеат во:

Во пелагониската котлина најмногу се одгледува:

Во кој дел на Балканскиот Полуостров се наоѓа Република Македонија?

Кој ѝ дал ново име на глаголицата?

Република претставува:

Химната на секоја држава претставува:

4. Општество - Задолжителен предмет

Прашање

Владата на Република Македонија ја избира:

Стопанската гранка која е насочена кон организирање патување и привремено сместување за рекреација, одмор, забава се нарекува:

Македонија кон крајот на XIV век била освоена од Османлиите и била во состав на:

Ослободителното движење во Македонија за време на османлиското владеење било со кревање востанија и буни. Најзначајно востание е:

По Втората светска војна Македонија е рамноправна република, сојуз од држави кои живеат заедно во составот на:

4. Општество - Задолжителен предмет

Прашање

Ресурсите од видот на реките, езерата, планините и рудниците нудат можности за развoтoк на земјата и претставуваат:

Пчеларите се занимаваат со одгледување на пчели и производство на мед. Во која група на стопанска дејност припаѓаат?

Во нашиот град има театар, кино и библиотека. Со посетата на овие институции граѓаните ги задоволуваат:

Марија доби братчиња близначиња. Тие се родија на 24.05 - на денот на создавачите на првата словенска азбука глаголица и добија имиња по нив. Имињата на близначињата се:

4. Општество - Задолжителен предмет

Прашање

Агим, Гонџа и Атанас се сретнаа на гласачкото место на општи и непосредни избори и тајно ќе гласаат за избор на личност кој ќе ја претставува Републиката во земјата и странство, а истовремено е и врховен командант на вооружените сили на Република Македонија. Агим, Гонџа и Атанас ќе гласаат за избор на:

Судир, расправија, борба, примена на сила, насилство, претставува:

Која од наведените групи претставува неформална група?

Во IV - А сите започнаа со решавање на писмената работа, а Емилија го пребаруваше ранецот за да најде молив. Синиша го забележа тоа, го зеде својот резервен молив и ѝ го даде на Емилија. Во овој случај Синиша беше:

Давид и Дарјан се најдобри другари. Тие се неразделни и секогаш заедно играат џамлии. Еден ден се скрши една од нивните омилене џамлии, па започна расправија и барање на виновникот. Многу се налутија еден на друг. Што треба да направат Давид и Дарјан за повторно да биде сè како порано?

4. Општество - Задолжителен предмет

Прашање

Елвис и Теодор учат во V одделение. Тие се добри ученици и не изостануваат од часовите. Тие исполнуваат една од обврските на ученикот, а таа е:

Со гордост ќе кажеме дека во Република Македонија ги имаме Скопското кале, Шарената џамија, Самоиловата тврдина, Камениот мост, Арабати баба теќе. Сите наброени се:

Во минатото во Македонија имало многу казанџии, грнчари, филигранџии, опинчари, шнајдери и друго. Сите овие биле:

Во музеите работат луѓе кои ги имаат сите информации, па им објаснуваат на луѓето сè во врска со некој стар предмет, документ, фотографија, ракопис и друго. Тие луѓе се:

4. Општество - Задолжителен предмет

Прашање

Сара оди во играорна група. Таа со нејзиното културно-уметничко друштво патуваше во Белгија и Франција. Сара и членовите на друштвото за време на престојот во овие земји се:

Пепа е родена и живее во Франција, но вели дека нејзина татковина е Македонија. Баба ѝ и дедо ѝ по потекло се од Македонија. За време на Балканските војни се иселиле од Македонија во Франција. Од кои причини се иселиле бабата и дедото на Пепа?

Знамето, грбот и химната на Република Македонија се:

Република Македонија е демократска држава со која:

4. Општество - Задолжителен предмет

Прашање

Штоја утврдува државната територија?

Ана живее во Република Македонија. Нејзините родители добија работа во Германија. Тоа значи дека нејзиното семејство треба:

Колку дена траела Крушевската Република?

Република Македонија НЕ е :

Во живинарски фарми се одгледува:

Зошто е значаен 2 август 1903 година за македонскиот народ?

Пратениците во собранието на Република Македонија ги избира:

4. Општество - Задолжителен предмет

Прашање

Врховен командант на вооружените сили на Република Македонија е:

Во Република Македонија живеат: Македонци, Албанци, Турци, Роми и припадници на други етнички заедници. Сите се жители на територијата на нашата држава. Тие претставуваат:

На плоштадите ширум Републиката на 8 Септември е собран многу народ. Тие прославуваат значаен ден од поновата историја. Несекаде се прославува:

Татко му на Марко има хотел со убав ресторан на брегот на Преспанското Езеро. Со која дејност се занимава тој?

Толеранција е почитување на:

Правата на децата се утврдени со:

4. Општество - Задолжителен предмет

Прашање

Ако во околината на едно дете преовладуваат негативни влијанија, а семејството не може да му овозможи топлина и хармоничен живот, детето доживува трауми па доаѓа до отстапување од општествените и културните правила. Оваа појава се нарекува:

Самоиловата тврдина се наоѓа во:

Која институција на Европската Унија решава спорови по тужби на државите членки и граѓаните чии права се повредени со некоја од одлуките на телата на Унијата?

Науката што се занимава со ископување и проучување на предметите на старите култури се вика:

Нина за време на летниот распуст беше во село. Таа брзо се спријатели со другарките на нејзина возраст. Ги научи истите игри, се однесуваше како нив, зборуваше исто. Кој фактор на социјализација имаше најголемо влијание?

4. Општество - Задолжителен предмет

Прашање

На часот по математика учениците сакаат брзо и успешно да ја завршат активноста во групата. Во тоа ќе им помогнат:

Госпоѓата Ивановска ја вратиле од граничниот премин кон Република Хрватска затоа што немала:

Што претставува криминалот?

За една личност велиме дека е егоист кога е:

Што од наведеното НЕ припаѓа во групата на мас-медиуми?

Во непосредна близина на градот Прилеп се наоѓа тврдината:

Република Македонија е суверена држава, а тоа значи дека е:

На 2 Август 1944 година е одржано Првото заседание на АСНОМ во манастирот:

Сара и Иван учат во исто училиште. Тие соработуваат, си помагаат и играат со своите врстници од различни етнички заедници. Како се однесуваат со соучениците?

4. Општество - Задолжителен предмет

Прашање

Химната на Република Македонија започнува со стихот:

Кој град е метропола на Република Македонија?

Нашата татковина Република Македонија е:

Која од заедниците НЕ претставува верска заедница?

Каква земја е Република Македонија?

Што од долунаведеното НЕ претставува рамнина?

Словените кои се населиле на Балканскиот Полуостров се наречени:

Во кој град се наоѓа Македонскиот народен театар?

Царот Самуил бил поразен во битката:

Првата балканска војна се водела помеѓу Османлиската Империја и:

Колку години траела Првата светска војна?

Претседателот на Република Македонија има мандат со траење од:

Владата на Република Македонија е носител на:

Државното знаме е на половина копје кога во државата:

4. Општество - Задолжителен предмет

Прашање

Балетот е сценско дело кое е придружувано од оркестар кој изведува класична музика, а истовремено во него се:

Која од следниве задачи е работа на Собранието на Република Македонија?

Вид на сценска уметност што се занимава со изведба на драмски текстови пред публика е наречена:

Судот како институција НЕ ги заштитува:

1. Со кој број е обележана Република Македонија на географската карта?

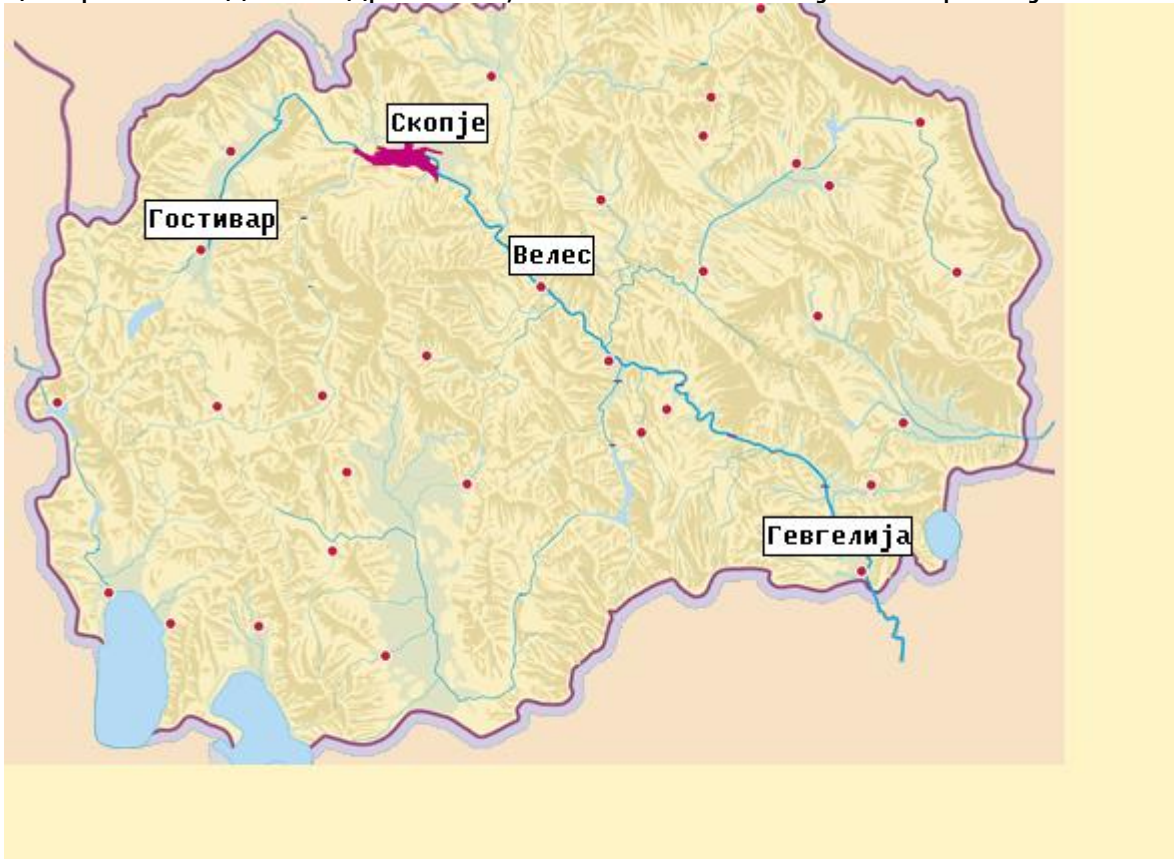


1. Петтоодделенците на ликовната секција го цртаа грбот на Република Македонија. Од околу нацртаа венец со житно класје, тутун, афион и народен орнамент. Што треба да нацртаат во средината?

4. Општество - Задолжителен предмет

Прашање

Реката Вардар извира кај селото Вруток и во најголемиот дел тече низ централниот дел на државата, а се влева во Егејско Море кај нашиот:



Најмногу се израдував кога прочитав дека македонската држава имала најголем успех кога владеел кралот кој има исто име со моето, а бил син на Филип II Македонски. Како се викам јас?

Во градскиот парк имаше изложба на воените средства со кои располагаат воените сили на Република Македонија чиј врховен командант е:

За Петровден традиционално Галичник е преполн со гости од земјава и странство за да присуствуваат на настанот кој е карактеристичен за Галичник. Тие присуствуваат на:

4. Општество - Задолжителен предмет

Прашање

Семејството Поповиќ го посетило градот каде се склучил договорот со кој завршила Втората балканска војна и се потврдила поделбата на Македонија. Тоа е градот:

Најубавото сирење ми е малешевското од кај дедо Трајан што ги чува овците на Малешевските Планини. Во кој дел на Република Македонија ги чува овците дедо Трајан?

Што овозможува непречено одвивање на активностите во училницата?

Збирот на сите особини (физички, психички, социјални) кои го прават човекот посебен ја карактеризираат:

Солидарноста претставува:

1. Наркоманијата е девијантно однесување и подразбира:

Рамноправноста претставува почитување на:

Кое од наведените НЕ претставува човеково право?

Никола им кажал на своите соученици дека во неговото соседство живее многу сиромашно семејство со мали деца. Јана предложила да соберат своја облека, играчки и сликовници за тие деца. Сите се согласиле со предлогот и за два дена тоа и го направиле. Што покажале соучениците на Никола?

4. Општество - Задолжителен предмет

Прашање

Група ученици добиле задача да направат постер со туристичките центри во Република Македонија. Тие се договориле некои да проучуваат текстови, други да разговараат со родителите, а некои да соберат фотографии од познатите туристички центри. Постерот го презентирале пред соучениците и биле пофалени од наставничката. Зошто оваа група брзо и успешно ја завршила задачата?

Наставничката на час по општество ги поделила учениците на четири групи и им дала задача нешто да истражуваат. Што треба да прават Фатиме и Демир кои се членови на една од групите?

Бобан му се обрати со погрдни зборови на својот другар Емир. Тој покажа:

Учениците од Va одделение изморени се враќаат од настава во природа. Во автобусот сите ученици заспиваат, а на Филип не му се спие и тој пушта гласна музика што најмногу му се допаѓа. Како може да се нарече однесувањето на Филип?

Големо културно наследство на Република Македонија НЕ претставуваат:

Најстара опсерваторија во близина на градот Куманово е:

Луѓето кои под влијание на христијанската култура создавале фрески и живописи со огромна уметничка вредност се викаат:

Значаен дел од културата на еден народ се:

Пронаоѓалиште на остатоци од мозаици и скулптури што датираат од античкиот период е:

4. Општество - Задолжителен предмет

Прашање

Исламот има силно влијание врз културното наследство, особено во архитектурата. Во оваа група НЕ спаѓаат:

Во едно училиште учениците се запознаваат со обичаите и легендите за нивното родно место, ги учат народните песни и ора и се договараат да го презентираат наученото на прославата во училиштето. Тоа што го прават учениците значи дека го негуваат:

Учениците треба да одат да посетат познато археолошко наоѓалиште во Република Македонија. Наставничката ги потсетува правилно да се однесуваат кога ќе стасаат таму. Што им кажала наставничката?

Г-дин Ѓорѓи работи во музеј и ги има сите информации, па им објаснува на луѓето сè во врска со некој стар предмет, документ, фотографија, ракопис и друго. Тој е:

Во групата на мас-медиуми како фактори за социјализација не спаѓа

Мартина има свој дневник кој никој не го чита тајно, Фатмир има своја соба и кога некој сака да влезе чука на вратата, а Дерја има мобилен телефон но каде и да го остави никогаш никој не и ги чита нејзините пораки. На овие деца им се почитува правото на:

Културно - историското наследство во Република Македонија се прибира, се чува и се презентира во:

Мустафа е државјанин на Република Турција, а допатувал во Република Македонија за да ги разгледа нејзините убавини. Тој во Република Македонија е:

5. Природни науки - Задолжителен предмет

Прашање

Во каква агрегатна состојба е водната пара?

Како се нарекува гасот што се создава при испарување на водата?

Процесот при кој некоја материја преминува од течна во гасовита агрегатна состојба се нарекува:

Процесот при кој гас се претвора во течност се вика:

Обратен процес на кондензација е:

Колку изнесува температурата на мрзнење на чистата вода?

Колку изнесува температурата на вриење на чистата вода?

5. Природни науки - Задолжителен предмет

Прашање

Ако некоја материја добро се раствора во вода тогаш велиме дека таа е:

Ако некоја материја не се раствора во вода тогаш велиме дека таа е:

Обратен процес на испарување е:

Во која агрегатна состојба растојанијата меѓу честичките на некоја одредена материја се најголеми?

Во еден сад се наоѓа обична вода која се загрева и врие. Меурчињата кои притоа се образуваат се направени од:

На бетонот од некој училиштен двор има локва вода. Во текот на ведар

сончев ден локвата се намалува бидејќи:

5. Природни науки - Задолжителен предмет

Прашање

Водната пара кондензира во:

На кој процес се должи образувањето капки вода на огледалото во бања кога некој подолго користи жешка вода?

Што се случува со водната пара кога се лади?

Што се случува со водата кога врие?

Во еден сад се наоѓа еден литар вода. Во водата се додава еден грам готварска сол која притоа целосно се раствора. Со растворање на готварската сол во водата се создава:

Во кој од понудените одговори е наведена материја која не се раствора во вода?

5. Природни науки - Задолжителен предмет

Прашање

Која од наведените материи се раствора во вода?

Земајќи го предвид водниот циклус, одговори како настануваат облаците.

Во чаша од 100 ml ставени се 10 ml алкохол за дезинфекција на рани. Чашата со алкохолот е поставена во топла просторија и воедно кон нејзиниот отвор дува вентилатор. Што очекуваш дека ќе се случува со алкохолот со текот на времето ?

Во кој од наведените случаи е наведен начин на кој најбрзо ќе исушиш една точно одредена водена коса долга околу 30 cm и во сите случаи си во точно одредена просторија со одредена температура, вентилација и влажност на воздухот ?

5. Природни науки - Задолжителен предмет

Прашање

Во кој од наведените случаи најбрзо ќе се исуши една точно одредена водена кошула?

Стаклено шише во кое има сок се чува подолго време во фрижидер. Потоа шишето се вади од фрижидер во топла просторија. По извесно време, на надворешните ѕидови од шишето ќе се појави вода затоа што:

Еден студен есенски ден Андреј влегол во својот автомобил. Тој забележал дека внатрешната страна од прозорците на автомобилот се замаглени, т.е. на нив има водни капки, иако сите прозорци биле добро затворени. Зошто е тоа така?

Кај која од наведените смеси состојките може да се одделат со користење на сито чии отвори гледано одгоре се во форма на квадрат со страна 1

**mm
?**

5. Природни науки - Задолжителен предмет

Прашање

Кај која од наведените смеси состојките може да се одделат со користење на инка и филтерна хартија?

Морска вода е ставена во чинија и изложена на сонце. Што ќе остане во чинијата после извесно време откако целата вода ќе испари?

Во еден сад во кој има вода растворена е готварска сол. Со кој од наведените начини може да се одделат солта и водата од нивната смеса?

**Зракот светлина може да го обиколи светот 7 пати
:**

**Најголем природен извор на светлина е
:**

**Белата сончева светлина ги содржи
:**

5. Природни науки - Задолжителен предмет

Прашање

Белата светлина може да се разложи на различни бои кога минува низ
:

Што не е извор на светлина?

Предметите кои ја пропуштаат светлината се
:

Брзината на светлината изнесува
:

Светлината се шири
:

Кога светлината се одбива од предмет, велиме дека се
:

5. Природни науки - Задолжителен предмет

Прашање

**Телата ги гледаме затоа што до нашите очи доаѓа
:**

**Светлината од Сонцето до Земјата стигнува за
:**

Кои од наведените одговори претставуваат три извори на светлина?

Кои материјали се непроѕирни?

Што се случува зад некој повисок ѕид може да се види со:

За предметот кој што го гледаме црн важи дека:

5. Природни науки - Задолжителен предмет

Прашање

За предмет кој што го гледаме бел важи дека:

Кога се формира сенка на даден предмет?

Кога светлински зрак се рефлектира:

**Огледало се користи во
:**

**За да гледаме зад нас, околу предметите и над предметите ни
помагаат:**

**Перископ користат
:**

5. Природни науки - Задолжителен предмет

Прашање

Црвена кошула ја гледаме како црвена бидејќи:

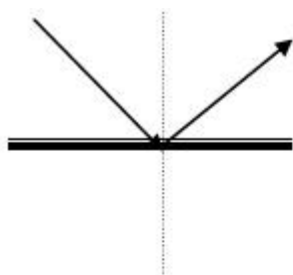
5. Природни науки - Задолжителен предмет

Прашање

На сликата подолу е претставено:

Упаден зрак

Одбиен зрак



5. Природни науки - Задолжителен предмет

Прашање

Светлинскиот зрак кој паѓа на огледалото се вика:

Светлинскиот зрак кој се одбива од огледалото се вика:

Аголот кој го зафаќаат упадниот (ударниот) зрак врз огледалото и нормалата на огледалото се вика:

Аголот кој го зафаќаат одбиениот (рефлектираниот) зрак од огледалото и нормалата на огледалото се вика:

Предметите кои се осветлени од Сонцето формираат сенки кои се најмали:

Кој исказ не е точен?

5. Природни науки - Задолжителен предмет

Прашање

Земјата се врти околу својата оска за време од:

Патеката на Земјата околу Сонцето се вика:

Земјата прави едно завртување околу Сонцето за време од:

Планетата Нептун го обиколува Сонцето (мерено според Земјата) за:

Која планета за најкратко време го обиколува Сонцето?

Сончевиот систем има:

Кои планети се поблиску до Сонцето во споредба со Земјата до Сонцето?

5. Природни науки - Задолжителен предмет

Прашање

Центар на Сончевиот систем е:

Месечината ја гледаме затоа што:

Најдалеку од Сонцето е планетата:

Најблиску до Сонцето е:

Земјата се врти околу својата оска со брзина од:

Најголемо небесно тело е :

5. Природни науки - Задолжителен предмет

Прашање

Нашето Сонце се наоѓа во галаксијата:

За набљудување во вселената се користат:

Првиот телескоп го конструирал:

Во различни делови од светот денот и ноќта настануваат:

Избери го точниот исказ:

Годишните времиња на Земјата зависат од:

5. Природни науки - Задолжителен предмет

Прашање

Престапна година е секоја:

Зошто планетата Земја е единствена планета на која има живот?

Која планета има највисока температура?

Најниска температура има планетата:

Четирите планети најблиски до Сонцето се:

Телескопот Хабл може да гледа на оддалеченост од:

5. Природни науки - Задолжителен предмет

Прашање

За планетите е важно дека:

Земјата има:

За да се формираат сенки, предметите треба да се:

Кога сенката е најкратка и Сонцето е директно над тебе, тогаш е:

Кој од наброените предмети е просирен?

Најдобри сенки прават:

5. Природни науки - Задолжителен предмет

Прашање

Кога светлината е блокирана од некој предмет се формира:

Кој исказ е точен:

Во текот на денот сенките на предметите осветлени од Сонцето:

Јачината на светлината се намалува ако:

Секој извор кој што емитува светлина се карактеризира со:

За мерење на јачината на светлината се користи:

5. Природни науки - Задолжителен предмет

Прашање

Фотодиодата работи на принципот:

Мерачи на светлина се користат кај:

Според стариот англиски начин на мерење на светлината таа се изразувала во:

Кога предметот се оддалечува од изворот на светлина, сенката:

Кога предметот се доближува до изворот на светлина, сенката:

Можеш да направиш 3D очила со:

5. Природни науки - Задолжителен предмет

Прашање

Според големината и насоката на сенката на стапчето осветлено од Сонцето може да се одреди:

На сликата подолу е прикажан:



5. Природни науки - Задолжителен предмет

Прашање

Јачината на светлината која е потребна за читање и учење изнесува:

Кога се оддалечуваме од изворот на светлина, тогаш јачината на светлината:

Големината на сенките во текот на денот се менува поради:

Куклите за сенки треба да се прават од:

Кај прозрачните материјали можеме да гледаме облици од другата страна. Пример за прозрачни материјали се:

Светлина е потребна за да функционира:

5. Природни науки - Задолжителен предмет

Прашање

Што треба да направиш за да се зголеми сенката на куклата на платното?

Кога човек јаде доволна е светлина со ниво на јачина:

Како се викаат машките полови органи кај растенијата?

Кој растителен орган ја пренесува водата од коренот до сите делови на растението?

**Машките полови
клетки
кај растенијата се нарекуваат:**

Кој растителен орган ја вшмукува водата од почвата?

Коренот на растението расте во насока:

5. Природни науки - Задолжителен предмет

Прашање

Кој од наведените поими се однесува на дел од женскиот репродуктивен систем на растението?

Растенијата можат да бидат опрашени од инсектите или од:

Кој од наведените фактори е потребен за расејување на семињата кај врбата?

Што претставува цветот кај крушата?

Коренот, стеблото и листот кај сливата претставуваат:

5. Природни науки - Задолжителен предмет

Прашање

Кој од следниве поими го означува излегувањето на никулецот од семето?

Која функција не ја извршува стеблото на сончогледот ?

Што би се случило ако не се размножуваат растенијата и животните?

Кој од наведените одговори го опишува процесот оплодување?

5. Природни науки - Задолжителен предмет

Прашање

**Што претставува к
оренот
кај црештата?**

На кој дел на цветот треба да бидат пренесени поленовите зрнца за да се случи процесот на опрашување?

**Одбери го најсоодветниот опис на процесот
'ртење.**

Процесот на спојување на машката и женската полова клетка се нарекува:

Пренесувањето на поленовиот прав од прашниците до устенцето на толчникот е познато како:

**Во процесот на размножување кај растенијата цветници учествуваат
:**

5. Природни науки - Задолжителен предмет

Прашање

Кој дел од цветното растение се создава во плодот?

Поленовите зрнца се сместени во _____ на растението.
Кој е поимот што недостасува?

Кој од дадените искази за опрашувањето е точен?

Која од наведените фази не припаѓа на научноистражување?

Кај кое растение цветовите
видливо
се движат кон светлината
во текот на денот
?

5. Природни науки - Задолжителен предмет

Прашање

Каде се наоѓаат поленовите зрнца на буката ?

Кој растителен орган кај липата учествува во оплодувањето?

Кога семето на гравот 'рти, кој е првиот орган на растението кој се создава од семето?

Растенијата коишто цветаат создаваат семиња кои можеби никогаш нема да изртат во растение. На што се должи таквата појава?

Зошто цветовите на сливата во цут имаат венечни ливчиња?

Кој растителен орган на јоргованот учествува во опрашувањето?

5. Природни науки - Задолжителен предмет

Прашање

Која од наведените функции не ја извршува коренот на компирот ?

На кој од наведените растителни органи не му припаѓа функцијата која му е доделена?

Плодот кај јаболкото е орган на растението кој служи за:

Група ученици го истражуваат процесот на 'ртење на семе од грав. Што од наведените фактори не му е потребно на семето од грав за непречено да из'рти?

Која од наведените низи го покажува точниот редослед на животниот циклус кај растенијата?

5. Природни науки - Задолжителен предмет

Прашање

Во цветот на една овошка доаѓа до пукање на прашникот и ослободување на поленовите зрна, кои се пренесуваат на устенцето на толчникот од истата овошка. За каков процес станува збор?

Цветот на глуварчето преку ден е отворен, а преку ноќ се затвора. Што му овозможува таа прилагодба на глуварчето?

Објасни зошто пеперутката ги користи крилјата во процесот на опрашување?

Дрвото на праската има миризливи цветови од кои се добиваат сочни плодови. Која е главната улога на цветовите на праската?

Кои животни учествуваат во пренесувањето на семињата од бобинките од родителското растение до некоја друга област?

5. Природни науки - Задолжителен предмет

Прашање

Ученици поставиле идентични кругови од обоена хартија во различни бои. Во текот на денот го бележале бројот на пчели кои ги посетиле обоените кругови. Тој ден пчелите направиле 120 посети на белите, 80 на сините, 75 на розовите и 50 посети на жолтите кругови. Што можат да заклучат учениците од овој експеримент?

Кај кои живи организми се одвива фотосинтезата?

Зошто на растенијата им е потребна светлина?

Кој растителен орган е клучен за фотосинтезата?

Кој од следните гасови го користат растенијата во фотосинтезата?

Водата, јаглерод диоксидот и сончевата енергија се:

5. Природни науки - Задолжителен предмет

Прашање

Што претставуваат шеќерот и кислородот кај растенијата?

Која е функцијата на зелените растенија?

Во кој растителен орган на костенот се одвива фотосинтезата?

Кои делови на вишната создаваат семиња и плодови?

Која истражувачка вештина ти помага за да ја пронајдеш големината на едно дрво?

Која истражувачка вештина ја користиш за да одредиш кои растенија се слични или различни меѓу себе?

5. Природни науки - Задолжителен предмет

Прашање

Што ќе се случи доколку растението го оставиме еден месец без вода?

Што ќе се случи доколку растението го оставиме неколку дена на темно?

Процесот кога се размислува за нешто што би можело да се случи во текот на едно истражување се вика:

Организираниот начин за собирање информации и одговарање на прашања се вика:

Процесот којшто се спроведува во одредени услови за да се тестира одредена хипотеза се вика:

**Кој ш
еќер
се добива во процесот на фотосинтеза кај растенијата?**

5. Природни науки - Задолжителен предмет

Прашање

Користењето на едно или повеќе сетила за да се соберат одредени информации за одредени цветни растенија во истражувачкиот процес се вика:

Доколку си добил одговор на одредено истражување, поддржано со докази, тогаш твоето прашање во истражувачкиот процес е:

Факторот кој во текот на еден експеримент може да се менува уште е познат како:

Факторот кој се користи во еден експеримент и кој покажува дека резултатите од тој експеримент се резултат на условите кои биле тестирани уште се вика:

Променливата во процесот на истражувањето која претставува вредност која се менува се вика:

Променливата во процесот на истражување која претставува вредност која се мери уште се вика:

5. Природни науки - Задолжителен предмет

Прашање

Што се случува доколку домотите се посадени преблиску?

Опреди го зборот кој недостасува во следниот исказ: Јаглерод диоксид + _____ + енергија = Кислород + Глукоза.

Што ќе се случи со сарделата која подолго време ја полеваш со многу вода?

Што се случува за време на фотосинтезата во листот на лимонот?

Опреди го точниот исказ кој се однесува на храната што ја создаваат растенијата.

Што се случува нападне во листовите на дабот?

Млади овошни насади на сливи можат да вршат фотосинтеза затоа што:

5. Природни науки - Задолжителен предмет

Прашање

Кој процес се одвива во листовите на сончогледот наутро, штом ќе огрее сонцето?

**Кои три работи
и
се потребни на
зелката
за да создава храна?**

Што му е потребно на семето од пченица за да из'рти?

**Од каде доаѓа е
нергијата
за ф
отосинтезата
која се одвива кај магдоносот?**

5. Природни науки - Задолжителен предмет

Прашање

Еден ученик истражувал како различните бои на светлината влијаат на растот на растенијата. Тој ставил ист број семиња во три идентични садови со ист вид и количина на почва. Потоа, ги полевал со иста количина вода на секој трети ден додека траел експериментот. Првиот сад бил сместен во темен ормар, вториот бил ставен на прозорец, а третиот бил ставен под ламба со зелена светилка. Ученикот ја мерел висината на секое растение секој ден во текот на три месеци. Која е независната променлива во овој експеримент?

Еден ученик сака да стави цвеќе на прозорец. Избраниот прозорец е постојано во сенка од големиот орех кој со години расте во дворот. Која карактеристика на растението најмногу ќе делува на растот на цвеќето кое ќе расте на тој прозорец?

Група ученици ќе го мерат и забележуваат растот на две цветни растенија секој ден во наредните 10 дена. Секое цвеќе ќе го полеваат со 200 мл вода, но на едното ќе му ставаат една лажица ѓубриво. Врз основа на овие информации, што сакаат да тестираат овие ученици?

5. Природни науки - Задолжителен предмет

Прашање

Еден научник сакал да ја одреди јачината на светлоста при која продуктивноста на фотосинтезата на водните растенија би била најголема. Го менувал интензитетот на светлината и ја мерел количината на одвоениот гас. Која е зависната променлива во овој експеримент?

Група ученици со помош на својот наставник повторувале за процесот на фотосинтеза. Донеле неколку заклучоци поврзани со него. Еден заклучок не е точен. Кој?

Кои две состојки се продукти од фотосинтеза та што се одвива кај сарделата ?

Десет стебленца од домати се одгледуваат на шест различни температури (5, 10, 15, 20, 25, 30°C). Растенијата остануваат на одредената температура во времетраење од 12 дена. Сите други услови се исти за сите садници. Растот на стеблото на домати на секоја од одредените температури изнесува 2 mm, 9 mm, 15 mm, 20 mm, 22 mm, 22 mm. Кое тврдење би било најдобра хипотеза која би се однесувала на овој експеримент?

5. Природни науки - Задолжителен предмет

Прашање

Ученик го проучува растот на две бегонии, при што користи исти саксии и иста почва, саксии се поставени на исто место, со подеднаква изложеност на светлина. Едното растение го полева секој ден, додека другото секој втор ден. Што во овој експеримент претставува зависна променлива?

Непровидни материјали се:

Смеса се состои од вода, песок и растворена готварска сол. Кои методи ќе ги примениш и по кој редослед за да ги одделиш водата, песокот и солта?

Во каква агрегатна состојба се наоѓа водата на температура од 300°C ?

Избери кој од исказите не е точен?